

**C.A.P.**  
**DÉMÉNAGEUR PROFESSIONNEL**  
**SESSION 2004**

**CE SUJET SE COMPOSE:**

- D'UN DOCUMENT RESSOURCES REPÉRÉ "DR 1 À DR 4"
- D'UN DOCUMENT TRAVAIL REPÉRÉ "DT 1 À DT 11"

<b>PRÉPARER LE DÉPLACEMENT</b>	...../ 60
<b>PRÉPARER L'EMBALLAGE</b>	...../ 30
<b>PRÉPARER LE DÉMONTAGE</b>	...../ 40
<b>PRÉPARER LE CHARGEMENT</b>	...../ 20
<b>TOTAL</b>	...../ 150
<b>NOTE FINALE</b>	...../ 20

**DOCUMENT TRAVAIL**

Académie de Caen	C.A.P. Session 2004	Déménageur professionnel
Durée 1 h 30		EP 2 Technologie Professionnelle
Document travail	DT 1 / 11	N° de candidat _____

On donne:

- le dossier ressources DR 2 - DR 3 - DR 4
- une carte routière de France (échelle: 1/1 000 000)
- trois tableaux intitulés: itinéraire, calcul et documents, DT 3
- un feuillet quotidien, DT 4/11

On demande: sur DT 3/11; DT 4/11

- d'établir l'itinéraire, sans autoroute à péage, et de renseigner le tableau du même nom en indiquant les villes intermédiaires où vous changez d'axe routier
- de calculer
  - 1) la charge utile du véhicule
  - 2) la consommation du véhicule, au 100 km, pour ce parcours
  - 3) le temps de conduite à prévoir
- d'inscrire les documents de bords dans l'une des trois catégories proposées DR 3
- de renseigner le feuillet quotidien

On exige:

- un itinéraire optimisé à 5 kilomètres près
- le poids exact de la charge utile en kilos
- la consommation du véhicule arrondie au litre
- le temps de conduite à 5 minutes près
- la répartition des documents de bord sans erreur et sans oubli
- le feuillet quotidien est renseigné conformément à la législation et tient compte de la distance calculée sur le DT 3/11

-----/ 60

Académie de Caen	C.A.P. Session 2004	Déménageur professionnel
Durée 1 h 30		EP 2 Technologie Professionnelle
Document travail	DT 2 / 11	N° de candidat _____

Itinéraire

ville de départ:	
n° de l'axe routier:	distance:
ville intermédiaire n° 1:	
n° de l'axe routier:	distance:
ville intermédiaire n° 2:	
n° de l'axe routier:	distance:
ville intermédiaire n° 3:	
n° des axes routiers:	distance:
ville intermédiaire n° 4:	
n° de l'axe routier:	distance:
ville d'arrivée:	
<b>distance totale:</b>	

Calcul

La charge utile de ce véhicule est de: \_\_\_\_\_ kg

Sa consommation arrondie est de: \_\_\_\_\_ litres /100 km

À 60 k/h de moyenne le temps de conduite est de: \_\_\_\_\_ heures \_\_\_\_\_ minutes





Documents





Documents de bord		
Conducteur	Véhicule	Marchandise

Académie de Caen	C.A.P. Session 2004	Déménageur professionnel
Durée 1 h 30		EP 2 Technologie Professionnelle
Document travail	DT 3 / 11	N° de candidat _____

1 - LIVRET N° 044998

2 - N° d'immatriculation du (des) véhicule (s)	<b>1. FEUILLET QUOTIDIEN</b>	3 - Jour et date :
N° 03		





	0	1	2	3	4	5	6	7	8	9	10	11	12
4 													
5 													
6 													
7 													

	12	13	14	15	16	17	18	19	20	21	22	23	24
4 													
5 													
6 													
7 													

8. Lieu de prise de service :

9. Lieu de cessation de service :

10. Poids maximal autorisé  
du véhicule :

			Nombre d'heures
11. Compteur kilométrique : Fin de journée	km	A 	
Debut de journée	km	B 	
Parcours total	km	C 	
		D 	
12. Observations et signature			Total E = A + B + C

Feuillelet blanc : entreprise

Feuillelet vert : salarié

Académie de Caen	C.A.P. Session 2004	N° de candidat _____
Durée 1 h 30		EP 2 Technologie Professionnelle
Dossier réponses	DT 4 / 11	Déménageur professionnel

On donne:

- des photos d'objets DT 6/11
- des photos de matériels DT 6/11

On demande:

- de nommer chaque objet et matériel
- d'associer à chaque matériel le numéro de l'objet pour lequel il est conçu










On exige:

- le nom précis de chaque
  - 1) objets
  - 2) matériels
- une seule association par objets
- les matériels d'emballages les mieux adaptés aux objets










..... / 30

Académie de Caen	C.A.P. Session 2004	Déménageur professionnel
Durée 1 h 30		EP 2 Technologie Professionnelle
Document travail	DT 5 / 11	N° de candidat _____

## Photos d'objets et numéros

		
1	2	3
		
4	5	6
		
7	8	9

## Photos de matériels

Sources des schémas catalogues publicitaires FMD, Fine cœur, Weldom.

Académie de Caen	C.A.P. Session 2004	Déménageur professionnel
Durée 1 h 30		EP 2 Technologie Professionnelle
Document travail	DT 6 / 11	N° de candidat _____

On donne:

- un extrait de notice technique d'un mobilier de bureau (bureau d'ordinateur) DT 7/11
- un questionnaire
- un tableau

On demande:

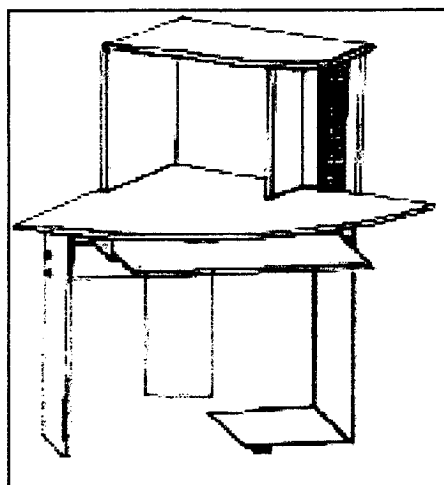
- d'analyser le document
- de numéroté , dans les bulles, les panneaux de l'objet dans l'ordre de démontage DT 7/11
- de décoder des symboles DT 8/11
- de nommer, dans le tableau, les pièces de quincaillerie DT 9/11

On exige:

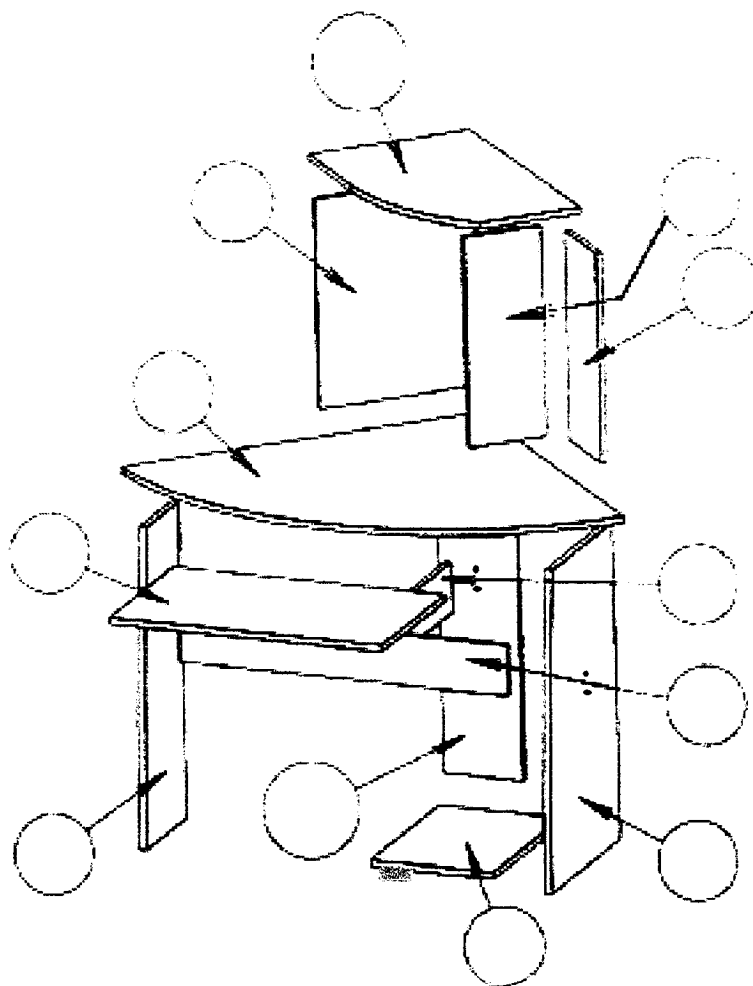
- l'ordre chronologique de démontage est numéroté de 1 à 12
- les symboles sont identifiés
- les noms précis des éléments de quincaillerie

..... / 40


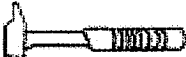



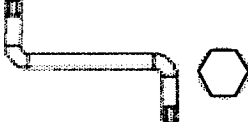

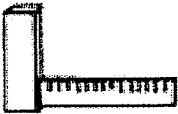

**EXTRAIT DE NOTICE TECHNIQUE DE MOBILIER N° 1**



L'élément bas doit être retourné , après avoir oté la partie haute et la tablette du clavier et souris.





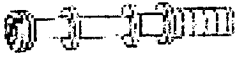
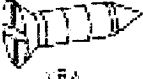


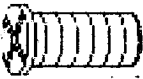




Académie de Caen	C.A.P. Session 2004	Déménageur professionnel
Durée 1 h 30		EP 2 Technologie Professionnelle
Document travail	DT 7 / 11	N° de candidat _____

EXTRAIT DE NOTICE TECHNIQUE DE MOBILIER	
Symbole	Identification
	
	
	
	
	
	
	
	
	

Académie de Caen	C.A.P. Session 2004	Déménageur professionnel
Durée 1 h 30		EP 2 Technologie Professionnelle
Document travail	DT 8 / 11	N° de candidat _____



EXTRAIT DE NOTICE TECHNIQUE DE MOBILIER	
Schéma de quincaillerie	Nom
	
	
	
	
	
	
	
	
	
	
	

Académie de Caen	C.A.P. Session 2004	Déménageur professionnel
Durée 1 h 30		EP 2 Technologie Professionnelle
Document travail	DT 9 / 11	N° de candidat _____

**INFORMER**

On donne:

- une situation de chantier DT 10
- une fiche "compte-rendu qualité"

On demande:

- d'analyser le schéma en qualité de déménageur professionnel
- de repérer les 5 anomalies, obstacles à la sécurité des personnes et des biens ainsi qu'à la qualité du chargement
- de consigner celles-ci sur la fiche qualité
- d'expliquer ce qu'il convient de faire pour mettre en conformité cette situation

On exige:

- un compte rendu qui définit clairement les anomalies
- une situation de chantier parfaitement sécurisée

/ 20

L'aide déménageur vous signale qu'il a fini de charger le véhicule.  
Avant de prendre la route, voici ce que vous voyez lors de la fermeture des portes.



Académie de Caen	C.A.P. Session 2004	Déménageur professionnel
Durée 1 h 30		EP 2 Technologie Professionnelle
Document travail	DT 10 / 11	N° de candidat _____

## COMPTE-RENDU QUALITÉ

Compte rendu N° 857

Date: 10 / 06 / 2004

Référence client: 0417485

Nom &amp; prénom: Candidat Y

Qualité: Déménageur professionnel

Constat:

Solutions:

Académie de Caen	C.A.P. Session 2004	Déménageur professionnel
Durée 1 h 30		EP 2 Technologie Professionnelle
Document travail	DT 11 / 11	N° de candidat _____