

TEST DE CONNAISSANCES N°2

CORRIGE

Vous répondez aux questions en cochant la case de votre choix. Certaines questions peuvent amener plusieurs réponses : cochez alors les cases correspondantes. Seules les réponses exactes seront prises en compte.

1 – Quelles sont les conditions pour avoir le droit de conduire un chariot automoteur à conducteur autoporté ?

- posséder le permis B
- avoir l'avis favorable du médecin du travail
- avoir l'accord écrit du chef d'entreprise
- posséder le C.A.C.E.S

A	<input type="checkbox"/>
B	<input checked="" type="checkbox"/>
C	<input checked="" type="checkbox"/>
D	<input type="checkbox"/>

2 – Sur un chariot élévateur, le talon est situé sur :

- le siège
- le mât
- les fourches
- l'arceau de sécurité

A	<input type="checkbox"/>
B	<input type="checkbox"/>
C	<input checked="" type="checkbox"/>
D	<input type="checkbox"/>

3 - Une fois le C.A.C.E.S. ou l'attestation d'équivalence obtenu, le cariste peut conduire dans n'importe quelle entreprise :

- vrai
- faux

A	<input type="checkbox"/>
B	<input checked="" type="checkbox"/>

4 – Avant de pénétrer à l'intérieur d'un véhicule avec un chariot, le cariste doit :

- vérifier le calage du véhicule
- vérifier l'état du plancher
- vérifier le verrouillage du pont de liaison
- s'assurer de la présence du chef

A	<input checked="" type="checkbox"/>
B	<input checked="" type="checkbox"/>
C	<input checked="" type="checkbox"/>
D	<input type="checkbox"/>

5 - que signifie ce pictogramme :



- résiste à l'eau
- fragile
- craint l'humidité

A	<input type="checkbox"/>
B	<input type="checkbox"/>
C	<input checked="" type="checkbox"/>

6 – La charge cache la visibilité. Dans ce cas avec un chariot automoteur de manutention à conducteur porté de catégorie 3, vous circulez en :

- marche avant
- marche avant avec un guide
- marche arrière
- vous ne pouvez pas circuler

A	<input type="checkbox"/>
B	<input checked="" type="checkbox"/>
C	<input checked="" type="checkbox"/>
D	<input type="checkbox"/>

7 – Quelle est la distance de sécurité à respecter avant de gerber une charge ?

- 10 cm devant la pile
- 15 cm devant la pile
- 1 mètre devant la pile

A	<input type="checkbox"/>
B	<input type="checkbox"/>
C	<input checked="" type="checkbox"/>

8 - Il y a un risque de basculement du chariot quand :

- le chariot roule trop vite dans un virage
- je circule avec les fourches en position haute
- je circule dans une allée étroite
- ma vitesse est trop grande sur un sol irrégulier


A	<input checked="" type="checkbox"/>
B	<input checked="" type="checkbox"/>
C	<input type="checkbox"/>
D	<input checked="" type="checkbox"/>

9 - Sur la plaque de charge du chariot est inscrite la mention suivante : F 2050 EB. Est-ce :

- un chariot frontal électrique à pneumatiques
- un chariot frontal électrique à bandages
- un chariot rétractable électrique à bandages
- un chariot frontal à gaz à bandages

A	<input type="checkbox"/>
B	<input checked="" type="checkbox"/>
C	<input type="checkbox"/>
D	<input type="checkbox"/>

10 - Voici la plaque de charge d'un chariot. Le cariste peut-il prélever les charges suivantes :



- une palette de 1 m x 1 m de 1900 kg à 4 mètres mât incliné
- une palette 1,20 m x 1,20 m de 1700 kg à 4 mètres mât vertical
- une palette 1,40 m x 1,40 m de 1350 kg à 5,30 mètres mât vertical

A	<input type="checkbox"/>
B	<input checked="" type="checkbox"/>
C	<input type="checkbox"/>

CORRIGE

TEST DE CONNAISSANCES N°3

Vous répondrez aux questions en cochant la case de votre choix. Certaines questions peuvent amener plusieurs réponses : cochez alors les cases correspondantes . Seules les réponses exactes seront prises en compte.

1 - La durée de validité du C.A.C.E.S. ou de l'attestation d'équivalence est de :

- 3 ans
- 5 ans
- 8 ans
- 10 ans

A	<input type="checkbox"/>
B	<input checked="" type="checkbox"/>
C	<input type="checkbox"/>
D	<input type="checkbox"/>

2 – Le cariste de part sa formation peut :

- échanger une roue sur un chariot
- changer une batterie d'un chariot thermique
- régler le frein à main
- faire l'appoint si un des niveaux est insuffisant

A	<input checked="" type="checkbox"/>
B	<input checked="" type="checkbox"/>
C	<input type="checkbox"/>
D	<input checked="" type="checkbox"/>

3 - Pour conduire sur la voie publique un chariot automoteur de manutention à conducteur porté dont la vitesse est limitée à 25 km/h, le cariste doit posséder le permis de conduire des véhicules automobiles :

- vrai
- faux


A	<input type="checkbox"/>
B	<input checked="" type="checkbox"/>

4 – Sur un chariot automoteur de manutention à conducteur porté catégorie 3, le levier de commande le plus proche du conducteur est toujours celui :

- du tablier du tablier à déplacement latéral (TDL)
- de montée et descente des fourches
- de l'inclinaison du mât
- des accessoires

A	<input type="checkbox"/>
B	<input checked="" type="checkbox"/>
C	<input type="checkbox"/>
D	<input type="checkbox"/>

5 - Que signifie ce pictogramme :



- bas
- haut
- ne pas soulever
- soulever verticalement

A	<input type="checkbox"/>
B	<input checked="" type="checkbox"/>
C	<input type="checkbox"/>
D	<input type="checkbox"/>

6 – L'électrolyte d'une batterie est :

- un mélange d'acide et d'eau distillée
- un mélange d'acide et d'eau minérale
- doit noyer d'environ 1 cm les électrodes
- un mélange d'acide et d'eau du robinet

A	X
B	
C	X
D	

7 – Pour descendre une pente avec un chariot automoteur de manutention de catégorie 3 en charge, le cariste :

- Descend en marche avant
- Ne peut pas descendre la pente
- Descend en marche arrière
- Attache la charge avec des sangles et descend en avant

A	
B	
C	X
D	

8 – Un cariste aborde une porte va-et-vient, il doit :

- ne pas modifier sa conduite
- ralentir
- actionner l'avertisseur et regarder si le passage est libre
- marquer un temps d'arrêt


A	
B	
C	X
D	X

9 - Sur la plaque de charge du chariot est inscrite la mention suivante : F 2050 EB. Que signifie 2050 ?

- charge nominale 2050 kg
- charge nominale 2000 kg avec un centre de gravité de la charge à 500 mm du talon des fourches
- charge nominale 2050 kg avec un centre de gravité de la charge à 500 mm du talon des fourches

A	
B	X
C	

10 - Voici la plaque de charge d'un chariot. Le cariste peut-il prélever les charges suivantes :



- une palette de 1,20 m x 1,20 m de 1000 kg à 5,60 mètres mât vertical
- une palette 1 m x 1 m de 1600 kg à 3 mètres mât incliné
- une palette 1,40m x 1,40m de 1600 kg à 3 mètres mât vertical

A	
B	
C	X

CAP AGENT D'ENTREPOSAGE ET DE MESSAGERIE	108yd04
EP1 - Phase 1 – Test n° 3	2/2

TEST DE CONNAISSANCES N°4

CORRIGE

Vous répondez aux questions en cochant la case de votre choix. Certaines questions peuvent amener plusieurs réponses : cochez alors les cases correspondantes . Seules les réponses exactes seront prises en compte.

1 – Pour avoir le droit de conduire un chariot élévateur, il faut :

- une autorisation écrite de conduite nominative délivrée par le chef d'entreprise
- un permis de conduire C
- savoir mettre en route le chariot
- posséder le C.A.C.E.S ou une attestation d'équivalence

A	<input checked="" type="checkbox"/>
B	<input type="checkbox"/>
C	<input type="checkbox"/>
D	<input type="checkbox"/>

2 – Les accidents avec les chariots élévateurs provoquent chaque année le décès de travailleurs. Le nombre annuel d'accidents mortels est :

- 2 à 3
- 5 à 10
- plus de 10

A	<input type="checkbox"/>
B	<input type="checkbox"/>
C	<input checked="" type="checkbox"/>

3 - Un cariste doit posséder le permis de conduire des véhicules automobiles pour conduire sur la voie publique :

- un chariot dont la vitesse est de 25 km/h maximum
- un chariot dont la vitesse est de 50 km/h maximum
- un chariot dont le poids total en charge est supérieur à 3 500 kg et dont la vitesse est de 25 km/h maximum

A	<input type="checkbox"/>
B	<input checked="" type="checkbox"/>
C	<input type="checkbox"/>

4 – Chaque élément de batterie possède :

- 2 types d'électrodes
- 8 types d'électrodes
- 1 bouchon de fermeture

A	<input checked="" type="checkbox"/>
B	<input type="checkbox"/>
C	<input checked="" type="checkbox"/>

5 – Le C.A.C.E.S ou l'attestation d'équivalence de catégorie 5 vous autorise à conduire un :

- préparateur de commande de levée < à 1 mètre
- chariot frontal d'une capacité < à 6000 Kg
- chariot à mât rétractable

A	<input type="checkbox"/>
B	<input type="checkbox"/>
C	<input checked="" type="checkbox"/>

6 – Un chariot à mât rétractable fonctionne avec :

- un moteur alimenté au gaz
- une batterie électrique
- un moteur alimenté au carburant

A	<input type="checkbox"/>
B	<input checked="" type="checkbox"/>
C	<input type="checkbox"/>

7 - Pour augmenter la stabilité du chariot, le cariste doit :

- positionner la charge le plus horizontalement possible
- prendre la charge sur le bout des fourches
- incliner le mât vers l'arrière
- circuler plus vite qu'à vide

A	<input type="checkbox"/>
B	<input type="checkbox"/>
C	<input checked="" type="checkbox"/>
D	<input type="checkbox"/>

8 - Si un chariot circule sur la voie publique :

- il doit avoir un rétroviseur
- son conducteur doit respecter les panneaux du code de la route
- avoir un éclairage à l'avant et une signalisation à l'avant et à l'arrière


A	<input type="checkbox"/>
B	<input checked="" type="checkbox"/>
C	<input checked="" type="checkbox"/>

9 - Sur la plaque de charge de mon chariot, je lis « charge nominale : 1 500 Kg ». Je peux dans tous les cas lever 1 500 Kg.

- oui
- non

A	<input type="checkbox"/>
B	<input checked="" type="checkbox"/>

10 - Voici la plaque de charge d'un chariot. Le cariste peut-il prélever les charges suivantes :



- mât vertical, une palette de 1,40 m x 1,40 m de 1350 kg à 4,5 mètres
- mât vertical, une palette de 1,20 m x 1,20 m de 1650 kg à 5,40 mètres
- mât incliné, une palette de 1,40 m x 1,40 m de 1200 kg à 3,20 mètres

A	<input checked="" type="checkbox"/>
B	<input type="checkbox"/>
C	<input type="checkbox"/>

TEST DE CONNAISSANCES N°5

CORRIGE

Vous répondez aux questions en cochant la case de votre choix. Certaines questions peuvent amener plusieurs réponses : cochez alors les cases correspondantes . Seules les réponses exactes seront prises en compte.

1 - Le chef d'entreprise peut à tout moment retirer l'autorisation de conduite à l'un de ses caristes :

- vrai
- faux

A	<input checked="" type="checkbox"/>
B	<input type="checkbox"/>

2 – Les vérifications détaillées (contrôle technique réglementaire) doivent avoir lieu tous les :

- 6 mois
- mois
- ans
- 5 ans

A	<input checked="" type="checkbox"/>
B	<input type="checkbox"/>
C	<input type="checkbox"/>
D	<input type="checkbox"/>

3 – Un chariot dévale une pente et écrase un salarié au travail. Le chariot n'avait pas été immobilisé à l'arrêt. La responsabilité du cariste est engagée :

- oui
- non

A	<input checked="" type="checkbox"/>
B	<input type="checkbox"/>

4 - Les bandages sont :

- une bande pleine de caoutchouc installée autour d'un axe
- utilisés sur tous types de sol
- lisses
- susceptibles de crever

A	<input checked="" type="checkbox"/>
B	<input type="checkbox"/>
C	<input checked="" type="checkbox"/>
D	<input type="checkbox"/>

5 – Le circuit hydraulique est composé :

- d'un réservoir
- de vérins
- d'une pompe hydraulique
- d'électrodes

A	<input checked="" type="checkbox"/>
B	<input checked="" type="checkbox"/>
C	<input checked="" type="checkbox"/>
D	<input type="checkbox"/>

6 - Pour prendre et déposer des charges dans un palettier ayant des allées de circulation étroites, le cariste choisira de préférence un chariot :

- élévateur en porte à faux
- un chariot élévateur à mât rétractable
- un chariot élévateur porte à faux électrique
- un chariot élévateur porte à faux thermique à gaz

A	<input type="checkbox"/>
B	<input checked="" type="checkbox"/>
C	<input type="checkbox"/>
D	<input type="checkbox"/>

7 - Le C.A.C.E.S 3 vous permet de conduire un :

- préparateur de commandes de levée < à 1 mètre
- chariot à mât rétractable
- chariot frontal à capacité < à 6000 Kg
- chariot frontal à capacité > à 6000 Kg

A	<input type="checkbox"/>
B	<input type="checkbox"/>
C	<input checked="" type="checkbox"/>
D	<input type="checkbox"/>

8 - Pour franchir une voie ferrée à niveau, le cariste doit :

- rouler plus vite pour ne pas sentir les irrégularités
- traverser les voies à 45°
- monter les fourches le plus haut possible pour bien voir le parcours
- réduire sa vitesse pour ne pas déséquilibrer sa charge


A	<input type="checkbox"/>
B	<input checked="" type="checkbox"/>
C	<input type="checkbox"/>
D	<input checked="" type="checkbox"/>

9 - Sur la plaque de charge du chariot est inscrite la mention suivante : F 1250 ZB. Que signifie ZB :

- chariot électrique à bandages
- chariot diesel à bandages
- chariot à gaz à bandages
- chariot à gaz à pneumatiques

A	<input type="checkbox"/>
B	<input type="checkbox"/>
C	<input checked="" type="checkbox"/>
D	<input type="checkbox"/>

10 - Voici la plaque de charge d'un chariot. Le cariste peut-il prélever les charges suivantes :



- mât incliné, palette de 1,40 m x 1,40 m de 700 kg à 5 mètres
- mât vertical, une palette de 1,20 m x 1,20 m de 1700 kg à 5,40 mètres
- mât vertical, une palette de 1,20 m x 1,20 m de 1900 kg à 3 mètres

A	<input checked="" type="checkbox"/>
B	<input type="checkbox"/>
C	<input type="checkbox"/>

CAP AGENT D'ENTREPOSAGE ET DE MESSAGERIE	108yd04
EP1 - Phase 1 - Test n° 5	2/2