

SESSION 2004

C.A.P. Employé Technique de Collectivité

ÉPREUVE: Expression esthétique

Ce dossier comprend 5 feuilles:

Couverture du dossier : 1 format A3

sujet n°1: 2 formats A3 .

Sujet n°2: 2 formats A3.

Vous avez le choix entre le sujet n°1 et le sujet n°2.

Sujet n°1:

Folios 2/5 et 3/5 - feuilles à rendre à l'issue de l'épreuve : folios 2/5 et 3/5

ou

Sujet n°2:


Folios 4/5 et 5/5 - feuille à rendre à l'issue de l'épreuve : folio 5/5

C.A.P.	Spécialité : Employé technique de collectivité Code Spécialité : 50 39 15	Durée : 2h	Session : 2004 SEPT.
Épreuve : Expression esthétique N° Sujet : 0400		Coefficient: 2	Folio 1 / 5

SUJET N°1

1ère partie : La nature nous entoure, les créateurs s'en inspirent.

Le document ci-contre représente des couverts dont les manches ont la forme et l'aspect d'un corail rouge. Le créateur a conçu des objets utiles en s'inspirant de la nature. Il laisse libre cours à son imagination tout en respectant les contraintes fonctionnelles de ces objets. A partir de cet exemple, on vous demande de réaliser d'autres formes de manches pour les couverts du folio 3/5.



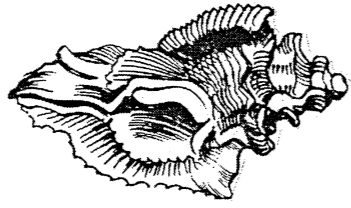
1ère partie :

Pour cela, après avoir observé l'exemple A, vous devez :

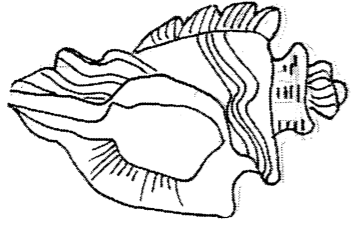
- dessiner et **simplifier** les formes et les graphismes des trois coquillages proposés en **B**
- transformer chaque coquillage par **allongement** dans la surface géométrique qui lui correspond le mieux, comme dans l'exemple **A**.
- Réalisation au crayon HB.

A



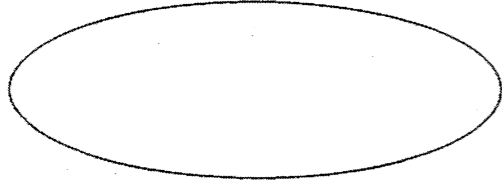
Exemple



coquillage

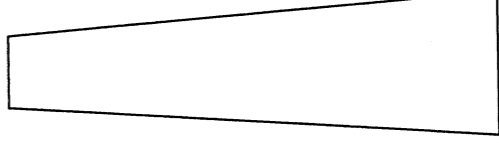


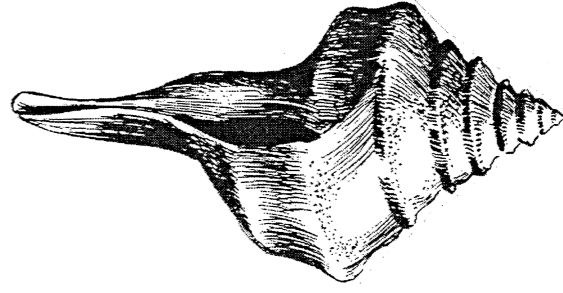
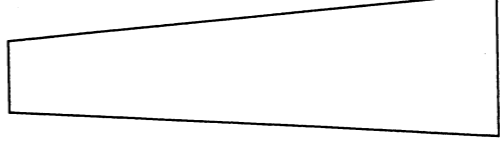


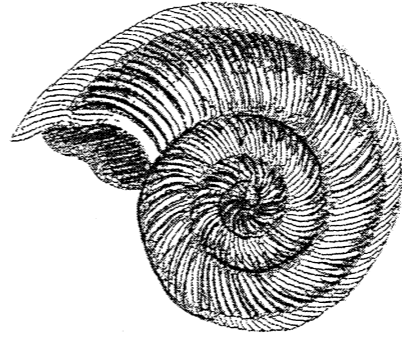
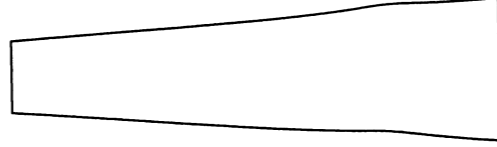





coquillage simplifié



allongement dans la surface géométrique qui correspond le mieux au coquillage.

B



C.A.P.

Spécialité : Employé technique de collectivité
Code Spécialité : 50 39 15

Épreuve : **Expression esthétique**

N° Sujet : 0400

Durée :
2h

Coefficient:
2

Session :
2004



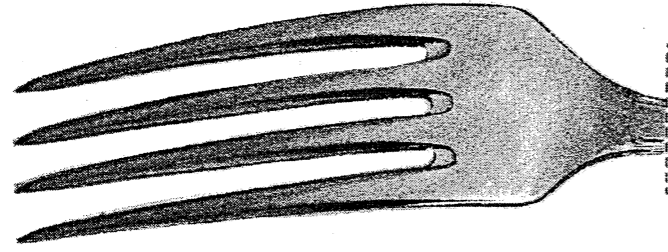
Folio
2 / 5

2^{ème} partie

On vous demande de choisir, parmi vos projets (folio2/5), ceux qui vous semblent les mieux adaptés aux couverts ci-dessous. Réalisez les manches, grandeur réelle.

Pour cela :

Dessinez-les dans les formes en pointillés en occupant l'espace au maximum. Animez le tout en valeurs de gris avec des graphismes différents.
Réalisation au crayon HB.



EVALUATION :

Simplification des coquillages.....4 points
Allongements des coquillages dans les formes géométriques.....4 points
Qualités des valeurs de gris et des graphismes.....3 points
Adaptation des manches aux couverts (formes et valeurs).....5 points
Qualités techniques et plastiques.....4 points

C.A.P.

Spécialité : Employé technique de collectivité

Code Spécialité : 50 39 15

Durée : 2h

Session : 2004

Épreuve : **Expression esthétique**

N° Sujet : 0400

Coefficient: 2

Folio 3 / 5

SUJET n°2 : LES TAPIS DE BAIN.


Afin de rendre plus gaie et chaleureuse une salle de bain, on vous demande de concevoir deux tapis de bain (un pour la baignoire et un pour la douche) sur le thème des coquillages (voir partie droite).

Vous décorerez ces deux tapis (folio 2/2) de la manière suivante:

1- LE TAPIS DE BAIN POUR LA BAIGNOIRE


Choisissez deux ou trois coquillages parmi ceux qui vous sont proposés à droite. Simplifiez-les et placez-les dans la bande pré-dessinée indiquée par des flèches en utilisant le rythme de l'alternance. Les parties extérieures doivent restées vides.

Voici quelques exemples d'alternances.


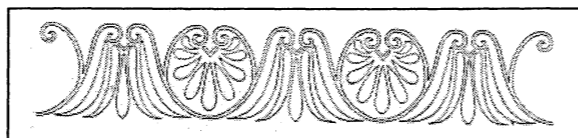



Serviette en papier

assiette



Frises décoratives




2 - LE TAPIS DE DOUCHE

Choisissez un coquillage parmi ceux qui vous sont proposés ci-dessous. Simplifiez-le et agrandissez-le au maximum. Vous pouvez le déformer légèrement, en changeant la direction pour l'intégrer dans la forme proposée (folio 5/5 partie droite). Utilisez l'espace au maximum.

Les deux tapis seront colorés avec **un couple de complémentaires**. (bleu et orange ou jaune et violet ou rouge et vert)

Technique : feutres et ou crayons de couleur. Le calque est autorisé.



ÉVALUATION:

- Respect de l'alternance.....5 points
- Agrandissement du coquillage et adaptation au tapis7 points
- Respect des complémentaires.....4 points
- Soin..... 4 points

C.A.P.

Spécialité : Employé technique de collectivité

Code Spécialité : 50 39 15

Durée :
2h

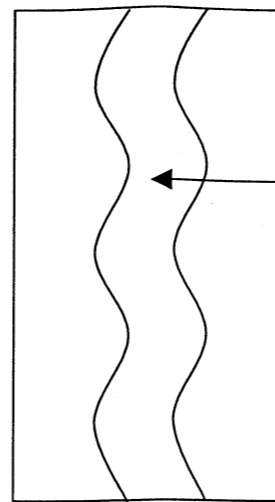
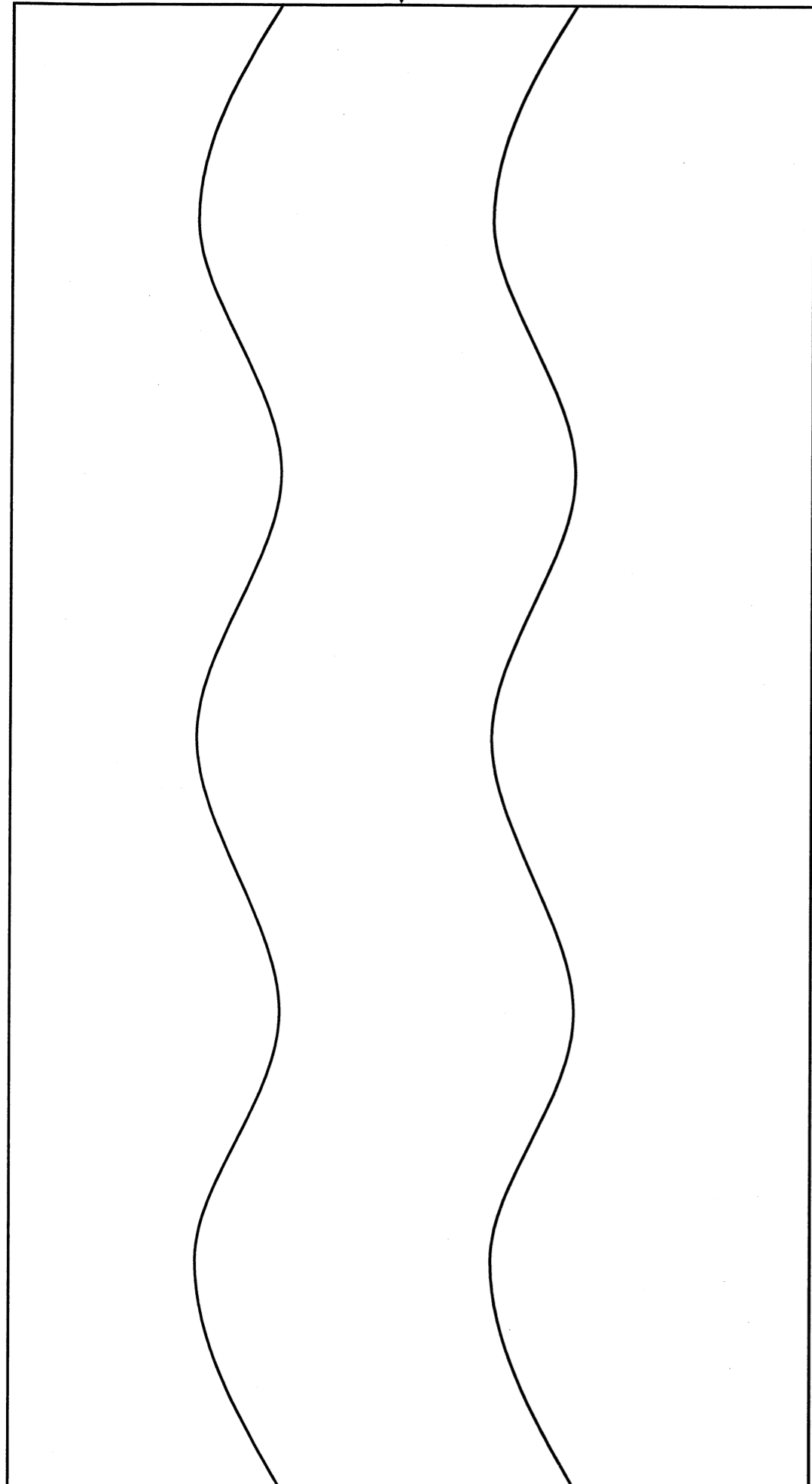
Session :
2004

Épreuve : Expression esthétique

N° Sujet : 0400

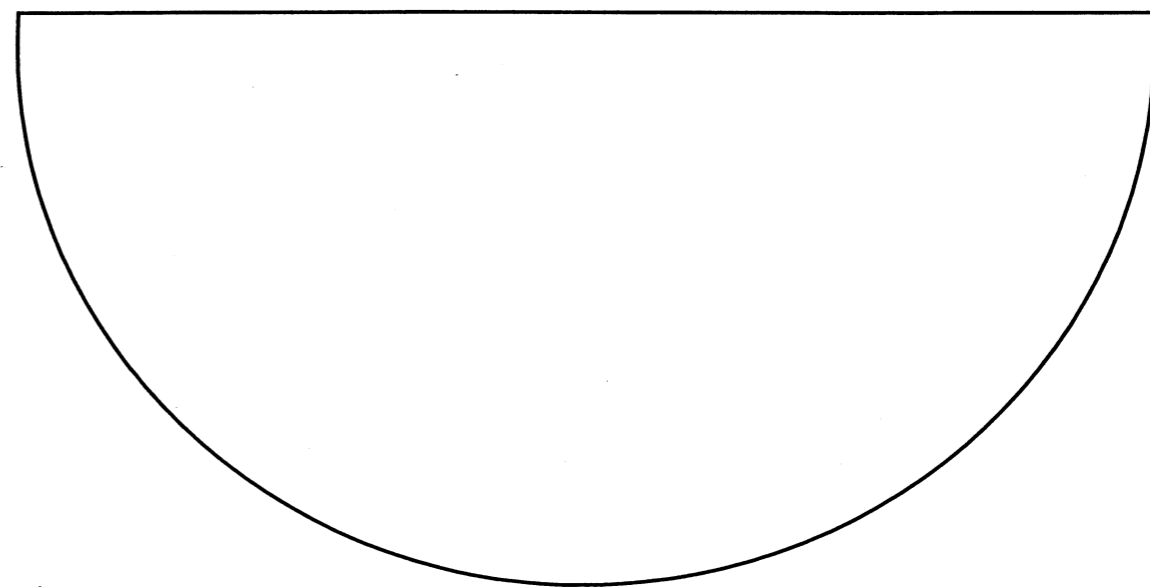
Coefficient:
2

Folio
4 / 5



Partie à animer

Tapis de douche



Tapis de bain

C.A.P.	Spécialité : Employé technique de collectivité	Durée : 2h	Session : 2004
	Code Spécialité : 50 39 15		
Épreuve : Expression esthétique		Coefficient: 2	Folio 5 / 5
N° Sujet : 0400			