

MENTION COMPLEMENTAIRE COLORISTE PERMANENTISTE

Session 2005

E1A - Conception et réalisation de mises en forme
permanente

Durée : 30 minutes - Coef. 2 - écrit

Un client rentre dans le salon avec :

- des cheveux naturels, raides, gras ayant une texture moyenne
- la longueur des cheveux est de 20 cm non dégradée
- le cuir chevelu sain.

Il désire obtenir un assouplissant identique à celui de la photographie annexe 1.

Elaborer la procédure à suivre en complétant la fiche jointe annexe 2.

MENTION COMPLÉMENTAIRE
COLORISTE PERMANENTISTE

Session 2005

E1A - Conception et réalisation de mises en forme
permanente

Durée : 30 minutes - Coef. 2 – écrit



**MENTION COMPLEMENTAIRE
COLORISTE PERMANENTISTE**

**E1 – Conception et réalisation de mises en forme permanente
Coefficient : 8 – Epreuve pratique et écrite – Durée 5 h 30 min.**

DATE :

1^{ère} partie : PROJET DE CONCEPTION DE MISE EN FORME

PERMANENTE/**FRISAGE**

Durée : 30 min. – Coef. 2

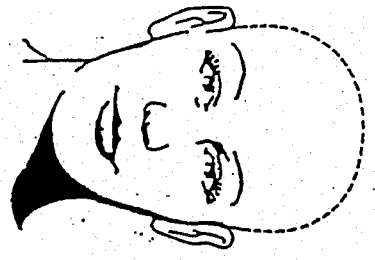

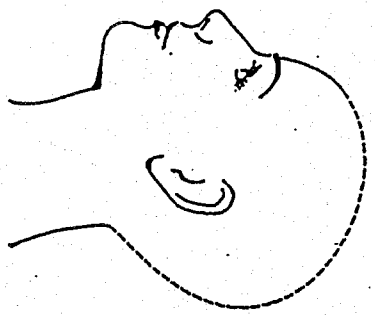
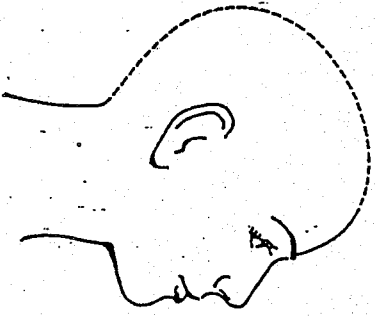
Note : /20

Déroulement des différentes opérations

Listez les opérations selon le déroulement chronologique	Citez les produits utilisés	Justifiez les produits utilisés et les différentes opérations en prenant en compte les besoins du client

AUCUNE RATURE N'EST AUTORISEE SUR LES TROIS PREMIERES LIGNES

Sur les gabarits ci-dessous, représentez les zones. Numérotez ces zones.
 Pour chaque zone, précisez dans le tableau, le degré de frisure souhaité. Eventuellement précisez le degré de frisure sur la base (racine) et la longueur.

 Face	 Nuque	Zones						
		Frisure Degré de frisure souhaité sur la base (la racine)						
Degré de frisure sur la longueur								
Profil 1 		Profil 2 						

MENTION COMPLÉMENTAIRE
 COLORISTE PERMANENTISTE

Session 2005

E1A - Conception et réalisation de mises en forme
 permanente

Durée : 30 minutes - Coef. 2

* Une même colonne peut correspondre à plusieurs zones mais à un seul dessin de frisure