

THEME 4

Compléter un planning de travail

ON DONNE

La nomenclature des compteurs
doc. Ressources 2 / 6
 Le descriptif des composants
doc. Ressources 2 / 6
 Liste des tâches de fabrication de 20 composants
doc. Ressources 2 / 6
 Un planning vierge
doc. Sujet 5 / 6

ON DEMANDE

De classer les tâches
 D'indiquer les N° de repères
 De noircir le planning suivant les heures
 D'indiquer le jour et la date de fin de fabrication

ON EXIGE

Une répartition logique
 Un jour et une date précise
 Pas de chevauchement d'horaire

BAREME

/ 30 pts

PLANNING DE FABRICATION DE 20 COMPTOIRS (exécution par 1 personne)

REPÈRES	140	100	10	80	110	30	60	20	90	120	40	70	130	50		
LUNDI 3 OCT	matin	après-midi														
MARDI 4 OCT			matin	après-midi												
MERCREDI 5 OCT					matin	après-midi										
JEUDI 6 OCT						matin	après-midi									
VENDREDI 7 OCT							matin	après-midi								
LUNDI 10 OCT								matin	après-midi							
MARDI 11 OCT									matin	après-midi						
MERCREDI 12 OCT										matin	après-midi					
JEUDI 13 OCT											matin	après-midi				
VENDREDI 14 OCT												matin	après-midi			
LUNDI 17 OCT													matin	après-midi		
MARDI 18 OCT														matin	après-midi	
MERCREDI 19 OCT															matin	
JEUDI 20 OCT																après-midi
VENDREDI 21 OCT																
LUNDI 24 OCT																
MARDI 25 OCT																

PROPOSITION DE CORRIGE


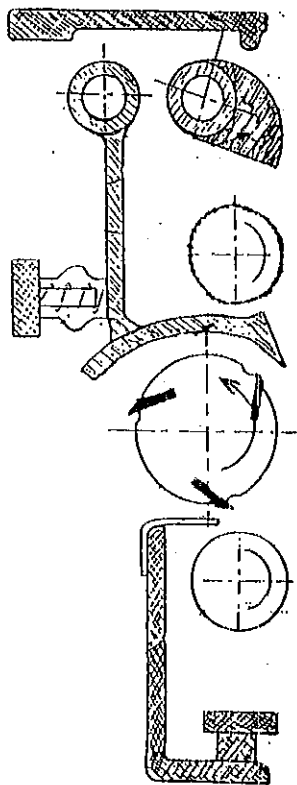
JOUR FIN DE FABRICATION : LUNDI DATE : 24 OCTOBRE

SUIET NATIONAL	MINISTÈRE DE L'ÉDUCATION NATIONALE		COEF 2
	BREVET PROFESSIONNEL DE MENUISIER		
SESSION 2005	U 20 PRÉPARATION DE FABRICATION ET DE CHANTIER		DURÉE 2 H
DOSSIER CORRIGE			PAGE 5/6

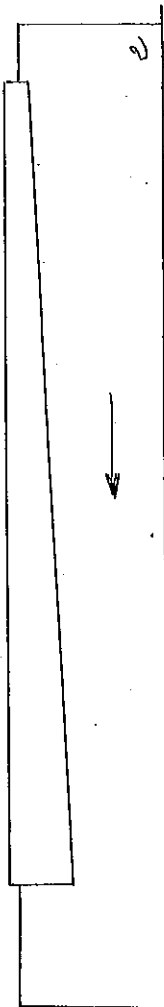
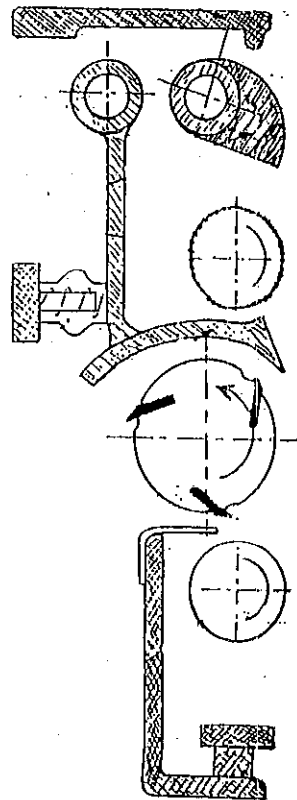
THEME 5

Concevoir des gabarits d'usinage

ON DONNE	ON DEMANDE	ON EXIGE	BAREME
La forme du pied gainé à réaliser Doc ressources 6 / 6 2 schémas de raboteuse en coupe Doc sujet 6 / 6 La feuille de débit Doc ressources 4 / 6	De dessiner et coter les 2 gabarits afin d'usiner les 20 pieds en série <i>Indiquer le sens d'avance de la pièce</i>	2 croquis clairs et légendés Des côtes précises en mm	/ 20 pts



Table



Table

SUIJET NATIONAL	MINISTERE DE L'EDUCATION NATIONALE	EPREUVE E2	COEF 2
	BREVET PROFESSIONNEL DE MENUISIER		
SESSION 2005	U 20 PREPARATION DE FABRICATION ET DE CHANTIER	DUREE 2 H	PAGE 6 / 6
	DOSSIER CORRIGE		