

C.A.P Constructeur de Routes

Session Juin 2005

Epreuve EP 3

Forme : Ponctuelle

DOSSIER RESSOURCES

EP 3

➤ Vous pouvez garder ce dossier à la fin de l'épreuve.

Groupement inter académique II	Session Juin 2005	Facultatif : code
Examen et spécialité CAP Constructeur de Routes		
Intitulé de l'épreuve EP 3 Réalisation d'ouvrages maçonnés et/ou d'ouvrages annexes		
Type DOSSIER RESSOURCES	Mercredi 15 juin 2005 8 h 00 à 12 h 00	Durée 4 h 00
	Coeff 4	Page 1 sur 6

Commune de Carquefou (44)
**Aménagement « de la place Le Corvec
et de l'Espace Mellay »**

1) Ce que vous avez à effectuer :

L'entreprise, dans laquelle vous travaillez, est adjudicataire du marché indiqué ci-dessus pour les lots 1 et 2.
Votre équipe a été désignée pour effectuer ce chantier.

Comme vous arrivez à la fin de votre formation du C.A.P Constructeur de Routes, votre chef de chantier vous demande de :

- **Prendre connaissance** du document ressource ci-joint.
- **De réaliser** la pose de l'entourage du socle de la sculpture du monument aux morts.

Vous devez réaliser tout cela en 4 h.

2) Ce que l'on vous donne :

■ **Le dossier Ressources de l'épreuve EP1 :**

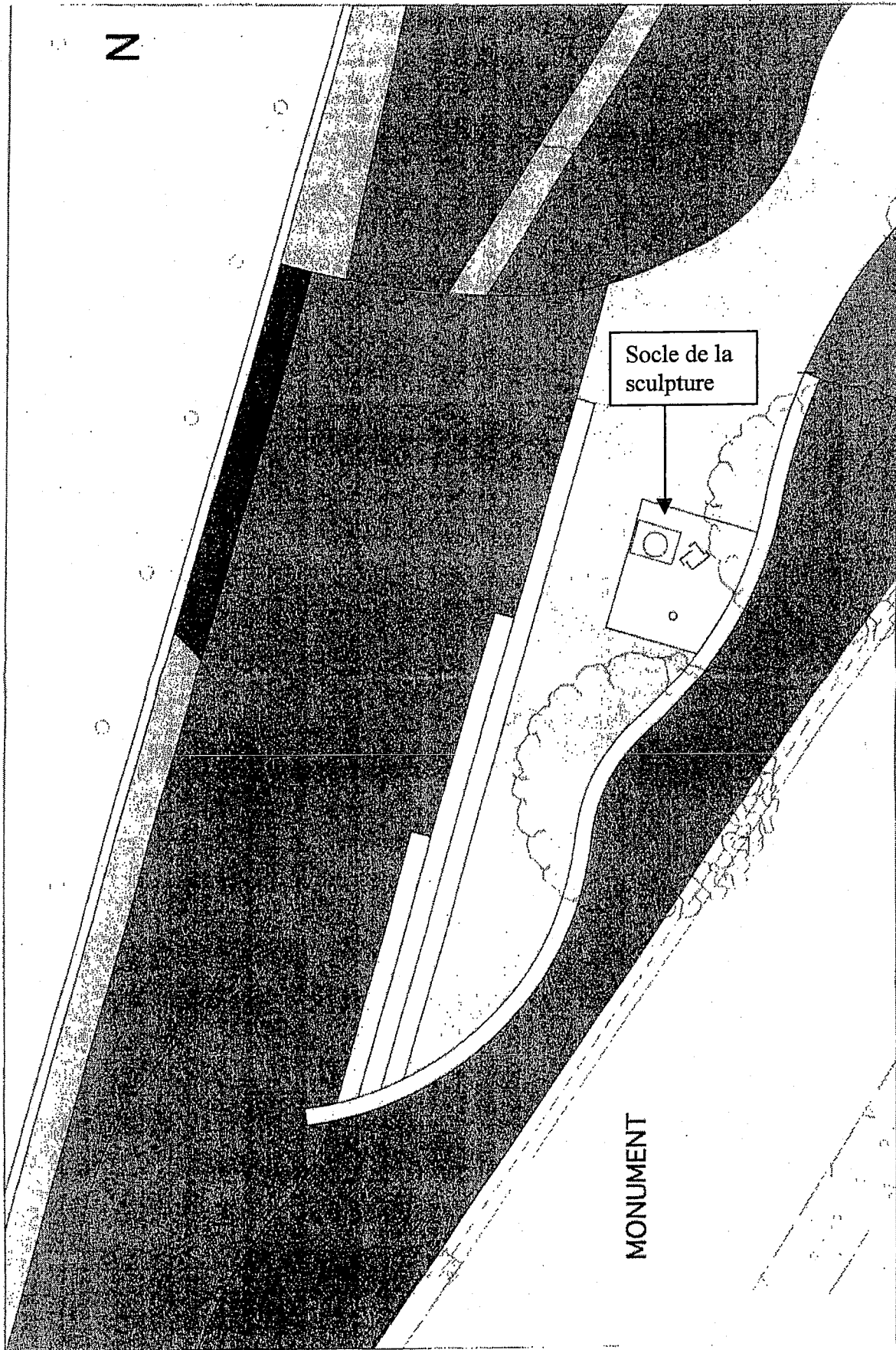
- Le plan masse de la place le Corvec et de l'espace Mellay (P 3/6)
- Le plan masse du monument aux morts (P 4/6)
- Vues du socle de la sculpture (P 5/6)
- Vue de face du muret (P 6/6)

■ **Le dossier de l'épreuve EP1 :**

3) Ce que l'on exige :

De réaliser le travail demandé (voir le sujet de l'épreuve) conformément aux plans donnés.
De travailler soigneusement et dans les règles de l'art.
De vous équiper des protections de sécurité individuelles et de travailler en toute sécurité.

CAP Constructeur de Routes	Session 2005
EP 3 Réalisation d'ouvrages maçonnés et/ou d'ouvrages annexes Dossier Ressources	Page 2 sur 6



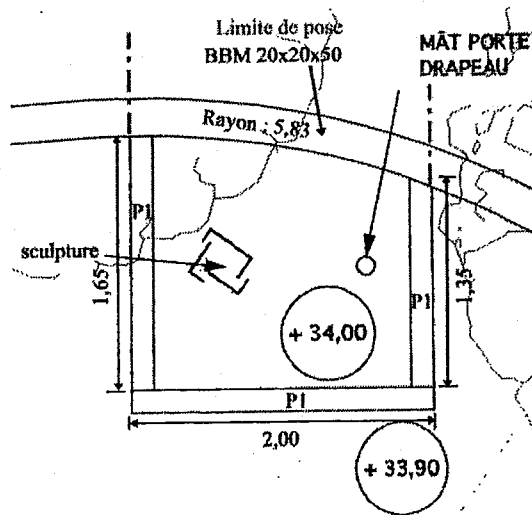
- JUN 2003

MONUMENT AUX MORTS: PLAN DANS LE SITE

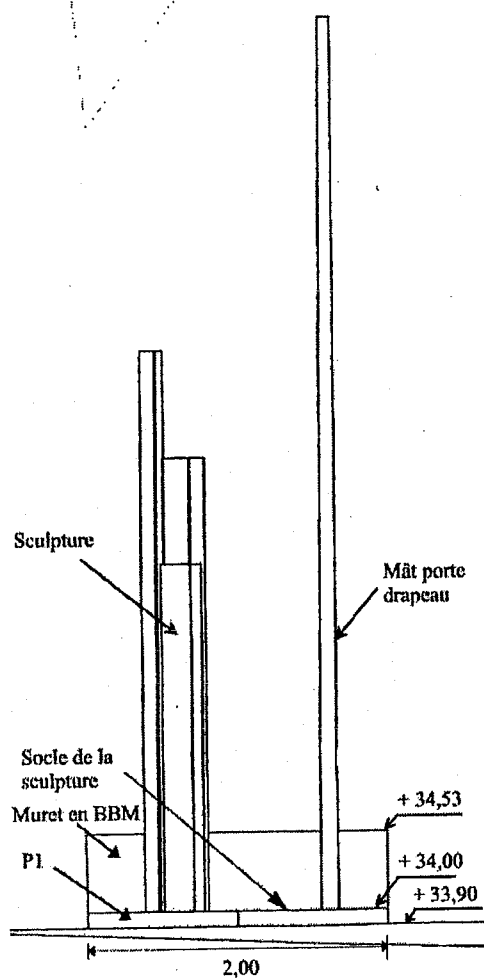
AMÉNAGEMENT DU CENTRE-BOURG DE CARQUEFOU

MONUMENT

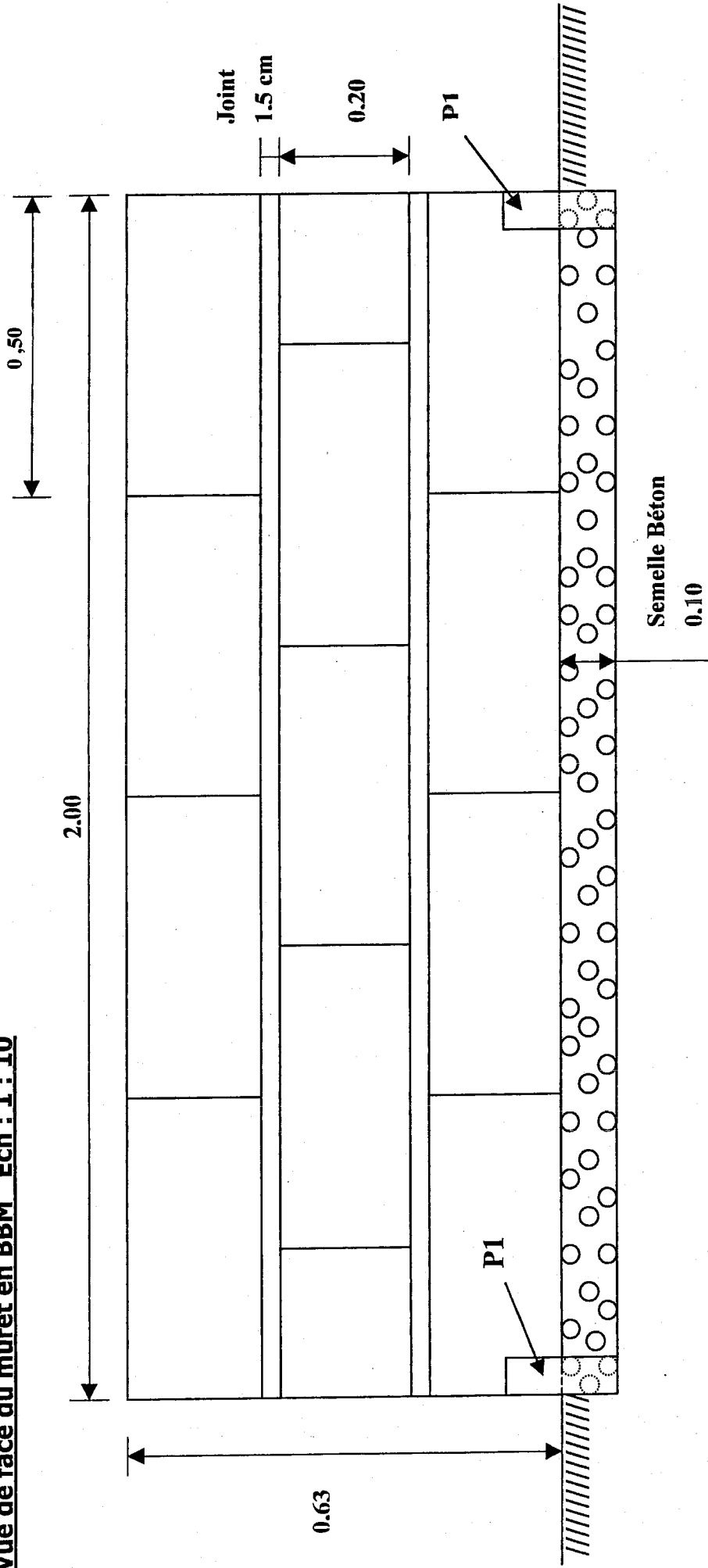
Vue en plan du socle de la sculpture Ech : 1 : 50



Vue de face du socle de la sculpture Ech : 1 : 50



Vue de face du muret en BBM Ech : 1 : 10



CAP Constructeur de Routes	Session 2005
EP 3 Réalisation d'ouvrages maçonnés et/ou d'ouvrages annexes Dossier Ressources	Page 6 sur 6