

SOMMAIRE

1- CONNAISSANCE DES MATERIAUX :	
Question a :	/8
Question b :	/2
Question c :	/2
2- CONNAISSANCE DU MATERIEL :	
Question a : Mode opératoire d'une dorure :	/12
Question b : Protection et sécurité :	/7
3- EVOLUTION DE L'ECRITURE :	
Question a : Histoire de l'art et de l'écriture :	/5
Question b : Classification ATypI :	/10
Question c : Monogramme	/14
TOTAL DES POINTS :	/60

Note sur 20 : /20

SUJET

CAP & Mention Complémentaire
« Graveur sur pierre »

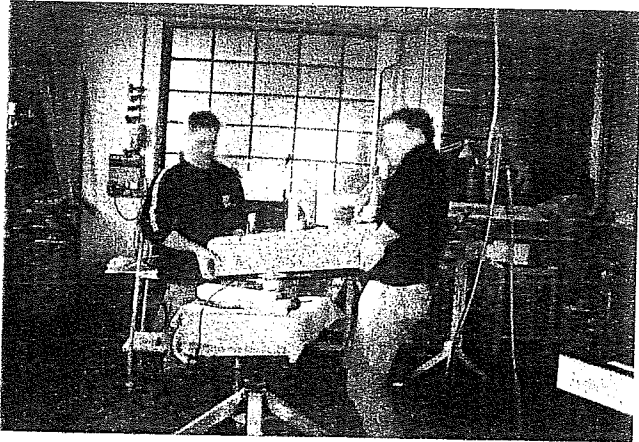
Epreuve écrite :

TECHNOLOGIE ET PREVENTION DES ACCIDENTS

Les documents réponses seront remis et agrafés dans une copie anonymée

Groupement inter-académique	Session 2005	SUJET	
C.A.P. & Mention complémentaire <<Graveur sur Pierre>>			
Epreuve écrite de : "Technologie et prévention des accidents"	Durée : 1h 30'	Coef.: 3	page 1/ 5

b) Analysez ces photos prises dans une entreprise. Quelles remarques pouvez-vous faire concernant les conditions de sécurité ?



1-.....



1-.....


 2-.....

 3-.....



1-.....

 2-.....



1-.....

Groupement inter-académique	Session 2005	SUJET	
C.A.P. & Mention complémentaire <<Graveur sur Pierre>>			
Epreuve écrite de : "Technologie et prévention des accidents"		Durée : 1h 30'	Coef.: 3
			page 3/ 5

3) EVOLUTION DE L'ECRITURE

- a) On vous demande de réaliser une plaque commémorative pour un édifice public.
A quel type de caractère proposé ci-dessous associeriez-vous les architectures suivantes ?

مر اکتش

Document A

ABCDEFGHI
JKLMNOP?
QRSTUVWXYZ
WZAECIC12
3456789&
0%£\$!(/:;<?)

Document B

ABCDEF
GHIJKLM
NOPQRST
UVWXYZ

Document C

ABCD
EFGHIJ
LKMN
OPQRS
TVWX

Document D

ABCDEFGHIJK
abcdefghijkl

Document E




Photo 1




Photo 2



Photo 3




Photo 4




Photo 5

Caractères	Architectures
A	
B	
C	
D	
E	



Groupement inter-académique	Session 2005	SUJET
C.A.P. & Mention complémentaire <<Graveur sur Pierre>>		
Epreuve écrite de : "Technologie et prévention des accidents"	Durée : 1h 30'	Coef.: 3 page 4/ 5

b) Classez les alphabets présentés à la question précédente selon la classification ATypI (Mettez une croix dans la case correspondante): /10

	Doc A	Doc B	Doc C	Doc D	Doc E
Humaines, Garaldes, Réales					
Didones					
Mécanes					
Linéales					
Incises					
Manuaires					
Scriptes					
Fractures					
Formes étrangères					



c) Le directeur de ce même restaurant souhaiterait que vous lui présentiez un projet (au crayon de papier) de monogramme comportant ses initiales « AC ». Vous pourrez vous inspirer des modèles ci-dessous pour le tracer dans la cadre prévu à cet effet. /14



Groupement inter-académique	Session 2005	SUJET	
C.A.P. & Mention complémentaire <<Graveur sur Pierre>>			
Epreuve écrite de : <i>"Technologie et prévention des accidents"</i>		Durée : 1h 30'	Coef.: 3 page 5/ 5