

C.A.P. TAILLEUR DE PIERRE MARBRIER DU BÂTIMENT ET DE DECORATION

Session: 2005

Epreuve: épure

TRAVAIL A REALISER:

On donne:

* le document 2/2 représentant une plate bande et le profil de moulure.

On demande:

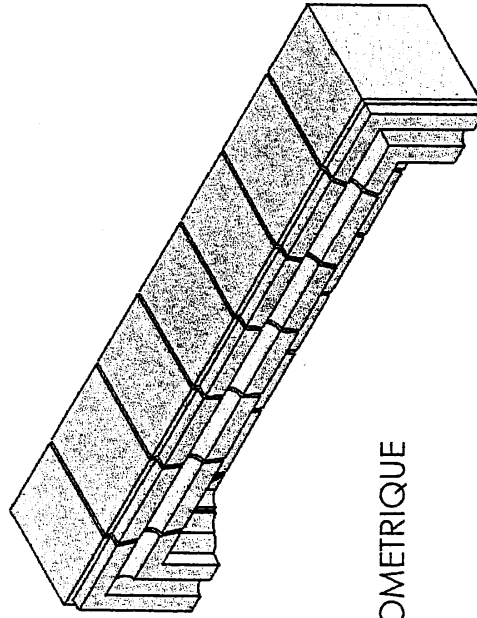
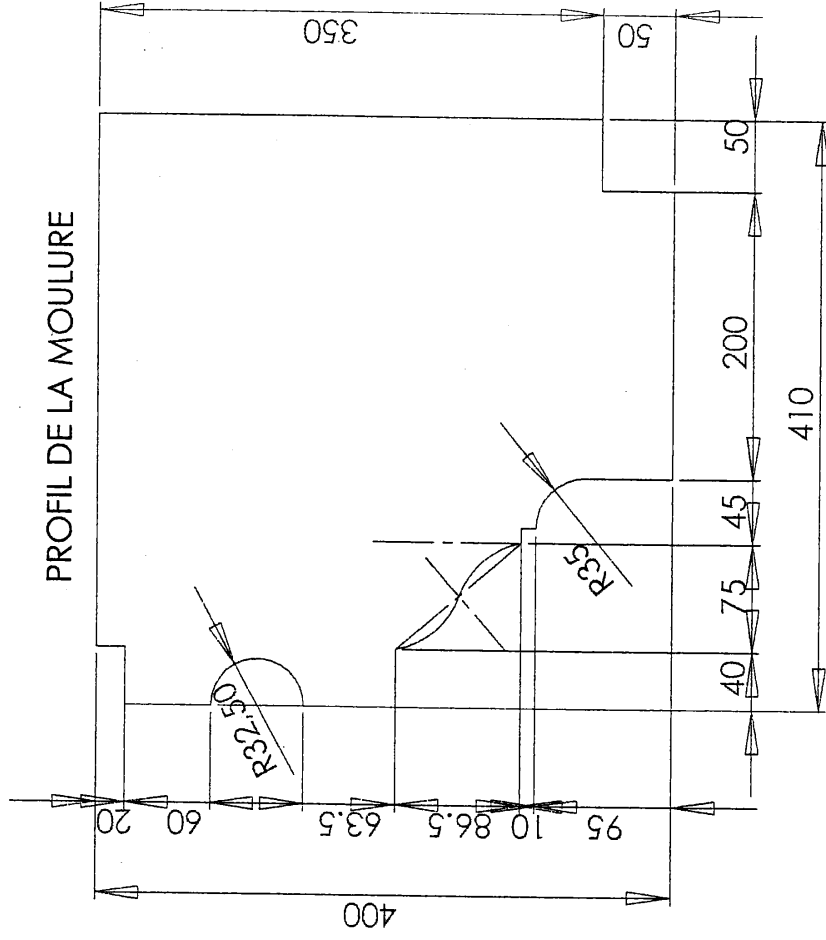
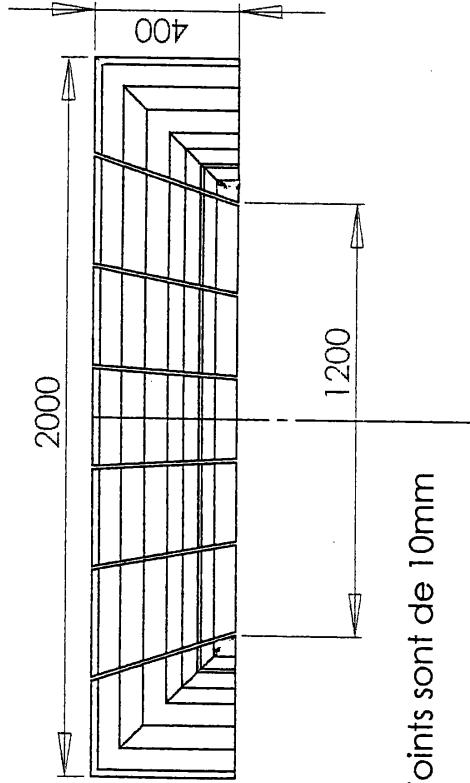
* Réaliser le panneau de joint du sommier gauche de la plate bande, sachant que l'ouverture est de 1.20m et que le point de rayonnement de l'axe des joints est à une fois $\frac{1}{2}$.

On exige:

- * Que la méthode de tracé de la recherche du panneau vraie grandeur du joint du sommier reste apparente.
- * Que l'épure soit propre et les constructions en traits normalisés.
- * Que le panneau soit juste

C.A.P. TAILLEUR DE PIERRE MARBRIER DU BÂTIMENT ET DE DECORATION	CODE: 50 23206	SUJET	Session: 2005
EP3 TRACES PROFESSIONNELS	Durée: 4h	Coefficient: 4	Page: 1/2

PLATE BANDE DROITE



VUE ISOMETRIQUE

C.A.P. TAILLEUR DE PIERRE MARBRIER
DU BÂTIMENT ET DE DECORATION
EP3 TRACES PROFESSIONNELLS

CODE: 50 23206
Durée: 4h

SUJET
Coefficient: 4

Session: 2005
Page: 2/2