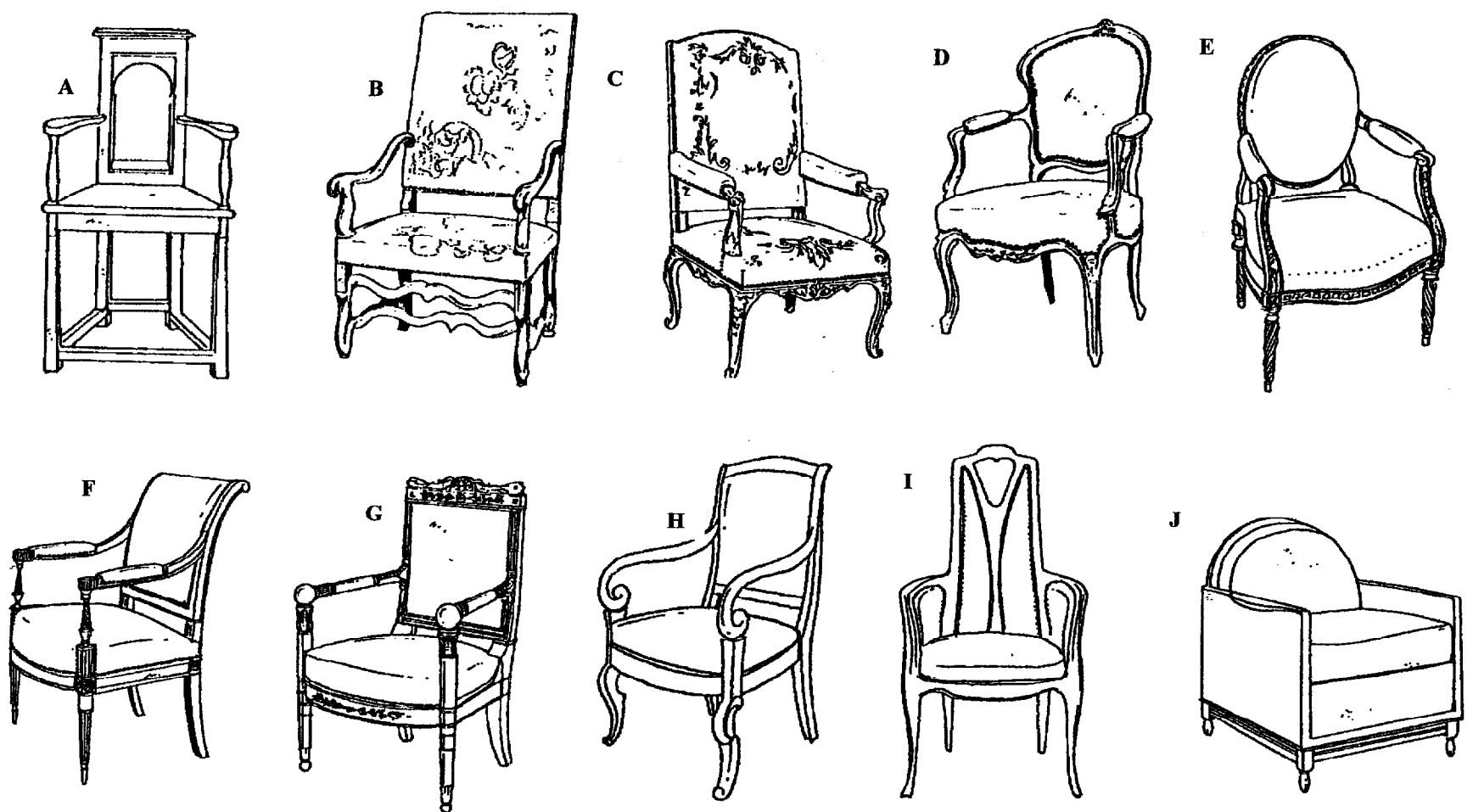


Académie :	Session :
Examen :	Série :
Spécialité/option :	Repère de l'épreuve :
Epreuve/sous épreuve :	
NOM :	
<small>(en majuscule, suivi s'il y a lieu, du nom d'épouse)</small>	
Prénoms :	N° du candidat <input style="width: 150px; height: 20px;" type="text"/>
Né(e) le :	<small>(le numéro est celui qui figure sur la convocation ou liste d'appel)</small>


**CAP MENUISIER EN SIEGES
SESSION 2005**

EPREUVE : ETUDE des STYLES et des TECHNIQUES dans l'AMEUBLEMENT

A - Les sièges ci-dessous sont mis dans l'ordre chronologique. Inscrivez son style sous chaque siège



B - Certains sièges sont de même style que certaines commodes présentées ci-dessous. Inscrivez (sous la commode) la lettre du siège en correspondance avec la commode de même style. (attention : 2 sièges n'ont pas de commode de même style)



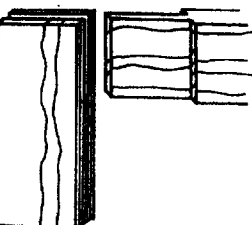

C.A.P. MENUISERIE en SIEGES			Code : 50 23411	SUJET
Epreuve : Etude des Styles et des Techniques dans l'Ameublement	Durée 1 heure	Coefficient : 1	Session 2005	page 1/2

Ne rien inscrire dans ce cadre

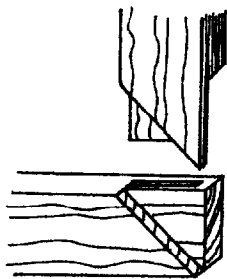
C – Nommez les assemblages ci-dessous.



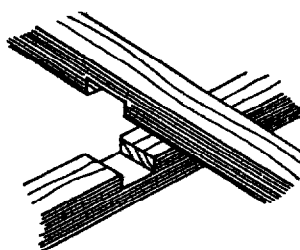
assemblage




assemblage



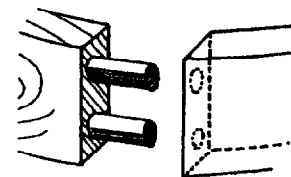
assemblage



assemblage



assemblage



assemblage

D – Donnez le nom des motifs décoratifs.



E – Voici deux fauteuils A et B.

1. Inscrivez leur nom et leur style.


Fauteuil A - Nom :

Style :


Fauteuil B - Nom :

Style :

A



B



2. Observez les différentes formes des éléments (dossiers, ceintures, pieds, accotoirs) qui composent ces deux sièges de même type mais de styles différents.

- Décrivez les particularités des éléments qui différencient ces deux fauteuils

Dossiers :

Ceintures :

Pieds :

Accotoirs :

C.A.P. MENUISERIE en SIEGES			Code : 50 23411	SUJET
Epreuve : Etude des Styles et des Techniques dans l'Ameublement	Durée 1 heure	Coefficient : 1	Session 2005	page 2/2