

Une cliente vous sollicite pour des décors de fenêtre et des coussins décoratifs pour son salon, en vous laissant libre choix sur le style.

Question n° 1 :

Vous devez conseiller la cliente qui vous propose deux échantillons de tissu :

- Identifier le style des tissus 1 et 2. 1 point
- Dessiner l'armure d'un satin de 5 d'effet trame et décochement de 2. 1 point
- Donner la définition du velours. 1 point

Question n° 2 :

Pour réaliser son décor, vous lui expliquez les matériaux utilisés en tapisserie :

- Donner la définition et l'utilisation de la finette pour une tapisserie. 1 point

Question n° 3 :

Les coussins décoratifs pourraient être réalisés en cuir :

- Qu'est ce qu'un cuir à fleur corrigé ? 1 point
- Par quelle opération rend-on le cuir imputrescible ? 1 point
- Sur quelle partie d'une peau trouve t-on le moins de défauts ?
 - Hachurer la partie sur le dessin, nommer la partie. 1 point

Question n° 4 :

Pour la fabrication du coussin oreiller :

- Proposer 3 solutions technologiques pour le fermer, en vous aidant d'un schéma technique pour chaque solution proposée. 3 points

Question n° 5 :

La cliente souhaite des rideaux, un store, un vitrage, et une portière.

- Vous devez sélectionner pour chaque décor une tringle sur la planche présentée. 4 points

Question n° 6 :

Pour la tringle n°8, proposez trois têtes de rideaux différentes 3 points

Question n° 7 :

Sur le chantier, lors de la pose des tringles, vous utiliserez la perceuse :

- Donner les mesures de sécurité d'utilisation de la perceuse
 - Avant de percer dans le mur
 - Pendant le perçage
 - Après le perçage. 3 points

Les réponses 2, 6, 7 seront rédigées sur la copie anonymée.



Les documents 2/3 et 3/3 seront rédigés et agrafés dans la copie.

Groupement interacadémique II	Session : 2005	Sujet n° : 4 TAP 110	
CAP Tapisserie Ameublement – Couture et décor.			
EP 1 : Technologie et prévention.			
SUJET	Durée : 1h 30	Coefficient : 2	Page : S 1 / 3

Question n°1 :

/1

-Donnez le style des tissus




1.....

2.....

-Dessinez l'armure d'un satin de 5 d'effet trame et de décochement de 2

/1



-Donner la définition du velours:

/1

.....
.....
.....

Question n°3 :

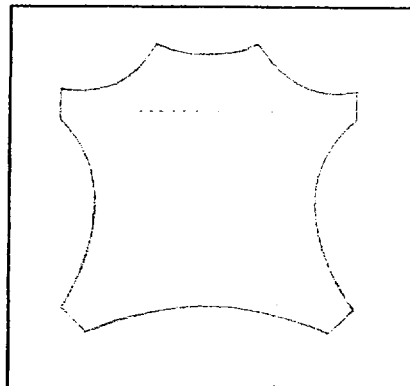
/3

-Qu'est ce qu'un cuir à fleur corrigé ?

-Par quelle opération rend-on le cuir imputrescible ?

-Hachurer et nommer la partie de la peau, qui aurait le moins de défauts

.....
.....
.....
.....
.....




Question n°4 :

Proposez trois solutions pour fermer ce coussin oreiller.

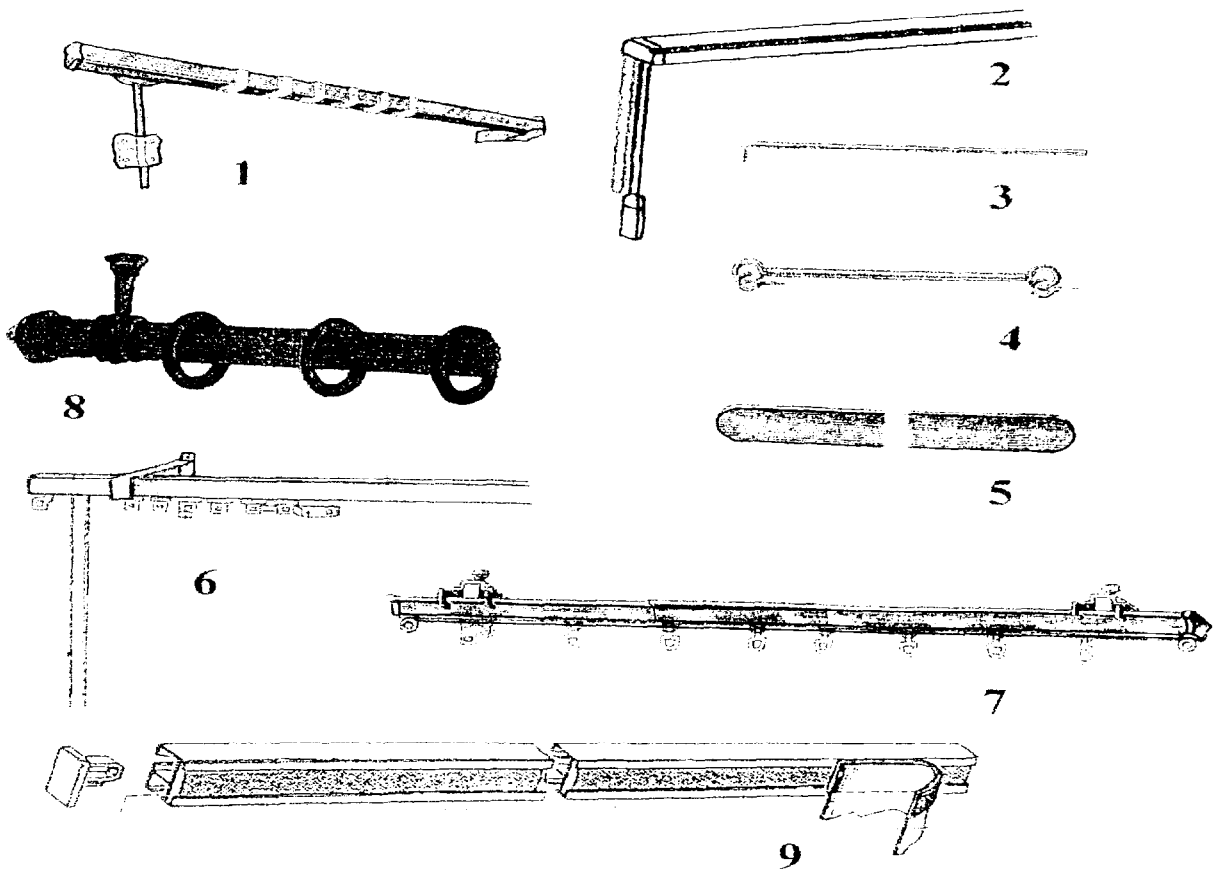
/3

Solutions technologiques	Dessins techniques



Question n°5 :

Tringles proposées :



Vous devez sélectionner une tringle pour :

Un rideau	N°	Un vitrage	N°
Un store bateau	N°	Une portière	N°

/4

CAP Tapiserie Ameublement – Couture et décor.	Sujet n° : 4 TAP110
EP 1 : Technologie et prévention.	Page : S 3/ 3