

DANS CE CADRE	Académie :	Session :
	Examen :	Série :
	Spécialité/option :	Repère de l'épreuve :
	Epreuve/sous épreuve :	
	NOM :	
	(en majuscule, suivi s'il y a lieu, du nom d'épouse)	
Prénoms :	n° du candidat	<input type="text"/>
Né(e) le :	(le numéro est celui qui figure sur la convocation ou liste d'appel)	
NE RIEN ECRIRE		

Canotier

Plan de travail :

Tracer tous les éléments du canotier en taille 55 cm :

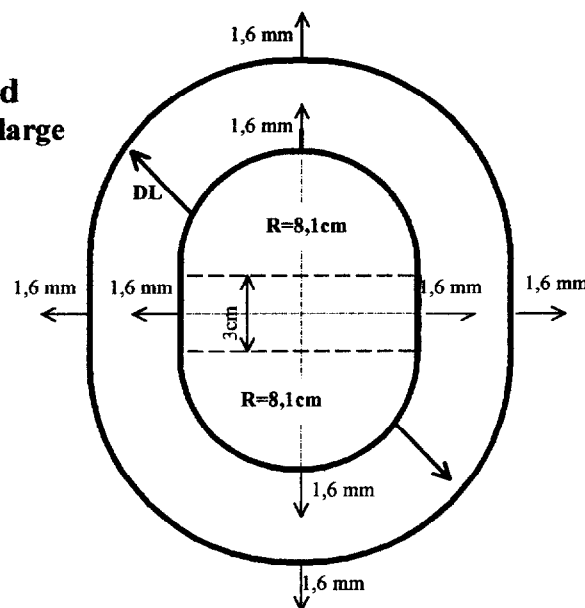
- Le bandeau
- Le bord
- Le fond.

Sachant que la taille de base est de 55 cm de tour de tête, suivre la cotation pour les autres dimensions

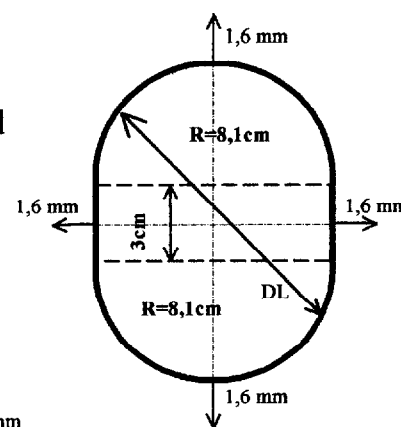
On vous demande d'établir le même modèle en Taille.57 cm en respectant la règle d'évolution.

La dimension est indiquée par taille (l'unité est en millimètre).

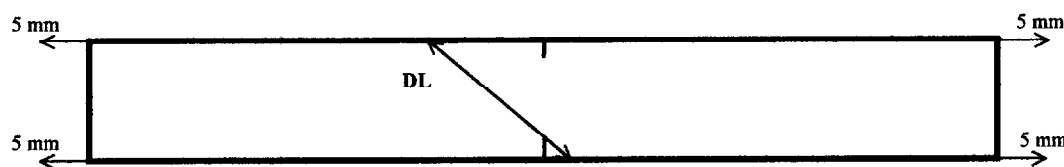
Bord
5cm de large



Fond



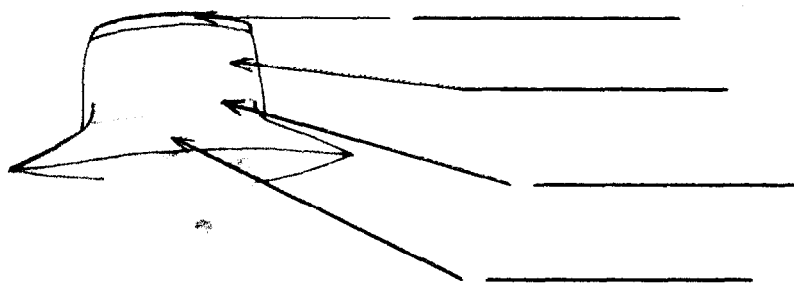
Bandeau
55 cm X 7 cm



On donne	On demande	On exige
<ul style="list-style-type: none"> • Un croquis du patron en réduction, avec les cotations . • Un plan de travail • Du papier blanc de coupe 	<ul style="list-style-type: none"> ◇ Tracer le patron à plat en taille 55 cm : <ul style="list-style-type: none"> • Le bandeau du canotier • Le fond • Le bord du canotier ◇ Inscrire toutes les indications utiles pour un patron. ◇ Réaliser le tracé de tous les éléments en taille 57 cm 	<ul style="list-style-type: none"> • La précision et la qualité du tracé. • Les indications et les repères utiles à la coupe et au montage. • La présence de la nomenclature sur le bandeau.

NE RIEN ECRIRE DANS CETTE PARTIE

Citer les noms des différentes parties d'un chapeau.



Citer les différentes parties composant un béret.

- .
- .
- .

Nommer le matériel.

