

## Fabrication d'une croupière avec son culeron

### ❖ On vous donne :

- du cuir dosset noir 3 – 3,5 mm, à savoir :
  - une bande de 1000 X 36
  - une bande de 1000 X 25
- 5 dm<sup>2</sup> de vachette grasse noire pour le culeron
- bouclerie :
  - une boucle de 25 mm
  - deux boucles de 18 mm
- la nomenclature des pièces
- le plan coté et le dessin des pièces
- le détail du montage des pièces de la croupière et du culeron (page 6)
- *une pièce réalisée est mise à votre disposition*

### ❖ On vous demande de :

- débiter les pièces suivant le plan page 7 (le débit des passants coulants et des passants fixes est laissé à l'initiative des candidats)
- réaliser le montage de la croupière et de son culeron
- procéder à la finition des pièces

Les coutures d'assemblages sont réalisées au fil de lin blanc 332 griffe n° 10

Les parages sont réalisés au couteau à pied

Les ogives sont tracées au compas

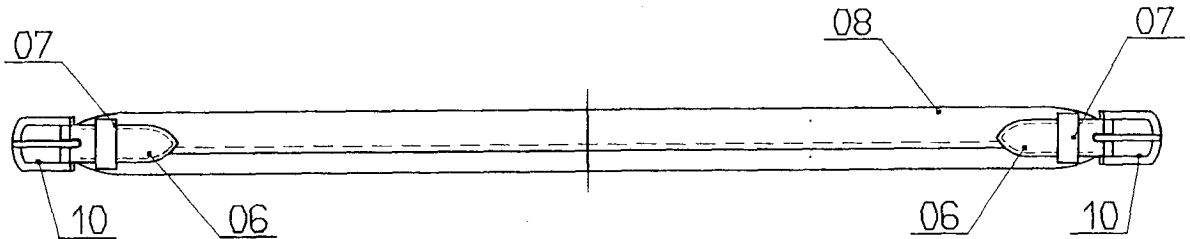
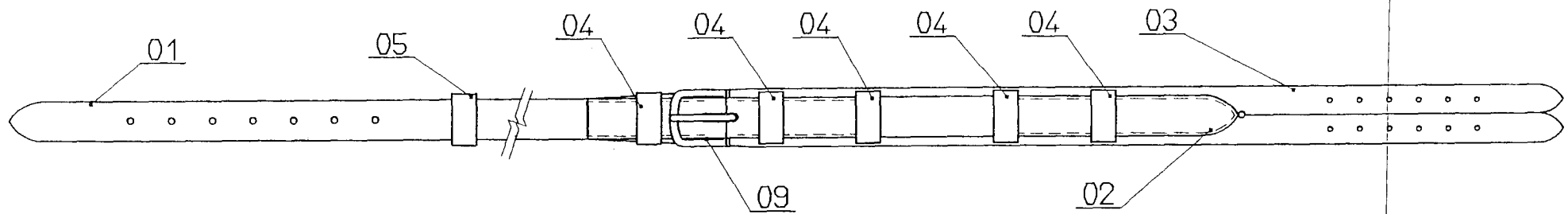
La croupière sera rendue bouclée . Vous imprimerez sur votre pièce, votre numéro de candidat



Groupement inter académique II	Session 2005	Code 3 0323		
Examen et spécialité CAP Sellier Harnacheur				
Intitulé de l'épreuve Fabrication de pièces d'harnachement				
Type <b>SUJET</b>	Facultatif : date et heure	Durée 8 heures	Coefficient 8	N° de page / total S 1/6

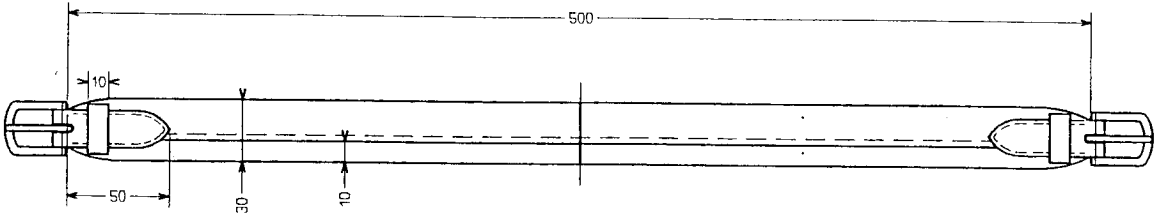
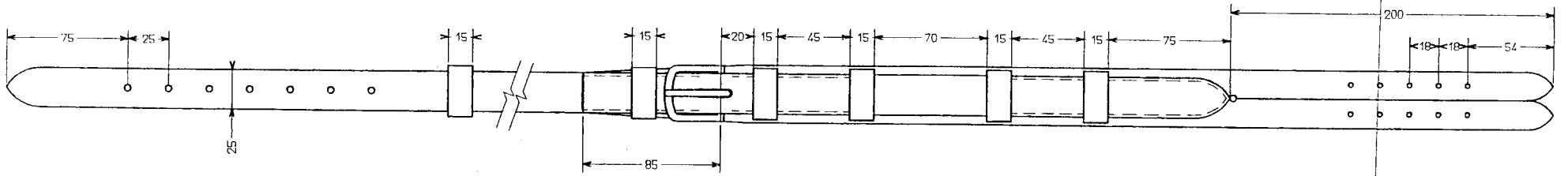
## NOMENCLATURE DES PIÈCES



10	2	Boucle 18 mm		
09	1	Boucle 25 mm		
08	1	Culeron	Vachette 1.8- 2	
07	2	Passants fixes 10 mm	Dosset 3 – 3.5	
06	2	Enchapure de culeron	Dosset 3 – 3.5	
05	1	Passants coulants 15 mm	Dosset 3 – 3.5	
04	4	Passants fixes 15 mm	Dosset 3 – 3.5	
03	1	Feutre	Dosset 3 – 3.5	
02	1	Blanchet	Dosset 3 – 3.5	
01	1	Sanglon	Dosset 3 – 3.5	
<b>Rp</b>	<b>Nb</b>	<b>Désignation</b>	<b>Matière</b>	

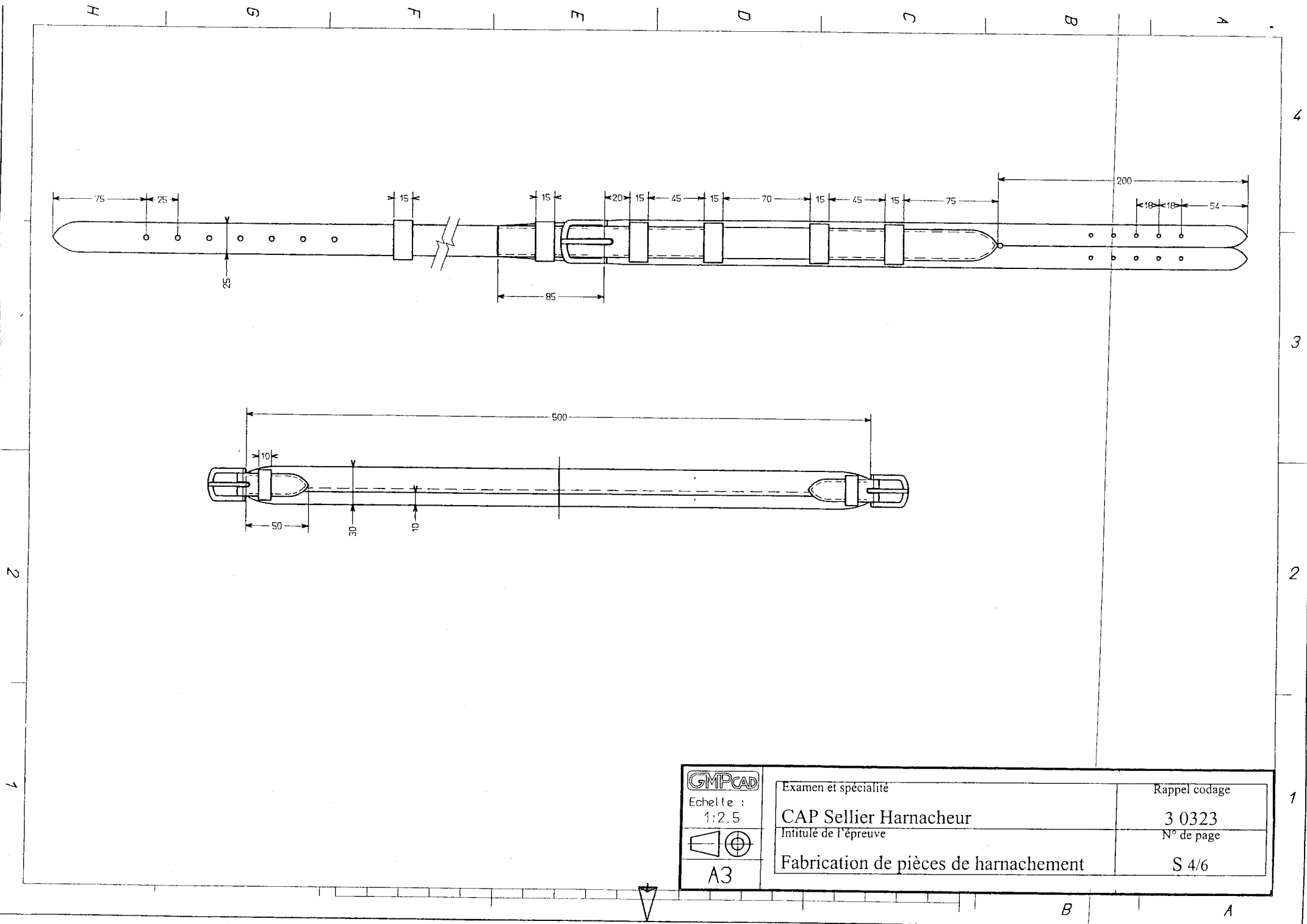
Examen et spécialité	Rappel codage
CAP Sellier Harnacheur	3 0323
Intitulé de l'épreuve	N° de page
Fabrication de pièces de harnachement	S 2/6



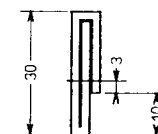
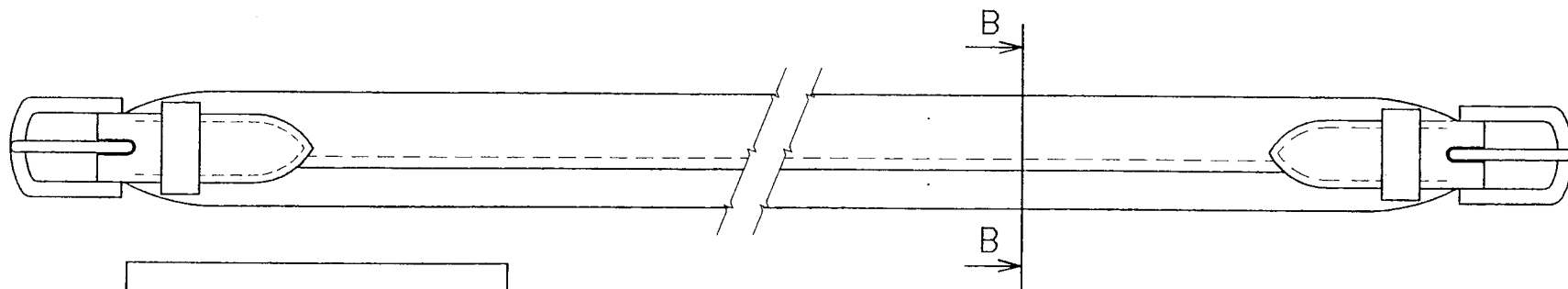
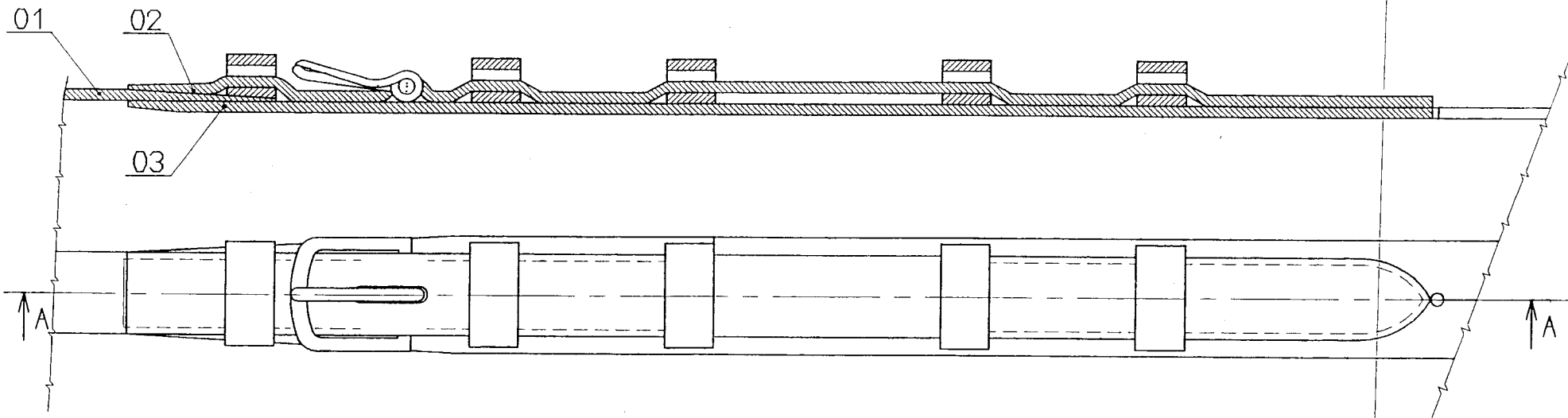
 Echelle : 1:2.5  A3	Examen et spécialité	Rappel codage
	CAP Sellier Harnacheur	3 0323
	Intitulé de l'épreuve	N° de page
Fabrication de pièces de harnachement		S 3/6





 Echelle : 1:2.5	Examen et spécialité	Rappel codage
	CAP Sellier Harnacheur	3 0323
 A3	Intitulé de l'épreuve	N° de page
	Fabrication de pièces de harnachement	S 4/6





coupe A-A



Coupe B-B

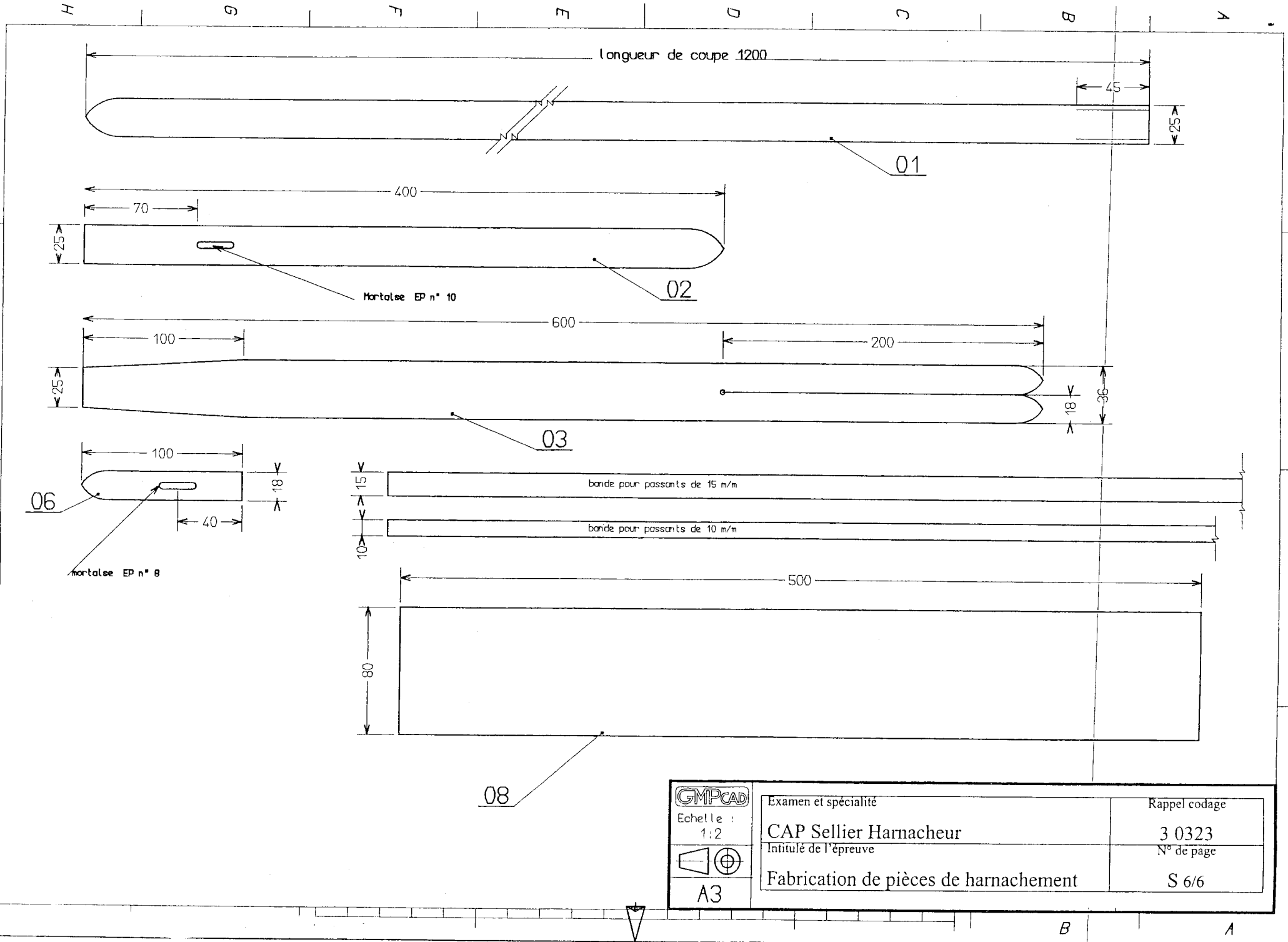


Realisation de la pince

 Echelle : 1:1.25  A3	Examen et spécialité	Rappel codage
	CAP Sellier Harnacheur	3 0323
	Intitulé de l'épreuve	N° de page
Fabrication de pièces de harnachement		S 5/6

B

A



 Echelle : 1:2  A3	Examen et spécialité <b>CAP Sellier Harnacheur</b>	Rappel codage <b>3 0323</b>
	Intitulé de l'épreuve <b>Fabrication de pièces de harnachement</b>	N° de page <b>S 6/6</b>