


S1 LETTRAGE - COULEUR

QUESTION : 1

/4

Citez les différentes familles de lettres de la classification THIBAudeau.
(Description et croquis d'un H hauteur 20 mm)



QUESTION : 2

/1,5

Quelles sont les trois couleurs primaires en synthèse soustractive ?

.....

QUESTION : 3

/2

Qu'est-ce qu'une charte graphique ?

.....

.....

QUESTION : 4

/2

Que signifie CMJN ?

.....

QUESTION : 5

/1

Citez le nom d'une police de type ELZÉVIR utilisée en informatique.

.....

QUESTION : 6

/4

Qu'est-ce qu'un nuancier Pantone, à quoi sert-il ?

.....

.....

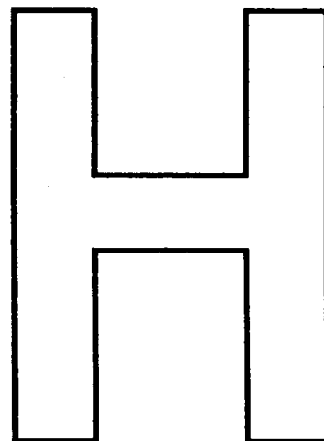
.....

.....

QUESTION : 7

/3

Définissez à l'aide du dessin d'une lettre les termes suivants :
le corps, la chasse, la graisse d'une lettre.



Groupement Inter académique II	Durée : 1h30	AGENT D'EXÉCUTION GRAPHISTE DÉCORATEUR	
	Coefficient : 2	ÉPREUVE : EP3	Technologie
SUJET	Session 2005	N° du sujet : 77-EG05	Page 1/4

S2 TRACÉS

QUESTION : 8

/2

Citez deux procédés d'agrandissement manuel.

.....

QUESTION : 9

/2

Quels sont les différents moyens pour tracer un lettrage sur bardage ?

.....

QUESTION : 10

/3

Fabrication et utilisation d'un poncif.

.....

.....

.....

.....

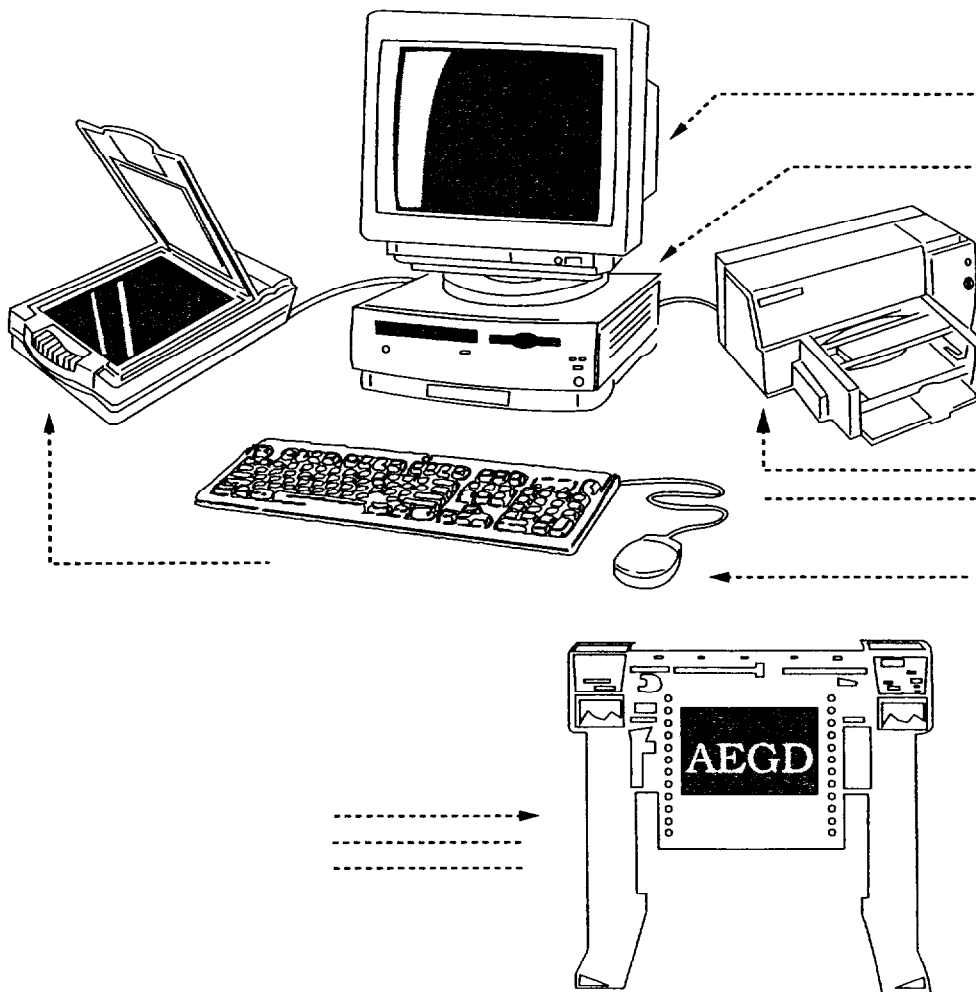
.....

.....

QUESTION : 11

/3

Complétez le schéma ci-dessous en indiquant le nom des différents éléments.



Groupement Inter académique II	Durée : 1h30	AGENT D'EXÉCUTION GRAPHISTE DÉCORATEUR	
	Coefficient : 2	ÉPREUVE : EP3	Technologie
SUJET	Session 2005	N° du sujet : 77-EG05	Page 2/4

S3 les supports

QUESTION : 12

/ 2

Citez trois supports souples utilisés pour un marquage publicitaire.

.....

QUESTION : 13

/ 2

Citez trois supports rigides utilisés pour le marquage publicitaire.

.....

.....

QUESTION : 14

/ 4

On vous demande de réaliser un fond sur une tôle en aluminium.

(un fond en adhésif, l'autre en peinture glycérophtalique)

Quels sont les travaux de préparation que vous devez réaliser pour que l'adhésif et la peinture adhèrent?

.....

.....

.....

.....

.....


.....

S4 les matériels

/ 1,5

QUESTION : 15

Complétez le schéma ci-dessous en indiquant les trois éléments principaux d'une brosse à réchampir

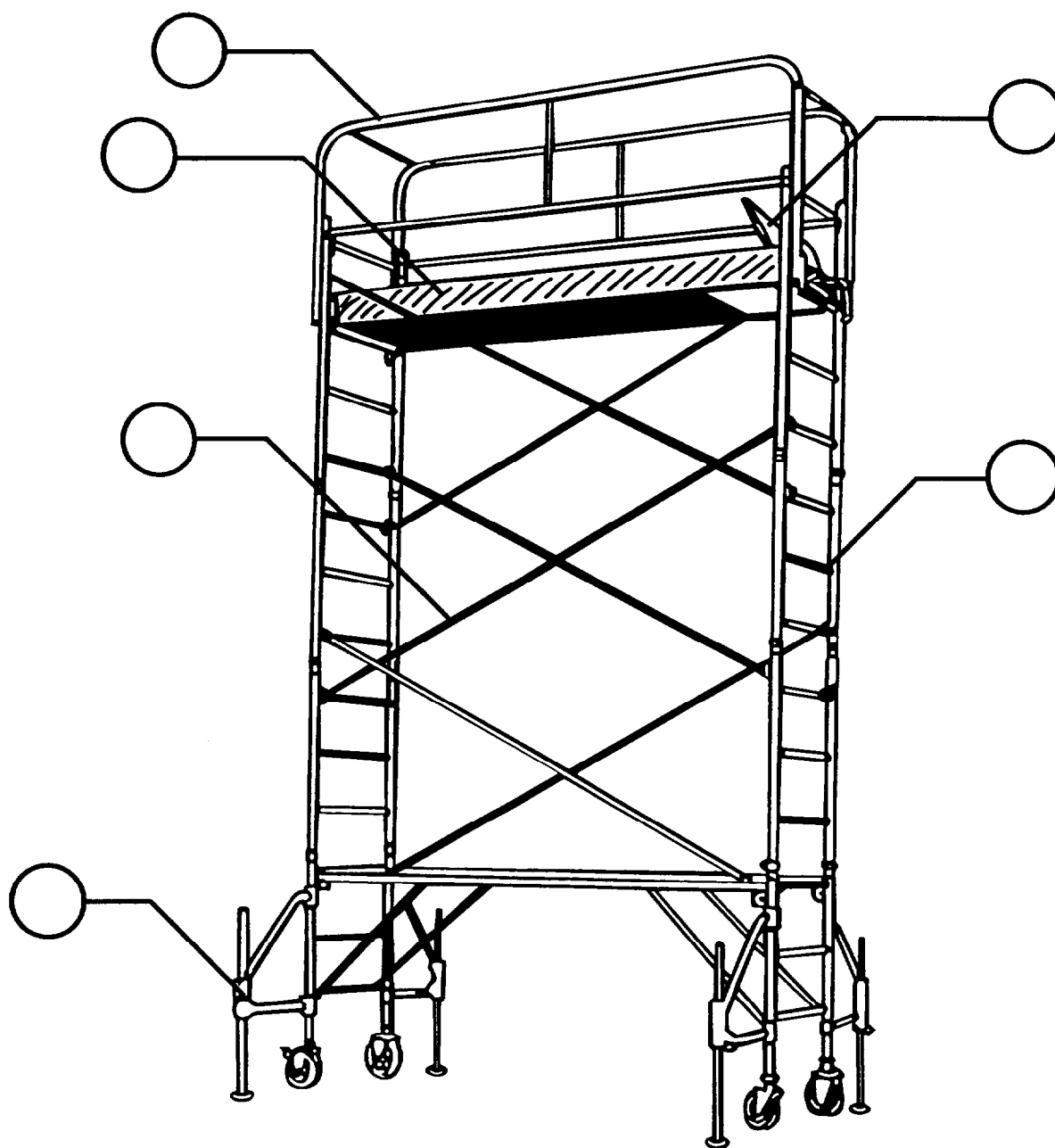


Groupement Inter académique II	Durée : 1h30	AGENT D'EXÉCUTION GRAPHISTE DÉCORATEUR	
	Coefficient : 2	ÉPREUVE : EP3	Technologie
SUJET	Session 2005	N° du sujet : 77-EG05	Page 3/4

Complétez le schéma suivant en indiquant l'emplacement des éléments qui le compose.

/ 3

- PLATEAU AVEC PLINTHE A
- GARDE-CORPS B
- HAUBAN OU CROISILLON C
- ÉCHELLE D
- STABILISATEUR E
- TRAPPE D'ACCÈS F



Groupement Inter académique II	Durée : 1h30	AGENT D'EXÉCUTION GRAPHISTE DÉCORATEUR	
	Coefficient : 2	ÉPREUVE : EP3	Technologie
SUJET	Session 2005	N° du sujet : 77-EG05	Page 4/4