

L' ANONYMAT

RESERVE A

Le candidat doit inscrire  
ci - dessous son numéro de table**M.C. : ESSAYAGE-RETOUCHE-VENTE**

Dominante : ..... Code spécialité :

Épreuve : **EP1-2 Technologie** ..... Durée : 2 H

Centre d'écrit ..... Session : 2006

NOM et Prénoms : .....  
( en majuscules, suivi s'il y a lieu du nom d'épouse )

Date et lieu de naissance : .....

Griffe du correcteur

**M.C. : ESSAYAGE-RETOUCHE-VENTE**

Dominante : .....

Épreuve : **EP1-2 Technologie**

Session : 2006

N° de sujet :

Folio 1/7

Il est interdit aux candidats de signer leur composition ou d'y mettre un signe quelconque pouvant indiquer sa provenance.  
L'usage de la calculatrice est interdit.




Melle Gallois, cliente fidèle au magasin désire ajouter une fermeture à glissière invisible sur le bas de la couture côté de son pantalon afin de modifier l'esthétique du modèle.

Le pantalon que vous a remis Melle Gallois est doublé jusqu'aux genoux.

Sur l'étiquette intérieure, on peut lire :

**MATIERES**Etoffe extérieure : **TWEED**

(41 % Polyester, 27 % Acrylique,  
26 % Laine, 6 % Polyamide).

Doublage : **SATIN** (100 % Polyester).**CODE D'ENTRETIEN DU TWEED****M.C**Spécialité : **Essayage retouche Vente**

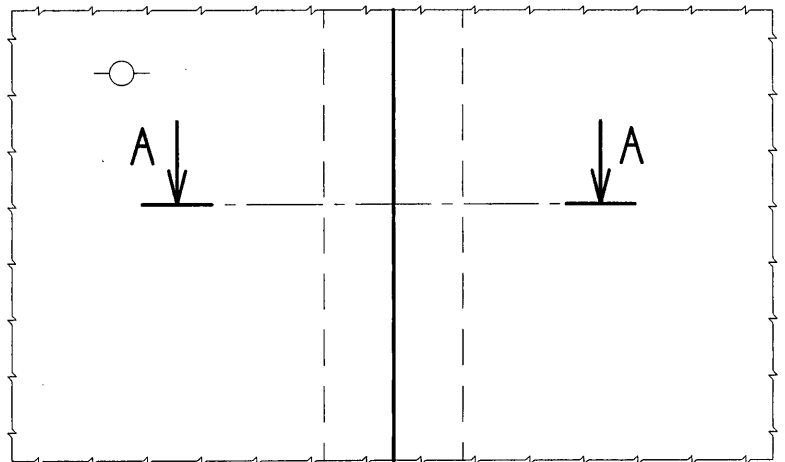

Code Spécialité : 06.190

Durée :  
2HSession  
2006Épreuve : **EP1 Technologie**Coefficient  
2Doc.  
1/7

**NE RIEN INSCRIRE DANS CETTE PARTIE**

**TRAVAIL DEMANDE :**

1. À l'aide du modèle, tracer la section de la solution technologique en respectant les normes du dessin technique.



**M. C.**

**Spécialité : Essayage Retouche Vente**  
**Epreuve : EP1 Technologie -**

**N° Sujet : 06.190**  
**Durée : 2 H**

**Session : 2006**  
**Doc. : 2/7**

**NE RIEN INSCRIRE DANS CETTE PARTIE**

2. Citer l'origine et la provenance des étoffes ci dessous :





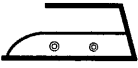
Polyester : .....

Acrylique : .....

Laine : .....

Polyamide : .....

- Déchiffrer le code d'entretien du « TWEED » :

	..... ..... .....		..... ..... .....
	..... ..... .....		..... ..... .....
	..... ..... .....		

- Citer 2 avantages du mélange textile du « TWEED » :

☞ .....

.....

☞ .....

.....

**NE RIEN INSCRIRE DANS CETTE PARTIE**

3. À l'aide du fichier ressource (doc. 7/7), choisir le matériel et les fournitures nécessaires à la réalisation de la retouche « *Ajouter fermeture à glissière invisible* ».

☞ Cocher la ou les cases appropriées.

CHOIX DES MACHINES	CHOIX DES PIEDS PRESSEURS	CHOIX DES FILS	CHOIX DES AIGUILLES + GROSSEUR DE L'AIGUILLE
<input type="checkbox"/> A <input type="checkbox"/> B <input type="checkbox"/> C <input type="checkbox"/> D <input type="checkbox"/> E <input type="checkbox"/> F <input type="checkbox"/> G <input type="checkbox"/> H <input type="checkbox"/> I	<input type="checkbox"/> 1 <input type="checkbox"/> 2 <input type="checkbox"/> 3 <input type="checkbox"/> 4 <input type="checkbox"/> 5 <input type="checkbox"/> 6	<input type="checkbox"/> 1 <input type="checkbox"/> 2 <input type="checkbox"/> 3 <input type="checkbox"/> 4 <input type="checkbox"/> 5 <input type="checkbox"/> 6 <input type="checkbox"/> 7	<input type="checkbox"/> A <input type="checkbox"/> B <input type="checkbox"/> C <input type="checkbox"/> D <input type="checkbox"/> E <input type="checkbox"/> F  <u>Choix de la grosseur de l'aiguille :</u> .....

M. C.

Spécialité : Essayage Retouche Vente  
 Epreuve : EP1 Technologie -

N° Sujet : 06.190  
 Durée : 2 H

Session : 2006  
 Doc. : 4/7



**NE RIEN INSCRIRE DANS CETTE PARTIE**

5. Citer, pour chaque catégorie, 3 moyens de prévention pour éviter tous types d'accidents. Justifier chaque réponse.

ATELIER :

☞ .....  
.....  
☞ .....  
.....  
☞ .....  
.....

POSTE DE PIQUAGE :

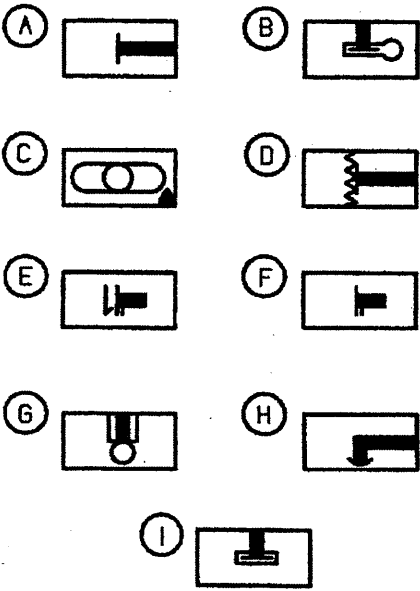
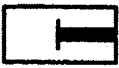

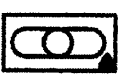






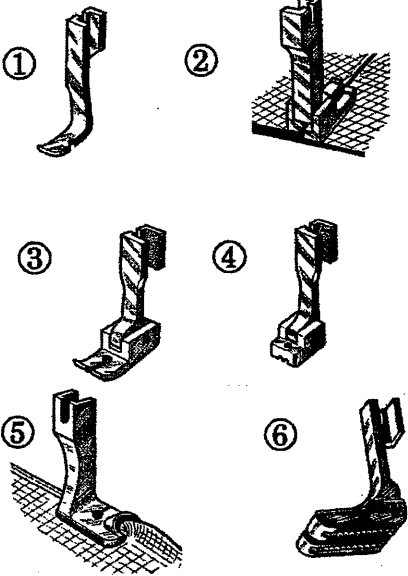

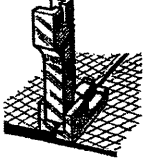


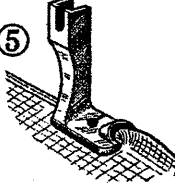

☞ .....  
.....  
☞ .....  
.....  
☞ .....  
.....

POSTE DE REPASSAGE :

☞ .....  
.....  
☞ .....  
.....  
☞ .....  
.....

**NE RIEN INSCRIRE DANS CETTE PARTIE**

**FICHER RESSOURCE**

MACHINES	PIEDS PRESSEURS
 <p>           A       B             C       D             E       F             G       H             I  </p>	 <p>           ①       ②             ③       ④             ⑤       ⑥  </p>
FILS	AIGUILLES
<ol style="list-style-type: none"> <li>1. 100 % Coton Nm 80</li> <li>2. 100 % Coton Nm 100</li> <li>3. 100 % Coton Nm 120</li> <li>4. 100 % Polyester Déci Tex 125</li> <li>5. 100 % Polyester Déci Tex 100</li> <li>6. 100 % Polyester Déci Tex 83</li> <li>7. 50 % Coton 50 % Polyester Nm 120</li> </ol>	<p><u>FORME</u></p> <p>A. Pointe excentrée            B. Pointe fine            C. Pointe normale            D. Pointe courte            E. Pointe tranchante            F. Pointe ronde</p> <p><u>GROSSEUR</u></p> <p>De la plus fine 65, 70, 75, 80,.....à la plus grosse 180.</p>

**M. C.**

Spécialité : Essayage Retouche Vente  
 Epreuve : EP1 Technologie -

N° Sujet : 06.190  
 Durée : 2 H

Session : 2006  
 Doc. : 7/7