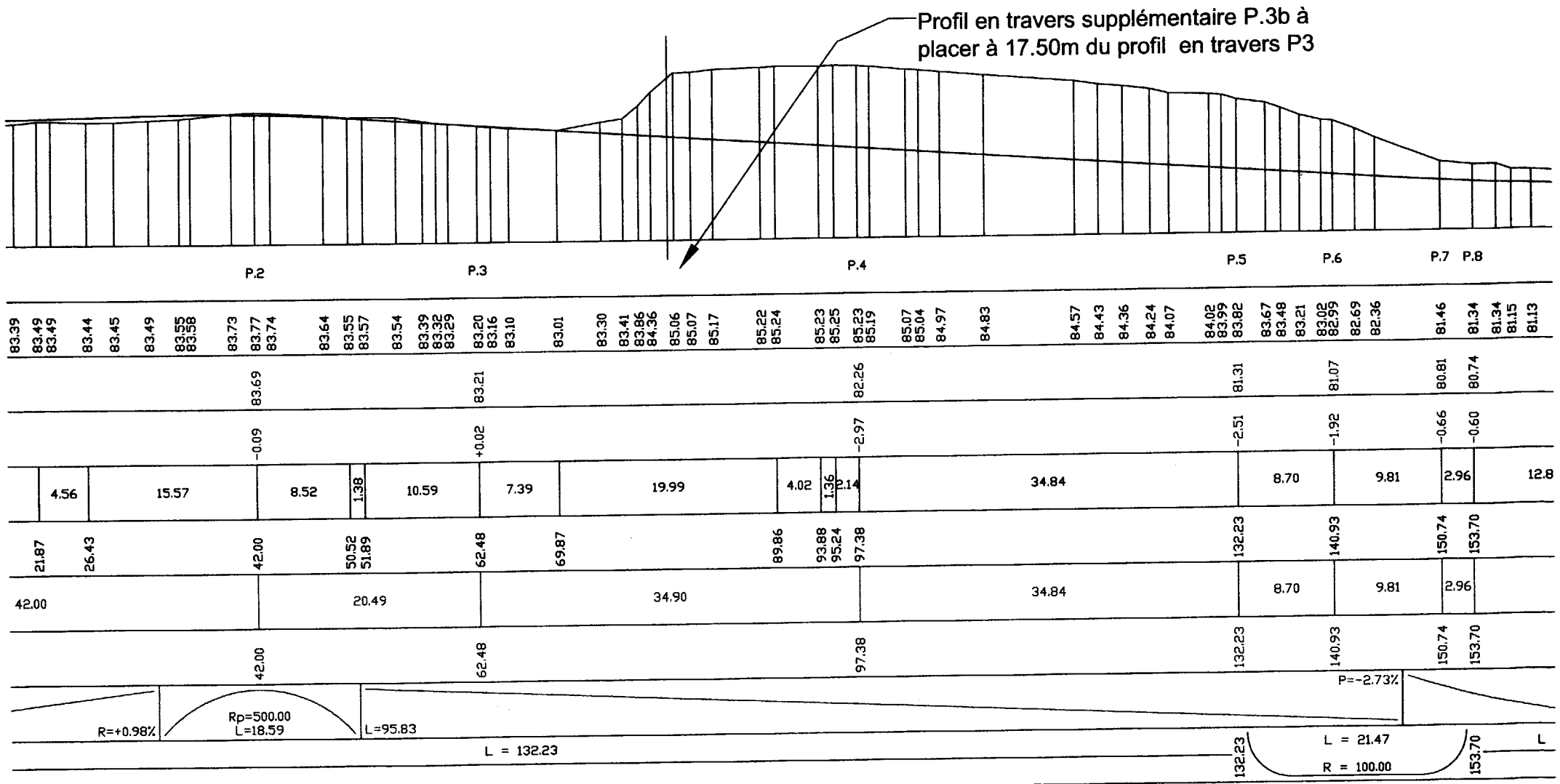


# DOCUMENT 8

## Extrait vue en plan

Echelle 1/500

BTS GEOMETRE TOPOGRAPHE		session 2006
GTRST	Epreuve : U4,2 : Recherche de solutions & Traitement des données	page 15/18



# DOCUMENT 9

Extrait du profil en long au niveau des profils en travers P.3 à P.6


Echelle horizontale : 1/500  
 Echelle verticale : 1/200

<b>BTS GEOMETRE TOPOGRAPHE</b>		<b>session 2006</b>
<b>GTRST</b>	<b>Epreuve : U4,2 : Recherche de solutions &amp; Traitement des données</b>	<b>page 16/18</b>

Profil en travers n° 3b

Echelle horizontale : 1 / 200  
 Echelle verticale : 1 / 200  
 Plan de comparaison : 81

**DOCUMENT 10**      Profils en travers  
 (Document à compléter et à rendre avec la copie)

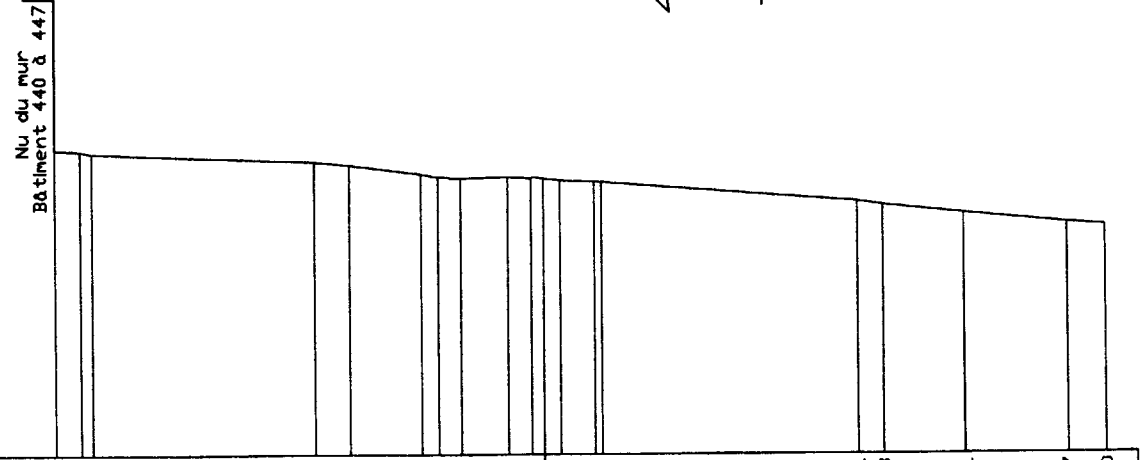


Distances à l'axe TN	86.11 13.32 86.10 13.04 86.08 12.74	85.89 18.32 85.90 9.15 85.86 8.10 85.84 7.89 85.81 7.40	85.79 5.51 85.73 4.94 85.72 4.65	85.24 1.96	85.12 0.72 85.10 0.52 84.89 0.38	84.27 1.33 84.01 1.80	83.31 3.12 83.07 3.62 82.97 4.43	82.67 6.64 82.66 7.38 82.63 7.92	82.56 10.18	82.54 12.82 82.64 13.05	82.62 14.32 82.59 15.00
Altitudes T.N.											
Distances à l'axe projet											
Altitudes projet											

Question 4.2  
Indiquer l'altitude de l'axe

Profil en travers n° 4

Echelle horizontale : 1 / 200  
 Echelle verticale : 1 / 200  
 Plan de comparaison : 78



Distances à l'axe TN	86.00 13.18 85.96 12.49 85.91 12.18	85.68 6.19 85.59 5.24	85.35 3.30 85.27 2.84 85.24 2.23	85.26 0.96 85.24 0.33 85.23 0.44 85.18 0.44 85.13 1.37 85.13 1.57	84.61 8.41 84.51 9.08	84.29 11.21	84.02 13.97 83.95 15.00
Altitudes T.N.							
Distances à l'axe projet							
Altitudes projet							

Question 4.3  
Cartouche à compléter

