

<i>Académie de Lyon</i>		<i>Session : 2006</i>	<i>Code examen</i>	<i>Tirages</i>
<u>Sujet</u> : C.A.P Cannage-Paillage en Ameublement			23420	A
			EP1	L
<i>Epreuve</i> : Technologie - Prévention - Histoire de l'art				R 15
<i>Coefficient</i> : 4	<i>Durée</i> : 3H00	<i>Feuille</i> : 1 / 7		

Le candidat répondra directement sur les feuillets

1^{ère} Question 2 Pts (0,5 pt / réponse)

A l'aide de la liste ci-dessous, cochez **4 noms** de matières premières naturelles, avec lesquelles on peut réaliser un cordon paillé en brut :

Le raphia	
Le nylon	
Le chanvre	
La laîche	
La paille de chouchou	
Herbe de mer	
La moutine	
La ficelle	
Le poil de coco	
La canne nylon	
Eclisse de rotin	
Le toron cellulosique	

2^{ème} Question 1 Pt

De quelle famille fait partie la paille de marais ?

Réponse :

<i>Académie de Lyon</i>		<i>Session : 2006</i>	<i>Code examen</i>	<i>Tirages</i>
<u>Sujet</u> : C.A.P Cannage-Paillage en Ameublement			23420	A
			EPI	L
<i>Epreuve</i> : Technologie - Prévention - Histoire de l'art				R
<i>Coefficient</i> : 4	<i>Durée</i> : 3H00	<i>Feuillet</i> : 2 / 7		

Le candidat répondra directement sur les feuillets

3^{ème} Question 4 Pts (0,50 pt / réponse)

En vous aidant de la liste établie dans le tableau ci-dessous :

- 1^{ère} / **cochez 4 produits** que l'on retire de la manufacture du rotin
- 2^{ème} / **indiquer** leur principale utilisation pour la confection d'objets

L'éclisse d'osier		
La canne		
La moelle ronde		
La membrane		
La pellicule		
La moelle trapézoïdale		
La cannisse		
La lame		
L'email		
La moelle carrée couleur		

<i>Académie de Lyon</i>		<i>Session : 2006</i>	<i>Code examen</i>	<i>Tirages</i>
<u>Sujet</u> : C.A.P Cannage-Paillage en Ameublement			23420	A
			EP1	L
<i>Epreuve</i> : Technologie - Prévention - Histoire de l'art				R
<i>Coefficient</i> : 4	<i>Durée</i> : 3H00	<i>Feuillet</i> : 3 / 7		

Le candidat répondra directement sur les feuillets

4^{ème} Question 1 Pt

Qu'est-ce qu'une « mouche » dans le vocabulaire du canneur-pailleur ?

Réponse :

5^{ème} Question 1 Pt (0,25 Pt / réponse)

Citer **4 précautions** que doit prendre un artisan canneur-pailleur lors de l'utilisation d'outils pointus et tranchants :

1^{ère} Précaution

2^{ème} Précaution

3^{ème} Précaution

4^{ème} Précaution

6^{ème} Question 3 Pts (0,5 Pt / réponse)

Parmi toutes les propositions de la grille ci-dessous, cocher **6 normes** que doit posséder un dossier de chaise canné, pour y réaliser un cannage français collé :

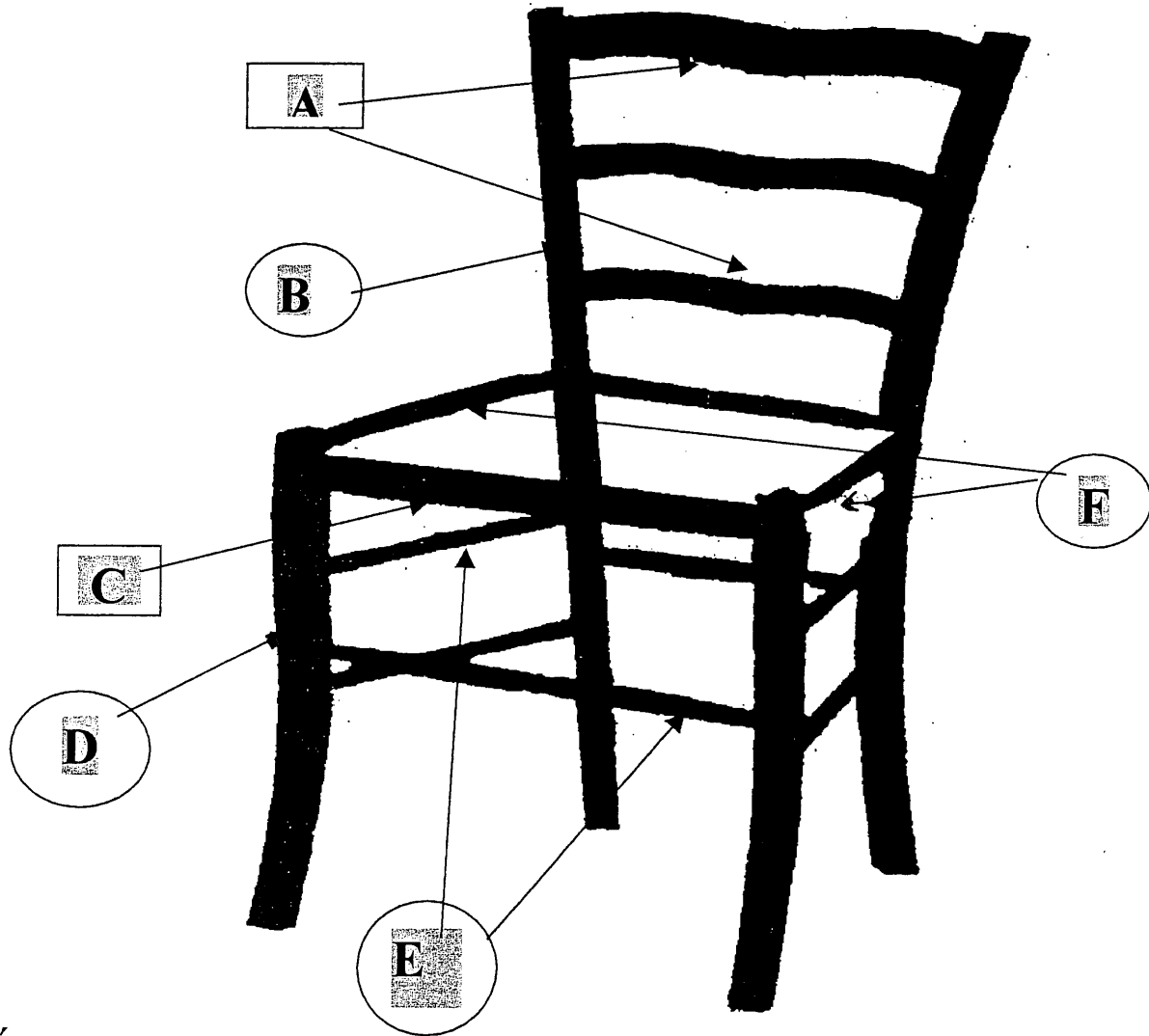
Avoir des trous	
Avoir des trous borgnes	
Avoir une gorge	
Avoir les arêtes des trous chanfreinées	
Avoir des intervalles irréguliers entre les trous	
Avoir un perçage de même diamètre pour tous les trous	
Avoir des trous percés au raz de la feuillure	
Avoir un intervalle régulier entre les trous	
Ne pas avoir de gorge	
Avoir un perçage différent pour les trous d'angles	
Etre un châssis de forme ovale obligatoirement	
Avoir des trous qui traversent le dossier	

<i>Académie de Lyon</i>	<i>Session : 2006</i>	<i>Code examen</i>	<i>Tirages</i>
<u>Sujet</u> : C.A.P Cannage-Paillage en Ameublement		23420	A
		EP1	L
<i>Epreuve</i> : Technologie - Prévention - Histoire de l'art			R
<i>Coefficient</i> : 4	<i>Durée</i> : 3H00	<i>Feuille</i> : 4 / 7	

Le candidat répondra directement sur les feuillets

7^{ème} Question 3 Pts (0,5 pt par réponse)

, Indiquer a quoi correspondent les lettres A, B, C, D, E, F, désignées sur le dessin, ou modèle présenté :



Réponses :

- A:.....
- B:.....
- C:.....
- D:.....
- E:.....
- F:.....

<i>Académie de Lyon</i>	<i>Session : 2006</i>	<i>Code examen</i>	<i>Tirages</i>
<u>Sujet</u> : C.A.P Cannage-Paillage en Ameublement		23420	A
		EP1	L
<i>Epreuve</i> : Technologie - Prévention - Histoire de l'art			R
<i>Coefficient</i> : 4	<i>Durée</i> : 3H00	<i>Feuille</i> : 5 / 7	

Le candidat répondra directement sur les feuillets


8^{ème} Question 1Pt

La « coquille » est un motif décoratif spécifique de quel style ou époque de meubles ?

Réponse :

9^{ème} Question 3 Pts (0,25 Pt par réponse)

Donner la forme et le style de ce dessin ou modèle présenté :



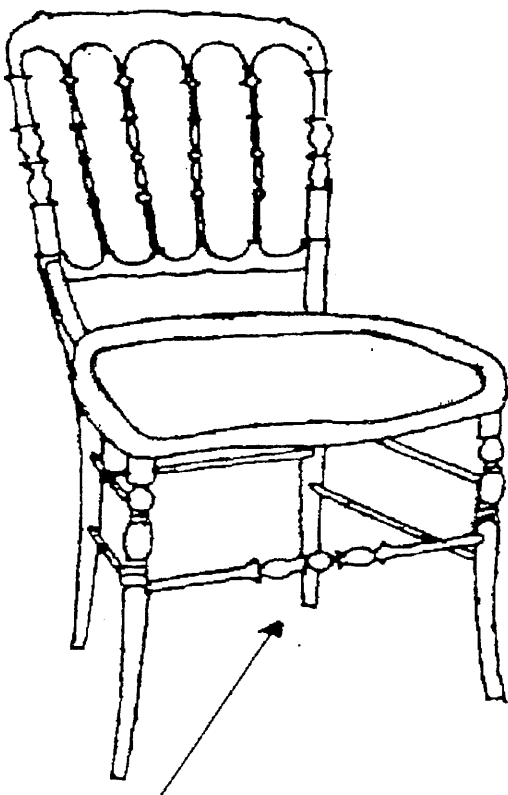
Forme :

Style :

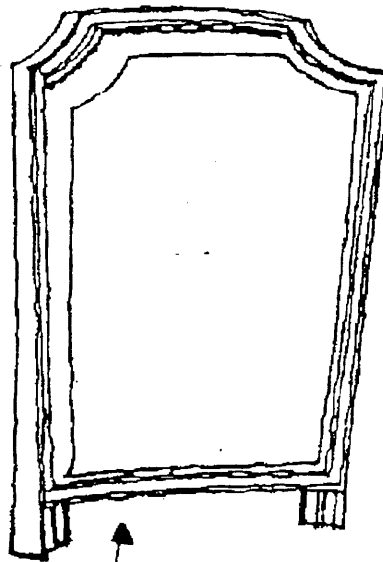
Académie de Lyon		Session : 2006	Code examen	Tirages
Sujet : C.A.P Cannage-Paillage en Ameublement			23420	A
			EP1	L
Epreuve : Technologie - Prévention - Histoire de l'art				R
Coefficient : 4	Durée : 3H00	Feuille : 6 / 7		

9^{ème} Question (suite)

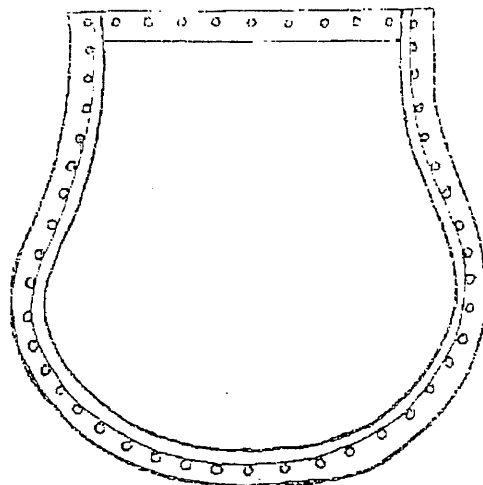
Donner la forme et le style de chacun de ces objets ci-dessous ou modèles présentés :



Forme :
Style :



Forme :
Style :



Forme :
Style :

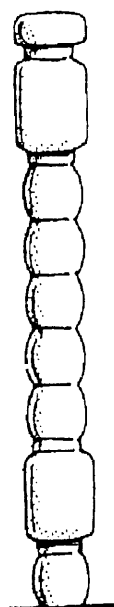
<i>Académie de Lyon</i>	<i>Session : 2006</i>	<i>Code examen</i>	<i>Tirages</i>
<u>Sujet</u> : C.A.P Cannage-Paillage en Ameublement		23420	A
		EPI	L
<i>Epreuve</i> : Technologie - Prévention - Histoire de l'art			R
<i>Coefficient</i> : 4	<i>Durée</i> : 3H00	<i>Feuille</i> : 7 / 7	

Le candidat répondra sur les feuillets directement

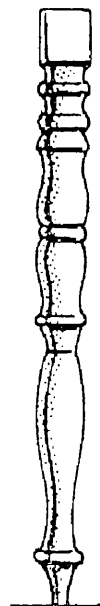
9^{ème} Question (suite)

Donner la forme et le style de chacun de ces objets ci-dessous ou modèles présentés :

Objet N°1



Objet N° 2



Objet N° 1 : Forme :

Style :

Objet N° 2 : Forme :

Style :

10^{ème} Question 1 Pt (0,50 Pt / réponse)

Le cannage français a atteint son apogée sous le règne de 2 rois, lesquels ? :

Réponse :