

RENDRE LA TOTALITÉ DU SUJET ET L'AGRAFER DANS LA COPIE MODÈLE E.N

Le document page 2/3 représente le haut d'une parclose Régence dont trois parties sont manquantes.

Il vous est demandé sur la page 3/3 :

- de compléter les deux angles supérieurs manquants de la moulure
- de compléter la partie centrale manquante de la sculpture
- de faire apparaître les refends de la sculpture entièrement
- d'effectuer les coupes A-A et B-B


Technique : crayon graphite

Critères d'évaluation :

- adéquation des parties manquantes avec le sujet
- qualité du trait
- tracé des refends
- exécution des coupes A-A et B-B

Vous rendrez les trois pages du sujet insérées dans une copie EN anonymée.


CAP ARTS DU BOIS option A : SCULPTEUR code 50 23430		
SUJET	SESSION 2006	DUREE : 1 H 30
EPREUVE : DESSIN TECHNIQUE		COEF : 1
		PAGE 1/3



Coupe B-B

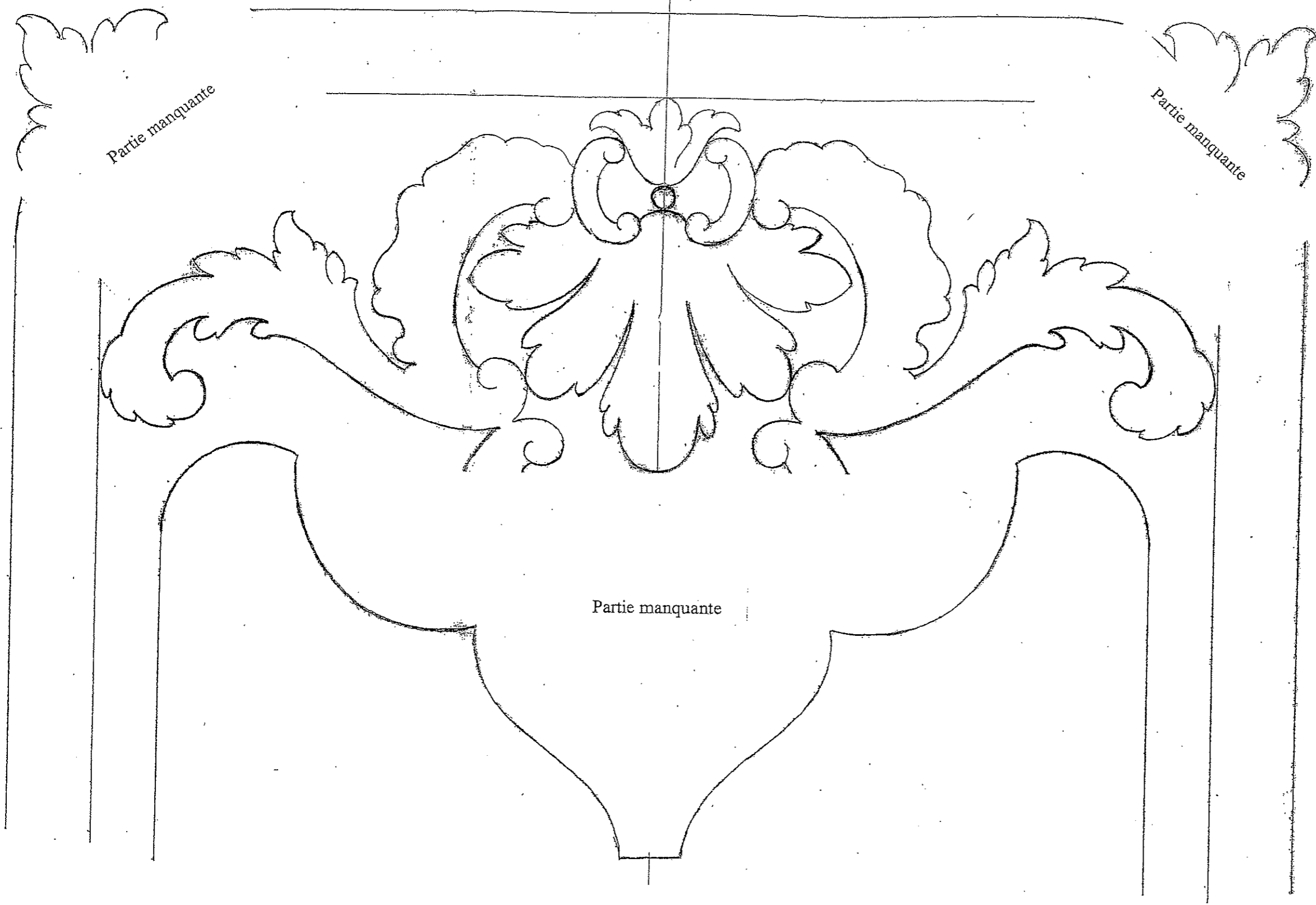


Coupe A-A



CAP ARTS DU BOIS option A : SCULPTEUR code 50 23430			
SUJET	SESSION 2006	DUREE : 1 H 30	COEF : 1
EPREUVE : DESSIN TECHNIQUE		PAGE 3/3	

8



CAP ARTS DU BOIS option A : SCULPTEUR code 50 23430			
SUJET	SESSION 2006	DUREE : 1 H 30	COEF : 1
EPREUVE : DESSIN TECHNIQUE			PAGE 2/3