

DANS CE CADRE

E RIEN ECRIRE

Académie:	Session :	Modèle E.N.
Examen :		Série :
Spécialité/option :		Repère de l'épreuve :
Epreuve/sous épreuve :		
NOM		
<small>(en majuscule, suivi s'il y a lieu, du nom d'épouse)</small>		
Prénoms :	n° du candidat	<input type="text"/>
Né(e) le :	<small>(le numéro est celui qui figure sur la convocation ou liste d'appel)</small>	

- 1) Qu'est-ce que la Ronce ?  
Quelle est son origine (faire un croquis)  
Quelles sont ses particularités et ses propriétés ?

CAP ARTS DU BOIS OPTIONS A-B-C codes 5023430-5023431-50 23432			
SUJET	SESSION 2006	DUREE : 1 H 00	COEF : 1
EPREUVE : TECHNOLOGIE GENERALE			PAGE 1/4

R51

28

NE RIEN ECRIRE DANS CE CADRE


2) Quels sont les différents instruments de serrage pour la réalisation des collages que vous effectuez dans votre spécialité ?

3) Dans les cadres ci-dessous dessinez le fil du bois :


A : pour un panneau débité sur dosse.

B : pour un panneau débité sur quartier.

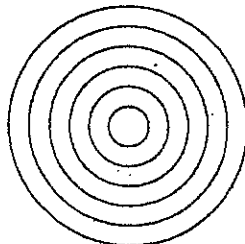
A



B



Situez sur la coupe de la bille ci-dessous l'emplacement pour chacune d'elles et donnez leur utilisation selon votre spécialité.



CAP ARTS DU BOIS OPTIONS A-B-C codes 5023430-5023431-50 23432			
SUJET	SESSION 2006	DUREE : 1 H 00	COEF : 1
EPREUVE : TECHNOLOGIE GENERALE			PAGE 2/4

RJ1

26

NE RIEN ECRIRE DANS CE CADRE

- 4) Citez deux sortes de colles utilisées dans votre spécialité ?  
Quelles sont leurs caractéristiques (avantages et inconvénients) et leurs utilisations ?

CAP ARTS DU BOIS OPTIONS A-B-C codes 5023430-5023431-50 23432			
SUJET	SESSION 2006	DUREE : 1 H 00	COEF : 1
EPREUVE : TECHNOLOGIE GENERALE			PAGE 3/4

R 51

27

NE RIEN ECRIRE DANS CE CADRE

5) Quelles sont les mesures générales de sécurité dans un atelier ?

- circulation.
- ventilation.
- tenue vestimentaire.
- incendie.

CAP ARTS DU BOIS OPTIONS A-B-C codes 5023430-5023431-50 23432			
SUJET	SESSION 2006	DUREE : 1 H 00	COEF : 1
EPREUVE : TECHNOLOGIE GENERALE			PAGE 4/4

R 54

28