

NOM :

Prénoms :

(en majuscule, suivi s'il y a lieu, du nom d'épouse)

Né(e) le :

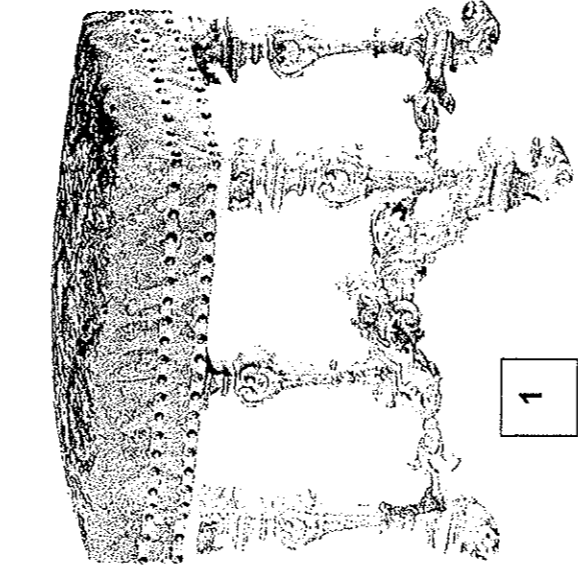
n° du candidat

(le numéro est celui qui figure sur la convocation ou liste d'appel)

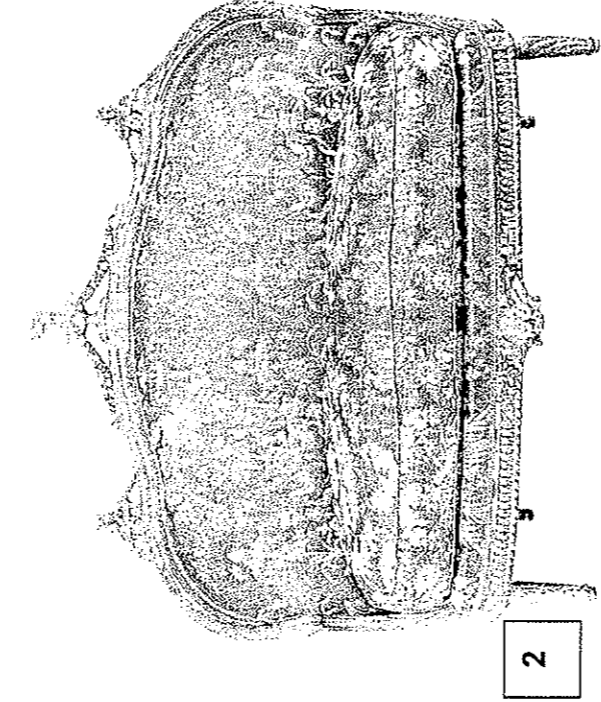
NE RIEN ÉCRIRE

**ATTENTION : le dossier sera rendu complet, à l'issue de l'épreuve.**


**CAP ARTS DU BOIS - OPTION A / SCULPTEUR.  
SUJET D'HISTOIRE DES STYLES**




1



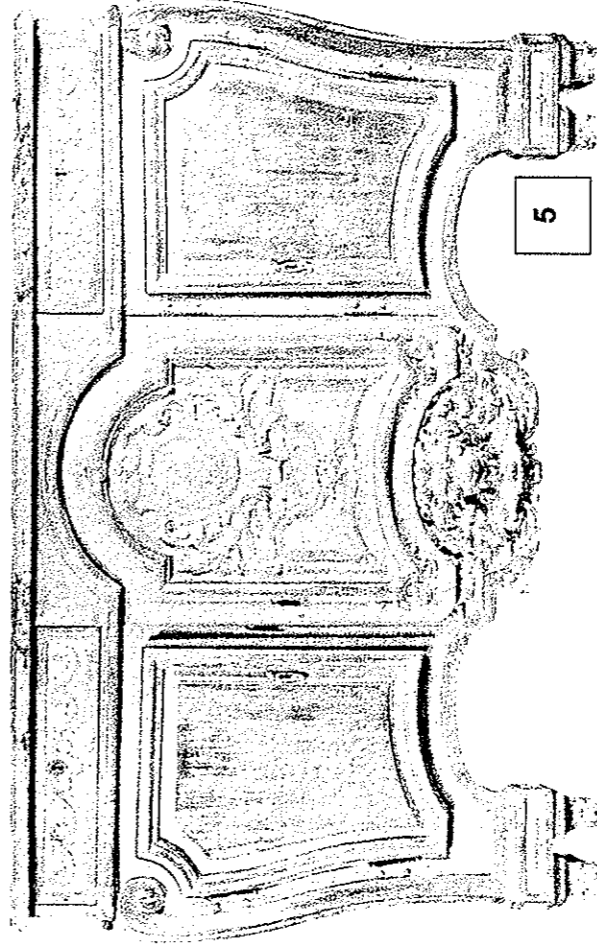
2



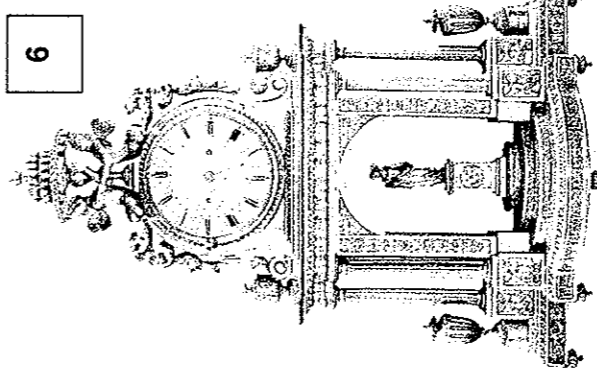
3



4



5




6

Handwritten mark

NE RIEN ECRIRE DANS CETTE PARTIE

7



ACADEMIES DE CRETEIL PARIS VERSAILLES

SESSION JUIN 2006

CAP ARTS DU BOIS - OPTION A / SCULPTEUR

EPREUVE : HISTOIRE DES STYLES

CODE : 50 234 30

DURÉE: 1H30

COEF. : 1

COULLEUR

CAP ARTS DU BOIS - OPTION A / SCULPTEUR

Sujet : Histoire des styles

Page 2/3

NE RIEN ECRIRE DANS CETTE PARTIE

SUJET :

A. Concernant les reproductions (1 à 6) qui vous sont proposées sur la feuille 1, répondez aux questions suivantes :

1. Comment appelle-t-on ce meuble ?.....  
De quel style est-il ?.....  
De quand date-t-il approximativement ?.....
2. Comment appelle-t-on ce meuble ?.....  
De quel style est-il ?.....  
De quelle période date-t-il ?.....
3. De quel style est cet objet, et de quand date-t-il ?.....
4. De quel style sont ces deux chaises ?.....  
S'agit-il d'une paire de chaises « en cabriolet » ou « à la Reine » ?.....  
Justifiez votre réponse :.....
5. Comment appelle-t-on ce meuble ?.....  
De quelle époque est-il ?.....  
De quelle technique de fabrication relève-t-il ?.....
6. De quel style est cet objet, et de quand date-t-il ?.....

B. Concernant le document 7 (vue d'ensemble et détail) de la feuille 2 :

1. Comment appelle-t-on cet objet ?.....  
A quoi servait-il ?.....
2. De quel style est-il ?.....  
Justifiez votre réponse en citant les éléments du décor :  
a :.....  
b :.....  
c :.....  
d :.....  
e :.....  
f :.....

ACADEMIES DE CRETEIL PARIS VERSAILLES	SESSION JUIN 2006	
CAP ARTS DU BOIS - OPTION A / SCULPTEUR		
EPREUVE : HISTOIRE DES STYLES	CODE : 50 234 30	R 18
	DURÉE: 1H30	COEF. : 1

23