

Une cliente vous sollicite pour le décor de son lit deux personnes. Elle hésite entre deux possibilités : un jeté de lit ou un dessus de lit. Puis elle opte pour la deuxième solution. Elle souhaite également envelopper ses deux oreillers afin qu'ils soient décoratifs, déhoussables et en harmonie avec le dessus de lit. Elle choisit un tissu de coton uni en 130 cm de laize.

**Question n°1 ( sur 2 points)**

Expliquez la différence entre un jeté de lit et un dessus de lit.

**Question n°2 ( sur 2 points)**

Enumérer les éléments du dessus de lit.

**Question n°3 (sur 4 points)**

Proposer deux solutions technologiques pour confectionner le plateau du dessus de lit sous forme de sections.




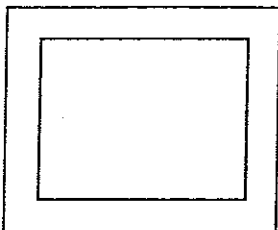
Repérer les éléments.

**Question n°4 ( sur 3 points)**

Proposer trois finitions de bord pour les housses d'oreillers décoratives en prenant pour exemple le volant plat.

Exemple :

Volant plat



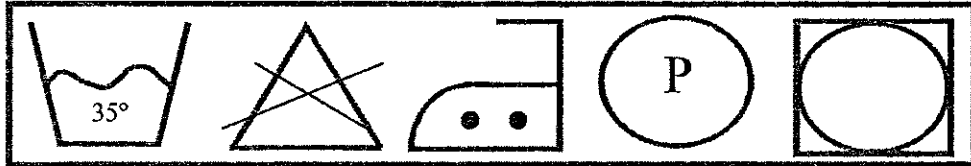
Groupement inter académique II	Session 2006		
<b>CAP Tapiserie ameublement - Couture et décor.</b>			
EP 1 : Technologie et prévention			
SUJET 6 C926	Durée : 1h 30	Coefficient : 2	Page S1/2

**Question n°5 ( sur 4 points)**

Proposer quatre moyens de fermeture des housses d'oreillers  
Représenter par un schéma un moyen de fermeture

**Question n°6 ( sur 2,5 points)**

Décoder les symboles représentés sur la lisière du tissu.



**Question n°7 ( sur 2,5 points)**

Pour votre sécurité, citer 5 précautions à prendre lors de l'utilisation du matériel de repassage (vapeur ou non).

CAP Tapisserie Ameublement – Couture et décor.	Rappel codage 6C926
EP 1 Technologie et prévention	Page : S2/2