

DANS CE CADRE


NE RIEN ECRIRE

Académie :	Session :
Examen :	Série :
Spécialité/option :	Repère de l'épreuve :
Epreuve/sous épreuve :	
NOM :	
(en majuscule, suivi s'il y a lieu, du nom d'épouse)	
Prénoms :	n° du candidat
Né(e) le :	(le numéro est celui qui figure sur la convocation ou liste d'appel)

PRÉPARATION TECHNOLOGIE

Modèle « *L'air de rien* »

Chapeau en laize de rabane
Composée d'une calotte droite, d'un bord relevé à droite, avec un contour en forme de carré décalé, et d'un fond plat en forme d'ovale. L'entrée de tête est de 57 cm.

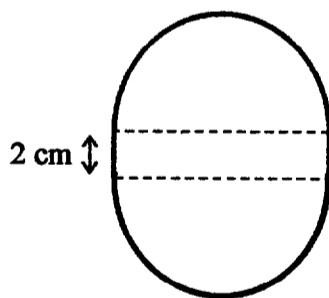


On donne	On demande	On exige
<ul style="list-style-type: none"> • Un croquis • Un patron en réduction avec cotations • Un plan de travail 	<ul style="list-style-type: none"> • Tracer et transformer le bord • Tracer le bandeau et le fond • Réaliser le patronnage industriel • Compléter la nomenclature 	<ul style="list-style-type: none"> • L'exactitude des dimensions • La précision du tracé • La précision du découpage • Toutes les indications utiles à la coupe et au montage

Plan de travail :

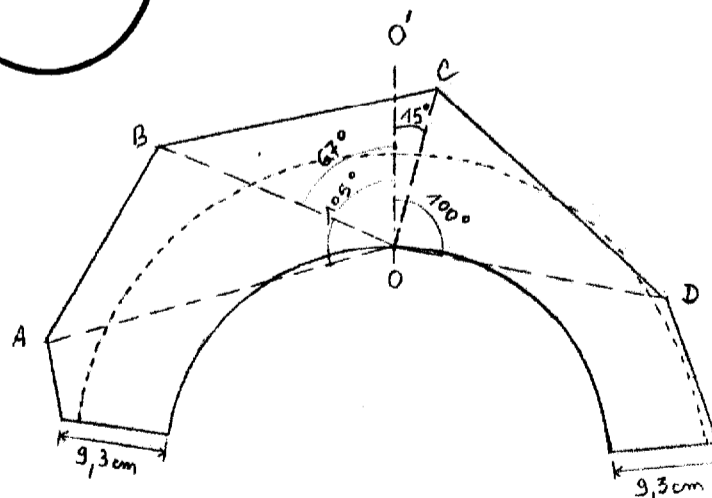
Bandeau :
Tour de tête 57 cm
Hauteur 9 cm

Fond :
Tracer un ovale simplifié.



Bord de base :
Tracer un cercle 57 cm de périmètre.
Tracer un contour parallèle de 8 cm de large.

Transformation du bord :
Resserrer le contour de 28 cm.
Régler la ligne d'entrée de tête.
Retracer le bord :
L'axe du milieu devant OO'
La ligne AO = 30,5 cm, l'angle AOO' = 105°
La ligne BO = 22 cm, l'angle BOO' = 67°
La ligne CO = 14 cm, l'angle COO' = 15°
La ligne DO = 23,5 cm, l'angle DOO' = 100°
Longueur milieu dos = 9,3 cm



NE RIEN ECRIRE DANS CETTE PARTIE

Régler le patron.
Réaliser le patronnage industriel de ces éléments.
Porter toutes les indications utiles à la coupe et au montage.
Compléter la nomenclature.

5	1	Coiffe en doublure
2	1	Bandeau
1	1	Fond
Rp	Nb	Désignation

Assemblage	Valeur de couture
Assemblage fond/bandeau	1 cm
Assemblage bandeau/bord	1 cm
Assemblage milieu dos	1,5 cm

Technologie :

Citer les différentes sortes de pailles et rabane .

Citer les apprêts utilisés pour la paille et leurs diluants.

Quelle est l'utilité d'un laiton ou d'un acier pour les bords de chapeaux ?
