

CORRIGÉ

Ces éléments de correction n'ont qu'une valeur indicative. Ils ne peuvent en aucun cas engager la responsabilité des autorités académiques, chaque jury est souverain.

CORRIGE

Vous êtes employé dans un lycée en tant qu'ouvrier d'entretien et d'accueil. Les élèves sont en vacances. L'agent chef vous a transmis votre planning de travail pour la semaine.


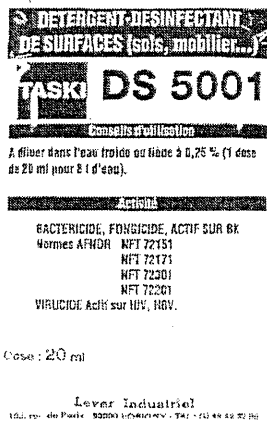
Il vous est demandé d'effectuer :

- l'entretien du hall d'accueil dont le sol est en pierre marbrière ;
- l'entretien des portes vitrées de ce hall ;
- l'entretien des sanitaires (dont le sol est en grès cérame et les parois en faïence) ;
- le lessivage des surfaces peintes (hall + sanitaires).

Dans ce hall, la brillance du sol est très diminuée par le fait d'un important trafic.

1. Vous commencez par réaliser l'entretien à fond des sanitaires. Pour cela, vous allez employer des produits. Parmi la liste suivante cocher ceux que vous utiliserez : **1,5 point**

- | | | | | |
|------------------------|-------------------------------------|-------------------|-------------------------------------|--------------------------|
| dégraissant | <input type="checkbox"/> | désinfectant | <input checked="" type="checkbox"/> | 0,5 pt par bonne réponse |
| détergent | <input checked="" type="checkbox"/> | abrasif en poudre | <input type="checkbox"/> | |
| spray | <input type="checkbox"/> | abrasif en crème | <input checked="" type="checkbox"/> | |
| décapant | <input type="checkbox"/> | détartrant | <input checked="" type="checkbox"/> | |
| détergent désinfectant | <input checked="" type="checkbox"/> | émulsion | <input type="checkbox"/> | |



2. A partir du texte imprimé sur une dose de détergent désinfectant, répondre aux questions suivantes :

2.1 Définir les termes suivants : **3 points**


Bactéricide : *qui détruit les bactéries*

Virucide : *qui tue les virus*

Fongicide : *qui détruit les champignons microscopiques*

1 pt par bonne réponse

2.2 Cocher le pictogramme approprié au produit. **1 point**



2.3 L'utilisation de ce produit nécessite certaines précautions d'emploi. Vous devez donc vous protéger pour éviter des maladies et accidents professionnels. Préciser ces moyens de protection : **1 point**

Port de gants obligatoire

Port de lunettes de protection

0,5 pt par bonne réponse

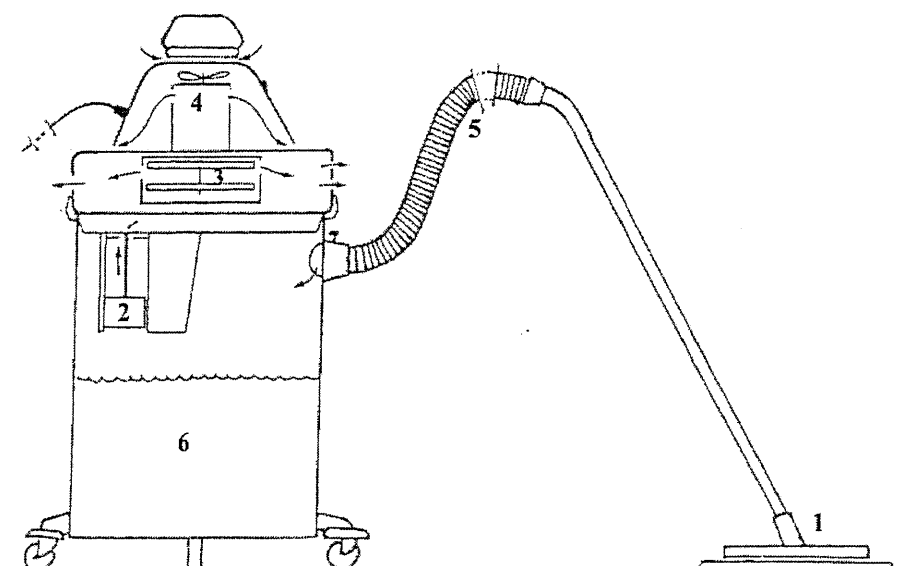
3. Vous allez nettoyer et désinfecter les parois des sanitaires. Parmi les propriétés suivantes, cocher celles qui caractérisent la faïence : **1,5 point**

- | | | | |
|----------------------|-------------------------------------|-----------------------------------|-------------------------------------|
| Imperméable à l'eau | <input checked="" type="checkbox"/> | Résistante aux abrasifs durs | <input type="checkbox"/> |
| Résistante aux chocs | <input type="checkbox"/> | Résistante aux produits chimiques | <input checked="" type="checkbox"/> |
| Perméable à l'eau | <input type="checkbox"/> | Sonore | <input checked="" type="checkbox"/> |

0,5 pt par bonne réponse

CORRIGE

4. Vous procédez maintenant à l'entretien des vitres de la porte d'entrée.
- 4.1 Citer les 2 méthodes d'entretien : 1 point
Méthode à la française
Méthode américaine
- 4.2 Donner le principe d'une méthode de lavage des vitres. 0,5 point
Mouiller pour décoller les salissures - sécher avec raclette
- 4.3 Donner la caractéristique du détergent que vous utilisez : 0,5 point
Détergent moussant
5. Vous réalisez l'entretien de votre sol en pierre marbrière. Un aspirateur à eau, une monobrosse à basse vitesse + accessoires, des produits sont indispensables à la réalisation de votre cristallisation.
- 5.1 Compléter le tableau à l'aide du schéma de l'aspirateur à eau. 3 points

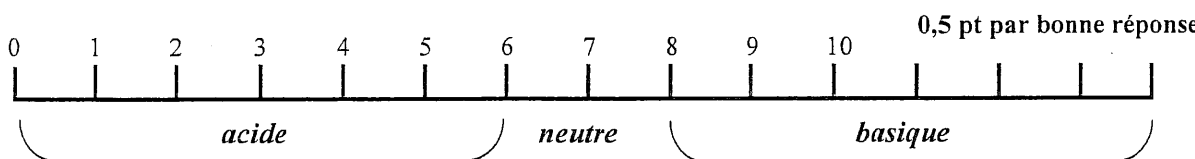


N°	Organes
1	<i>Suceur</i>
2	<i>Flotteur</i>
3	<i>Turbine</i>
4	<i>Moteur</i>
5	<i>Tuyau flexible</i>
6	<i>cuve</i>

0,5 pt par bonne réponse

- 5.2 Cocher la case qui convient au pH du produit à cristalliser. 0,5 point
 Basique Neutre Acide

- 5.3 situer sur l'échelle de pH, les trois termes suivants : acide – neutre – basique. 1,5 point



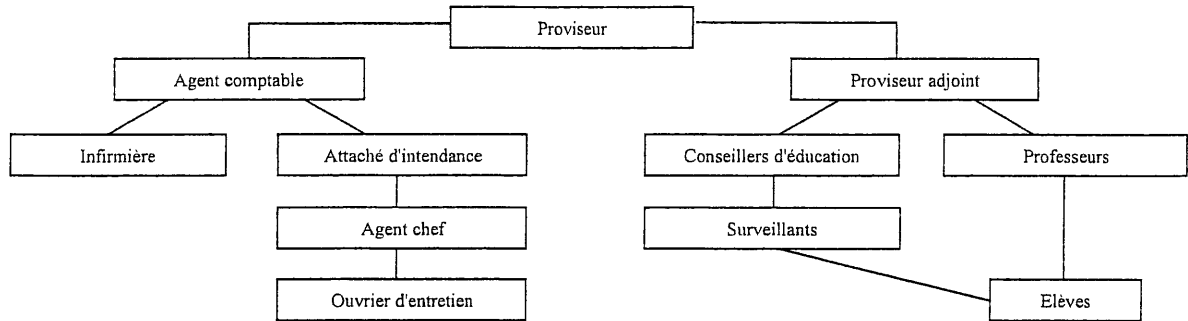
6. Lors de l'entretien de votre hall, vous avez omis de baliser votre chantier. Un agent administratif voulant se rendre à la loge pour déposer du courrier ne s'aperçoit pas que le sol en pierre marbrière n'est pas encore sec, glisse et tombe. Il se plaint de son poignet droit; il est conduit à l'infirmerie de l'établissement où l'infirmière diagnostique une entorse. L'agent se rendra à l'hôpital et sera soigné. Cet accident nécessite une incapacité temporaire de travail.

- 6.1 Indiquer le type d'accident dont il s'agit et en donner la définition. 2 points
Accident du travail : c'est un accident qui se produit à l'occasion du travail à toute personne salariée qui travaille à quelque titre ou quelque lieu que ce soit pour un ou plusieurs employeurs

1 pt pour le type d'accident
 1 pt pour la définition

CORRIGE

- 6.2 Vous devez vous adresser à vos responsables hiérarchiques pour la déclaration d'accident de travail. Vous regardez donc sur le tableau d'affichage le schéma suivant :



- 6.2.1. Donner le nom de ce schéma. 0,5 point
Un organigramme
- 6.2.2. Citer vos responsables hiérarchiques : 1 point
 - *Agent chef*
 - *Attaché d'intendance* 0,25 pt par bonne réponse
 - *Agent comptable*
 - *Proviseur*
- 6.2.3. Donner la fonction de la personne qui signera la déclaration d'accident 0,5 point
Le proviseur
- 6.2.4. De combien de temps dispose l'employeur pour déclarer cet accident. 0,5 point
 Cocher la bonne réponse :
 72 h 48 h 24 h 12 h
- 6.2.5. A quel organisme doit être adressé cette déclaration ? Cocher la bonne réponse : 0,5 point
 mutuelle sécurité sociale hôpital