

EPREUVE ECONOMIQUE ET JURIDIQUE

(Ce sujet comporte 6 pages numérotées de 1 à 6)

Connaissances associées (Référentiel)	DOSSIER Travail demandé	Annexes	Barème	Evaluation
PARTIE 1 : ECONOMIE				
La croissance et emploi		1a-1b	6 points	/6
4.1.2 La production <i>La mesure de la production au niveau national</i>	1. Signification du sigle PIB 2. PIB et taux de croissance 3. Relation entre croissance et emploi 4. Tendance de la croissance			/1 /2 /1 /2
La population active et le chômage		2a-2b-2c-2d	17 points	/17
4.1.5 .L'emploi <i>- La population active</i> <i>- Le chômage</i>	5. La notion d'actifs 6. La population active 7. Taux de chômage en France 8. Dénombrement des chômeurs 9. Calcul du taux de chômage 10. Evolution du taux de chômage 11. Développement structuré			/1.5 /1 /1 /1 /1.5 /1 /10
PARTIE 2 : DROIT				
La représentation du personnel		3	8.5 points	/8.5
4.2.7 Le salarié : le droit social <i>Les représentants des salariés dans l'entreprise, comité d'entreprise, les délégués du personnel</i>	12. Résumé de la situation 13. Le tribunal compétent 14. Le versement de 43,16 € 15. Rôle du CHSCT 16. La représentation des salariés			/3.5 /1 /1 /1 /2
La rupture du contrat de travail		4	8.5 points	/8.5
4.2.1 Le cadre de vie juridique <i>Le respect du droit : l'organisation judiciaire</i> 4.2.7 Le salarié : le droit social <i>Le contrat de travail : définition, effets, rupture</i>	17. Identifier les parties en présence 18. L'objet de la condamnation 19. L'organisation judiciaire 20. Le jugement 21. Décisions de la cour de cassation 22. La condamnation			/2 /1,5 /2 /1 /1 /1
TOTAL			40 points	/40

GROUPEMENT INTERACADEMIQUE II			Session 2006
BEP Métiers de la comptabilité — BEP Métiers du secrétariat			
EP3 — EPREUVE ECONOMIQUE ET JURIDIQUE			
SUJET	Durée : 1 h 30	Coef : 2	Page 1/6

Partie I - ECONOMIE

1- La croissance et l'emploi

A partir des **annexes 1a et 1b** et de vos connaissances, répondez aux questions suivantes sur votre copie :

1. Donnez la signification du sigle PIB
2. Que mesure le PIB ; que mesure le taux de croissance ?
3. Pourquoi la croissance du PIB peut-elle favoriser la création d'emplois ?
4. Quelle est la tendance de la croissance au 3^{ème} trimestre 2005 dans la zone euro ?

2- La population active et le chômage

A partir des **ANNEXES 2a et 2b** et de vos connaissances, répondez aux questions suivantes sur votre copie :

5. Définissez la notion « d'actifs »
6. Faites vous partie, en tant que lycéen, de la population active ? Expliquez pourquoi ?
7. Quel est le taux de chômage en France : en septembre 2005 ? en octobre 2005 ?
8. Quel est l'organisme chargé de dénombrer le nombre de personnes à la recherche d'un emploi en France ?
9. Comment calcule t-on le taux de chômage ?
10. Quelle est l'évolution du chômage en 2005 ?

11. Développement Structuré

A partir de vos connaissances et de l'ensemble des documents disponibles en **ANNEXES 2A, 2B, 2C, 2D**, rédigez un développement structuré :

- En introduction, vous dresserez un état des lieux sur l'évolution de la population active et du chômage en France,

- Dans une première partie, vous énoncerez les causes les plus courantes du chômage et les secteurs d'activités les plus touchés ces dernières années,

- Dans une seconde partie, vous mettrez en avant les différentes mesures du gouvernement actuel visant à créer des emplois en France et désignerez les principaux bénéficiaires de ces mesures,

- En conclusion, vous désignerez le secteur d'activité où semble se créer durablement le plus d'emplois et donnerez une explication possible de cette mutation d'après l'évolution de la population active observée.

3- La Représentation du personnel

A partir de L'ANNEXE 3 et de vos connaissances, répondez aux questions suivantes sur votre copie :

12. Résumer la situation :

- les parties en présence,
- les faits,
- le jugement prononcé.

13. Quel est le tribunal compétent dans cette affaire ? Pourquoi ?

14. A quoi correspond la somme de 43,16 € ?

15. Quelle est la signification du sigle CHSCT et quel est son rôle dans l'entreprise ?

16. Citez deux autres instances représentatives des salariés dans l'entreprise.

4- La Rupture du contrat de travail

A partir de L'ANNEXE 4 et de vos connaissances, répondez aux questions suivantes sur votre copie.

17. Quelles sont les parties en présence dans l'affaire énoncée dans cet article ?

18. Pour quelle raison l'entreprise est-elle condamnée ?

19. Quelle(s) juridiction(s) a (ont) déjà examiné(es) cette affaire avant le pourvoi en cassation ?

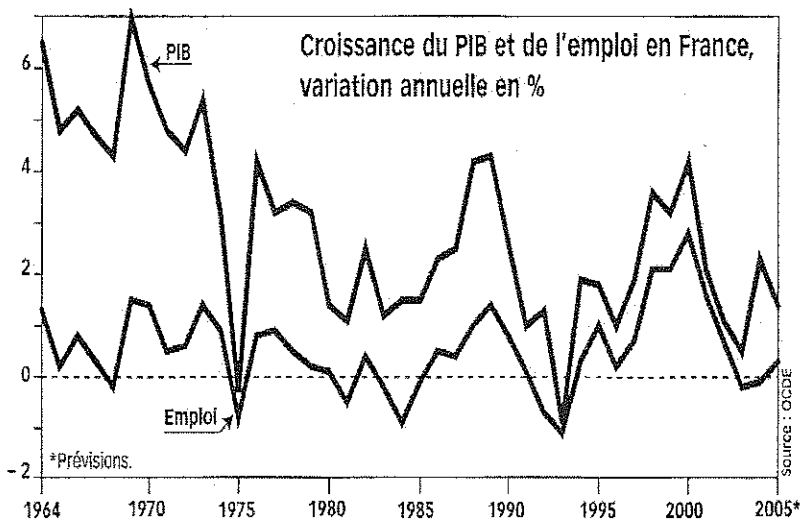
20. Expliquez la phrase : « La cour de cassation a rendu définitive... »

21. La cour de cassation aurait pu prendre une autre décision, laquelle et quelle en serait la conséquence ?

22. Quelle est la condamnation requise contre l'entreprise ?

ANNEXES

Annexe 1a



On observe une très forte corrélation⁽¹⁾ entre la croissance du produit intérieur et celle de l'emploi dans les-pays de l'OCDE⁽²⁾. De même, en France, les fluctuations de la production et celles de l'emploi sont étroitement parallèles. Les deux courbes se rapprochent sensiblement dans les années 90, marquées par un « enrichissement de la croissance en emplois ». Ainsi, la reprise de 1997-2000, équivalente à celle de 1986-1989, a créé beaucoup plus d'emplois. Lors de la petite reprise de 2004, en revanche, le lien entre croissance et emploi paraît s'être distendu.

Alternatives Economiques H.S. n°66 4^{ème} trimestre 2005

- (1) lien, rapport
- (2) Organisation de Coopération et Développement Economiques

Annexe 1b

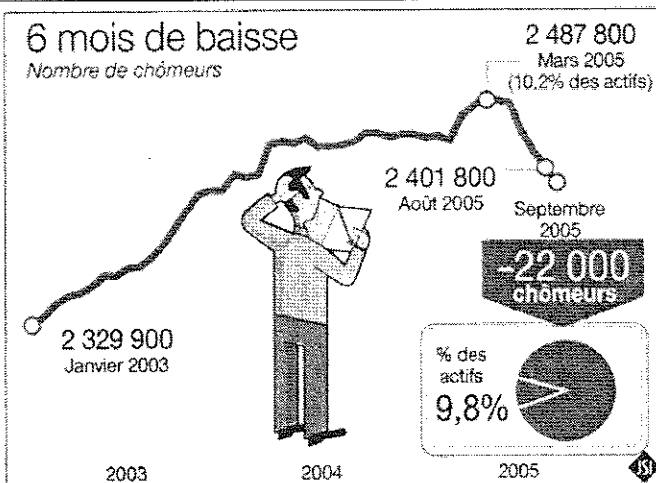
Frémissement de la croissance dans la zone euro

La croissance du produit intérieur brut (PIB) s'est accélérée dans les 12 pays de la zone euro avec + 0,6 % au 3^e trimestre. Soit + 1,5 % en un an.

Ouest France du 15/11/05

Annexe 2a

Sixième mois de baisse pour le chômage en septembre



La bonne nouvelle d'un sixième mois consécutif de baisse du chômage brûlait les lèvres du gouvernement. Au point que le chiffre est tombé, hier soir, avec un jour d'avance sur le calendrier habituel. Le mois dernier, 22000 demandeurs d'emploi supplémentaires sont sortis des listings de l'ANPE. Et le taux de chômage est passé de 9,9% de la population active, en août, à 9,8% en septembre. La baisse, timidement amorcée en avril, après un premier trimestre en forte hausse, plus nette les mois suivants, se confirme donc. Pourtant, l'économie française ne crée guère d'emplois. L'explication est, en partie, dans les emplois aidés, poussés aujourd'hui par un gouvernement qui les dénigrait hier.

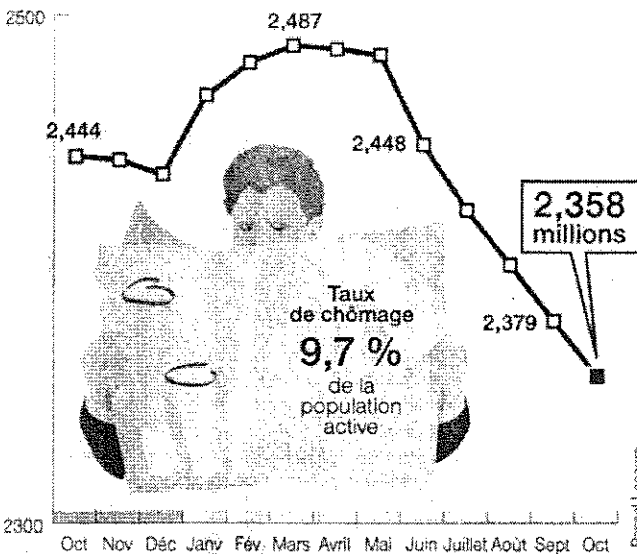
D'après Ouest France 28/10/2005

Annexe 2b

Les jeunes en ont profité le plus

Nouvelle baisse du chômage en octobre

Le chômage en octobre



Le chômage reste sur la bonne pente, celle de la baisse. En octobre, il a reculé pour le septième mois consécutif. 21700 demandeurs d'emploi supplémentaires sont sortis des listes de l'ANPE.

Et le taux de chômage a, lui aussi, poursuivi son repli à 9,7 % de la population active.


Ce sont les jeunes de moins de 25 ans qui ont le plus bénéficié des bons résultats du mois dernier, avec une baisse de 1,3 %. Pour les chômeurs de longue durée, ceux qui sont inscrits à l'ANPE depuis plus d'un an, elle est de 0,8 %.

Dans une économie française qui peine toujours à créer des postes, les emplois aidés donnent un coup de pouce. Ainsi, en octobre, les contrats initiative emploi sont en hausse de 10 % et les contrats de professionnalisation de 16 %. Quant à l'apprentissage, que le gouvernement veut relancer, il progresse de 10 %. Ce sont les secteurs du bâtiment et des services qui ont recruté le plus en octobre.

D'après Ouest France 30/11/2005

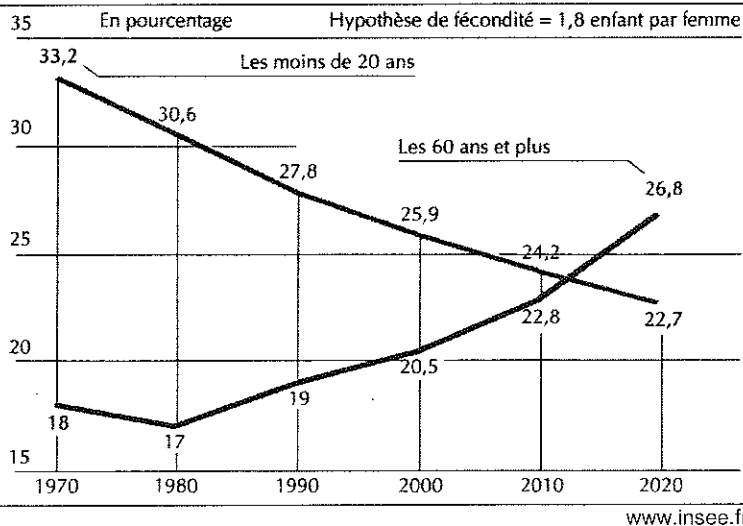
Annexe 2c

Nombre d'emplois en équivalent temps plein par branche d'emploi



Alternatives Economiques H.S. n°66 4^{ème} trimestre 2005

Annexe 2d : Projection d'évolution de la population active



Annexe 3

L'entreprise D. condamné aux prud'hommes

43,16 € : c'est la somme que l'entreprise D. de Quimper devra verser à un délégué du CHSCT de l'entreprise. Le salarié, délégué du personnel CGT, s'était absenté pendant cinq heures de son poste pour mener une enquête, à la suite d'un accident du travail. Sa direction était avertie et un cadre l'accompagnait, comme prévu par la procédure. Surprise son bulletin de salaire d'août a été ponctionné de ces cinq heures. Saisi en référé, les prud'hommes de Quimper ont donné tort à l'employeur.

D'après Ouest France du 12/10/05

Annexe 4

Les licenciements par note de service condamnés

Le 5 mars 2001, 84 salariés de l'ex-société Transports Grimaud de Bressuire (Deux-Sèvres) s'étaient vu notifier, par note de service, que leur contrat se terminait le lendemain. La Cour de cassation a rendu définitive, hier, la condamnation de la société à leur payer 11000€ prononcée en février 2004 par la cour d'appel de Poitiers.

Ouest France du 4/10/05