

EP1

Technologie de la conduite et du véhicule Technologie et gestion du transport

TRAVAIL DEMANDE

Il est demandé aux candidats :

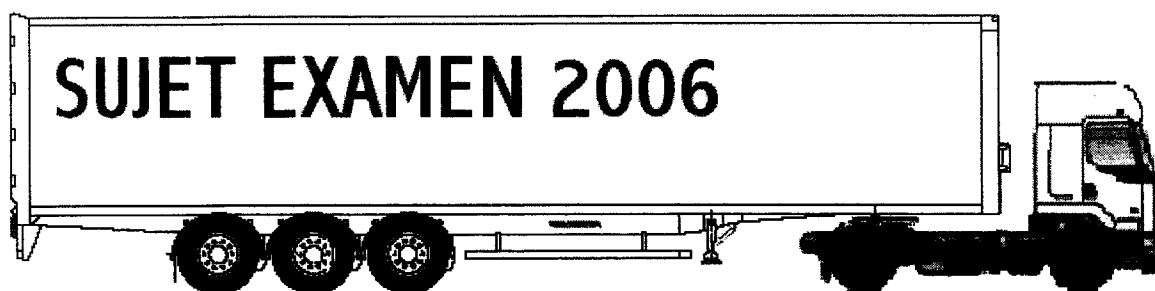
- De contrôler que votre dossier travail soit complet.
- De contrôler que votre dossier ressources soit complet.
- D'inscrire votre nom, prénom et N° d'inscription sur la copie double "modèle EN" qui sert de chemise à votre dossier travail.
- De lire les documents remis
- De ne pas dégrafer les feuilles.
- De vous servir du dossier ressource pour répondre aux questions du dossier travail.
- De vérifier que toutes les feuilles soient remplies à la fin de l'épreuve.
- De rendre ce dossier en fin d'épreuve.
- Aucun document autorisé.
- Crayons de couleurs
- Calculatrice autorisée
- **IMPORTANT** : Pour tous les documents à remplir, afin de garder votre anonymat, vos nom et prénom seront : Mr Gilles DUPONT.

N° Candidat

Groupement inter académique II	<i>Session 2006</i>	Code		
<i>Examen et spécialité</i> CAP Conduite routière		Code CAP	6 0599	
<i>Intitulé de l'épreuve</i> EP1-1 Technologie de la conduite et du véhicule EP1-2 Technologie et gestion du transport				
<i>Type</i> SUJET		<i>Durée</i> 4 H	<i>Coefficient</i> CAP 5	<i>Page</i> 1/20

EP1-1

Technologie de la conduite et du véhicule



Compétences travaillées :

- C 205 Etablir un diagnostic
- C 305 Utiliser des documents

CAP Conduite routière	6 0599
EP1-1 Technologie de la conduite et du véhicule	Page 2/20
EP1-2 Technologie et gestion du transport	

Mise en situation :

Titulaire de votre BEP Conduite et Services dans le Transport Routier et/ou de votre CAP de Conduite Routière, vous êtes embauché le mercredi 7 juin 2006, comme conducteur routier dans l'entreprise

Transports A. LARAMME ZI de la lune 79000 NIORT ☎ 05 49 98 52 21 ☎ 05 49 98 52 22 N° Siret : 781 564 455 000 17

Le chef d'entreprise vous remet les clés d'un tracteur neuf de marque Renault et de type Premium 320.19T, attelé à une semi-remorque savoyarde.

- Il vous demande de préparer les documents et de contrôler le véhicule articulé en vue d'un passage aux mines.
- Après avoir contrôlé votre véhicule, votre responsable vous demande de remplacer les batteries.
- Et pour finir vous devez effectuer la vidange du moteur et le remplacement des filtres à huile et gazole.

Avec vos connaissances et le dossier ressource répondre aux questions suivantes :

Question n°1**7 Pts**

Dans le tableau ci-dessous en plus des documents déjà cités, indiquez ceux nécessaires pour le passage aux mines pour chaque véhicule.

Tracteur	Semi-remorque
	- Certificat de carrossage

CAP Conduite routière	6 0599
EP1-1 Technologie de la conduite et du véhicule	Page 3/20
EP1-2 Technologie et gestion du transport	

SUJET

Question n°2

2 Pts

Quelle est la durée de validité de la visite du contrôleur ?

--

Question n°3

1 Pt

Quelle est la durée de validité des bouteilles d'air de ce véhicule ?

--

Question n°4a

4 Pts

La roue avant de votre tracteur porte les références suivantes :
que signifient ces inscriptions ?

315 / 60 R 22,5

315	
60	
R	
22,5	

Question n°4b

2 Pts

En fonction de la référence ci-dessus et avec l'aide du dossier ressource (annexe 3/4.) ,
indiquez la pression maximale de gonflage de ce pneumatique. A cette pression quelle charge
peut supporter l'essieu ?

Pression :	Charge :
-------------------	-----------------

CAP Conduite routière	6 0599
EP1-1 Technologie de la conduite et du véhicule	Page 4/20
EP1-2 Technologie et gestion du transport	

SUJET

Question n°4c

2 Pts

Quelle est la profondeur minimum autorisée des sculptures des pneumatiques ?

--

Question n°4d

2 Pts

Selon le code de la route, quelle épaisseur minimum de gomme doit être laissée entre le fond de la sculpture et la carcasse ?

--

Question n°5

1 Pt

En continuant le contrôle de votre véhicule, vous vous rendez-compte que tous les clignotants droits de votre ensemble ne fonctionnent pas.

Indiquez la ou les raisons de ce dysfonctionnement en cochant la ou les bonnes réponses ci-dessous.

	L'ampoule du clignotant avant droit est grillée.
	Le fusible des clignotants droits est grillé.
	Le cordon électrique entre le tracteur et la semi est débranché.
	Le fil de masse du bloc feu arrière droit est coupé.

Question n°6

2 Pts

Vous devez changer votre ampoule du feu STOP droit de votre tracteur.
Quelle est la puissance de cette lampe ?

entourez la bonne réponse

5W	10W
21W	70W

CAP Conduite routière	6 0599
EP1-1 Technologie de la conduite et du véhicule	Page 5/20
EP1-2 Technologie et gestion du transport	

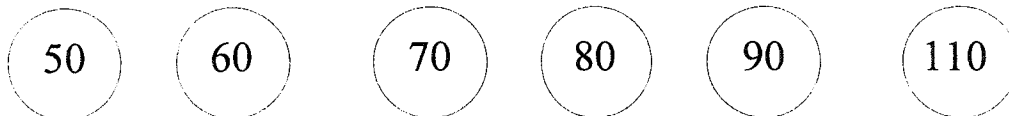
SUJET

Question n°7

4 Pts

Parmi les disques de limitation de vitesse ci-dessous, quels sont les 3 disques qui doivent être apposés à l'arrière de votre semi remorque ?

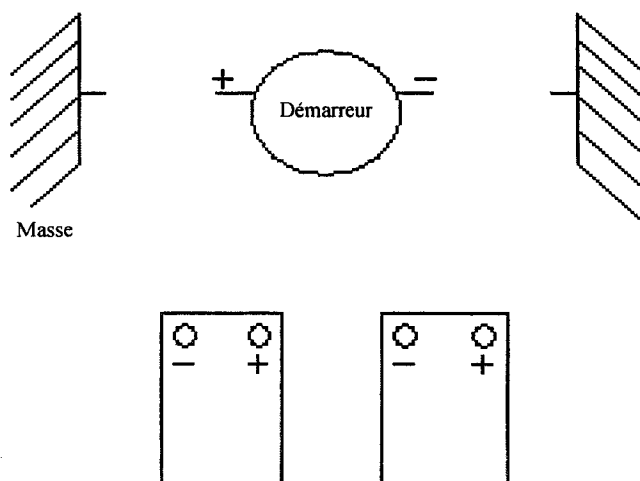
Rayer les disques inutiles



Question n°8a

3Pts

Sur le schéma ci-dessous, branchez correctement les deux batteries identiques et le démarreur.



Question n°8b

3 Pts

En reprenant les caractéristiques des équipements électriques du Prémium (Dossier ressource), indiquez le type de branchement (série ou parallèle), la tension et la capacité du circuit électrique du véhicule sans oublier les unités de mesures.

Branchement	Capacité	Tension

CAP Conduite routière	6 0599
EP1-1 Technologie de la conduite et du véhicule	Page 6/20
EP1-2 Technologie et gestion du transport	

SUJET

Question n°9a

2 Pts

En reprenant les caractéristiques du Prémium (Dossier ressource), quelle est la périodicité des vidanges ?

Question n°9b

2 Pts

Pour une température d'utilisation de -20°C à $+50^{\circ}\text{C}$, quel type d'huile allez vous mettre dans le moteur ?

Question n°9c

2 Pts

Quelle est la capacité d'huile du moteur, filtration comprise ?

CAP Conduite routière	6 0599
EP1-1 Technologie de la conduite et du véhicule	Page 7/20
EP1-2 Technologie et gestion du transport	

SUJET

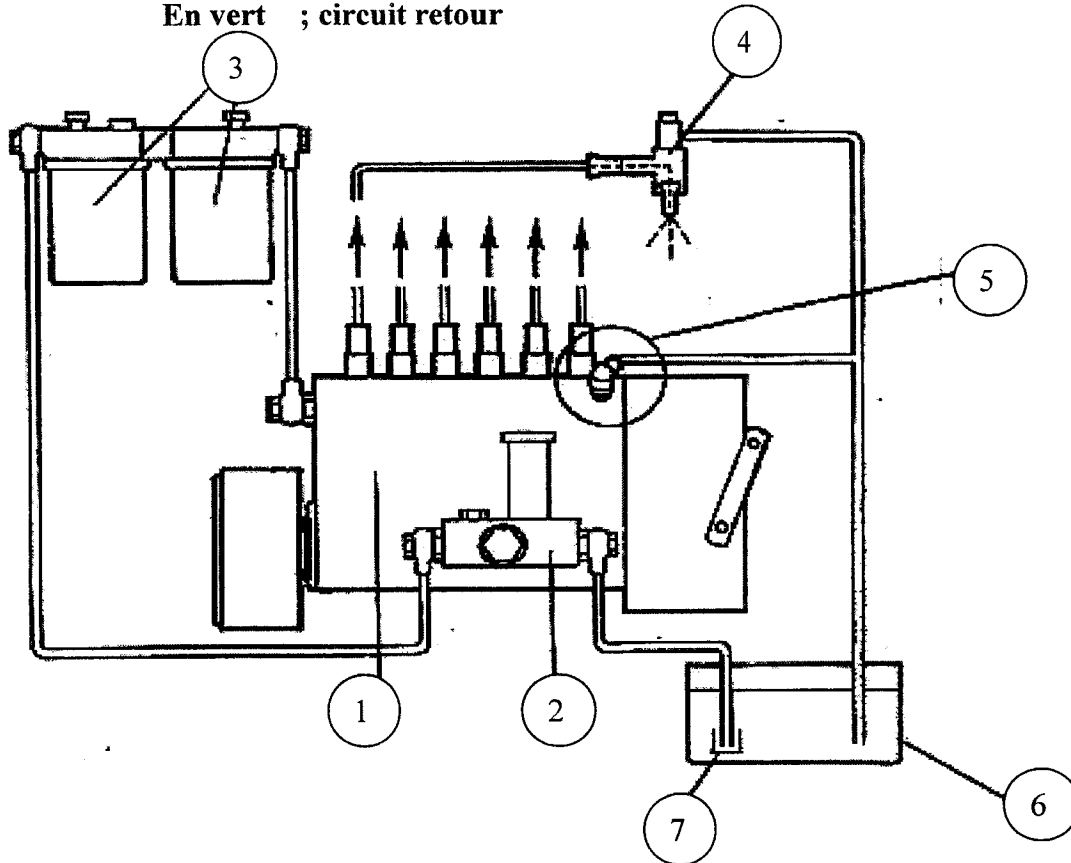
Question n°10a

4 Pts

Pour purger votre circuit d'alimentation vous devez connaître les différents éléments qui le constituent :

Coloriez :

- En violet ; circuit d'aspiration (si pas de violet mettre en noir)
- En bleu ; circuit basse pression
- En rouge ; circuit haute pression
- En vert ; circuit retour



Question n°10b

7 Pts

Indiquez le nom de chaque organe numéroté

Numéro	Désignation
1	
2	
3	
4	
5	
6	
7	

Texte de l'épreuve

Les critères d'évaluation

1^{ère} Partie : Technologie de la conduite et du véhicule

Questions	Barème	Tolérance
1	/ 7	Les documents sont correctement énoncés 7 pts 1 erreur 5 pts 2 erreurs 1 pt 1 erreur = 1 document oublié ou en plus
2	/ 2	La réponse est correcte 2 pts.
3	/ 1	La réponse est correcte 1 pt.
4	a/ 4	1 pt par réponse correcte
	b/ 2	1 pt par réponse correcte
	c/ 2	La réponse est correcte 2 pts
	d/ 2	La réponse est correcte 2 pts
5	/ 1	La réponse est correcte 1 pt
6	/ 2	La réponse est correcte 2 pts
7	/ 4	Toutes les réponses sont bonnes 4 pts 1 erreur 2 pts 2 erreurs 0 pt
8	a/ 3	Le branchement est correct 3 pts
	b/ 3	1 pt par réponse correcte
9	a/ 2	La réponse est correcte 2 pts
	b/ 2	La réponse est correcte 2 pts
	c/ 2	La réponse est correcte 2 pts
10	a/ 4	Les circuits sont identifiés 4 pts
	b/ 7	1 pt par réponse correcte
TOTAL	/50	Coefficient CAP 5
	/20	

CAP Conduite routière	6 0599
EP1-1 Technologie de la conduite et du véhicule	Page 9/20
EP1-2 Technologie et gestion du transport	