

BEP CONDUITE ET SERVICES
DANS
LE TRANSPORT ROUTIER

DOSSIER SUJET

EP 3-1

ANALYSE D'UN DOSSIER

COMPETENCES EVALUEES

C1 02 :DECODER DES INFORMATIONS
C1 03 : ORGANISER DES INFORMATIONS
C2 03 : ORGANISER DES ACTIVITES
C3 03 : PRENDRE EN CHARGE LA MARCHANDISE

DOCUMENTS :

SUJET : DS - Pages 1 / 11 à 11 / 11

RESSOURCE : D.R. - Pages 1/5 à 5/5

MATERIEL A FOURNIR PAR LE CANDIDAT : calculatrice

N° D'INSCRIPTION DU CANDIDAT	NOTE : / 20

GROUPEMENT INTERACADEMIQUE II	SESSION 2006	CODE : 6 0161	
EXAMEN : BEP CONDUITE ET SERVICES DANS LE TRANSPORT ROUTIER			
EPREUVE : EP 3-1		ANALYSE D'UN DOSSIER	
	DUREE : 2 H 30	COEFFICIENT : 3	DS - P 1 / 11

PREMIERE PARTIE

ON DONNE:

L'organisation de l'entreprise S.A.Transfret dans laquelle vous êtes conducteur routier
(document ressource P 2/5)

ON DEMANDE :

- 1°) Compléter l'organigramme (dossier sujet P 4 / 11)
- 2°) Répondre aux questions a à f (dossier sujet P 5 / 11)

ON EXIGE :

- 1°) l'organigramme est correctement rempli (- 0,25 pt par erreur) / 5 points
- 2°) le nombre de salariés de l'entreprise est exact / 3 points

Vous savez exactement à quel interlocuteur vous adresser
selon la situation

DEUXIEME PARTIE

ON DONNE:

Une situation : un transport de Paris à Bucarest (document ressource Page 3/5)
Le détail de vos activités en relation avec ce transport (document ressource Page 3/5)
5 disques de chronotahygraphe avec pour chacun un tableau récapitulatif des activités
(document sujet Page 6 / 11)

ON DEMANDE :

Compléter les disques et les tableaux récapitulatifs correspondants (jour 1 : Lundi)
(document sujet Page 6 / 11)

ON EXIGE :

Vous gérez correctement vos activités. Le rendez-vous est respecté.
Vous respectez la réglementation sociale européenne sur les temps de conduite et de repos
ainsi que la réglementation sociale française sur le temps de travail effectif
Vous utilisez les dérogations qu'autorisent ces 2 réglementations sociales. (/ 13 points)

GROUPEMENT INTERACADEMIQUE II		SESSION 2006		CODE : 6 0161	
EXAMEN : BEP CONDUITE ET SERVICES DANS LE TRANSPORT ROUTIER					
EPREUVE : EP 3-1			ANALYSE D'UN DOSSIER		
SUJET		DUREE : 2 H 30		COEFFICIENT : 3	
DS - P 2 / 11					

TROISIEME PARTIE

ON DONNE: (document ressource Page 4/5 et 5/5)

Un tableau renfermant 3 propositions de fret de retour pour la France

Les Km à charge et à vide pour chaque transport proposé

Le prix de transport HT pour chaque transport

Votre vitesse moyenne horaire pour chaque transport et les temps d'immobilisation en heures et centièmes d'heure

Le nombre d'heures de travail par jour en heures et centièmes d'heure

Le terme kilométrique et le coût journalier de votre véhicule (HT et en €)

ON DEMANDE :

De calculer le PMA, la C.U. et le volume utile de votre véhicule (répondre sur document sujet P 7 / 11)

D'effectuer les calculs qui vont vous permettre de choisir le transport le plus rentable (répondre sur document sujet Pages 8/11 , 9/11 , 10/11)

De choisir le transport le plus rentable (répondre sur document sujet Page 11/11)

De calculer le prix TTC du transport retenu (répondre sur document sujet Page 11/11)

ON EXIGE :

Tous les calculs sont exposés (Résultats :2 chiffres après la virgule)

Les unités sont précisées

Les capacités du véhicule sont respectées

La rentabilité du retour est assurée

GROUPEMENT INTERACADEMIQUE II	SESSION 2006	CODE : 6 0161	
EXAMEN : BÉP CONDUITE ET SERVICES DANS LE TRANSPORT ROUTIER			
ÉPREUVE : EP 3-1 ANALYSE D'UN DOSSIER			
SUJET	DURÉE : 2 H 30	COEFFICIENT : 3	DS - P 3 / 11

2°) Répondre aux questions

(3 points)

a- Combien de salariés emploie l'entreprise S.A. Transfret ?

.....

b- Avec quel interlocuteur vous êtes vous entretenu pour être embauché dans l'entreprise S.A. Transfret ?

.....

c- A qui vous adressez vous pour avoir vos consignes de rechargement ?

.....

d- Vous avez avancé des frais de péage d'autoroute. Quel service est habilité à vous les rembourser ?

.....

e- Vous rentrez à l'entreprise avec une lettre de voiture sur laquelle des réserves ont été mentionnées. Quel employé de l'entreprise va devoir gérer ce litige ?

.....

f- Vous souhaitez obtenir une augmentation de salaire. A qui allez vous demander cette augmentation ?

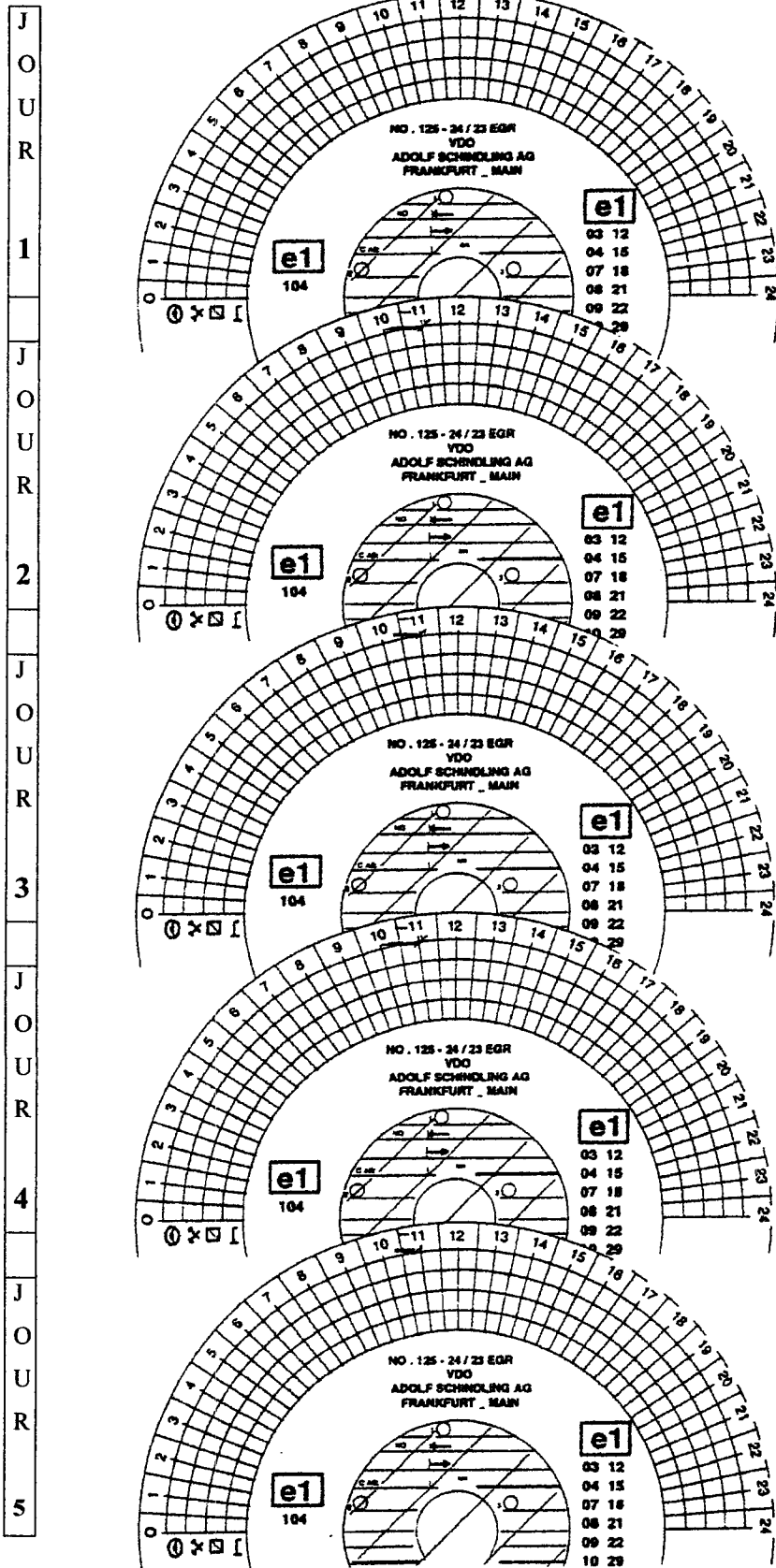
.....





















GROUPEMENT INTERACADEMIQUE II	SESSION 2006	CODE : 6 0161	
EXAMEN : BEP CONDUITE ET SERVICES DANS LE TRANSPORT ROUTIER			
EPREUVE : EP 3-1		ANALYSE D'UN DOSSIER	
SUJET	DUREE : 2 H 30	COEFFICIENT : 3	DS - P 5 / 11

DEUXIEME PARTIE

Compléter les disques et les tableaux correspondants

(13 points)



	Hebdomadaire = ... h ... mn
	= ... h ... mn
	= ... h ... mn
	= ... h ... mn
Travail effectif = ... h ... mn	
<hr/>	
	= ... h ... mn
	= ... h ... mn
	= ... h ... mn
	= ... h ... mn
Travail effectif = ... h ... mn	
<hr/>	
	= ... h ... mn
	= ... h ... mn
	= ... h ... mn
	= ... h ... mn
Travail effectif = ... h ... mn	
<hr/>	
	= ... h ... mn
	= ... h ... mn
	= ... h ... mn
	= ... h ... mn
Travail effectif = ... h ... mn	
<hr/>	
	= ... h ... mn
	= ... h ... mn
	= ... h ... mn
	= ... h ... mn
Travail effectif = ... h ... mn	
<hr/>	
<p>Temps de conduite Total h</p> <p>Temps de travail Total h</p>	

GROUPEMENT INTERACADEMIQUE II	SESSION 2006	CODE : 6 0161
EXAMEN : BEP CONDUITE ET SERVICES DANS LE TRANSPORT ROUTIER		
EPREUVE : EP 3-1 ANALYSE D'UN DOSSIER		
SUJET	DUREE : 2 H 30	COEFFICIENT : 3
DS - P 6/11		

TROISIEME PARTIE

TRAVAIL DEMANDE:

1°) Calculer le PMA de votre véhicule

(2 points)

CALCULS	RESULTAT

2°) Calculer la C.U de votre véhicule

(1 point)

CALCULS	RESULTAT

3°) Calculer le volume utile de votre véhicule

(1 point)

CALCULS	RESULTAT

GROUPEMENT INTERACADEMIQUE II		SESSION 2006		CODE : 6 0161	
EXAMEN : BEP CONDUITE ET SERVICES DANS LE TRANSPORT ROUTIER					
EPREUVE : EP 3-1			ANALYSE D'UN DOSSIER		
SUJET		DUREE : 2 H 30	COEFFICIENT : 3	DS - P 7/11	

4°) Transport N°1

a- Calculer le temps de conduite nécessaire

(2 points)

CALCULS	RESULTAT

b- Calculer la durée du transport

(1 point)

CALCULS	RESULTAT

c- Calculer le nombre de jours nécessaires

(1 point)

CALCULS	RESULTAT

d- Calculer le coût de revient du transport

(2 points)

CALCULS	RESULTAT

e- Calculer le prix de transport HT

(1 point)

CALCULS	RESULTAT

f- Calculer le pourcentage de la marge bénéficiaire

(2 points)

CALCULS	RESULTAT

GROUPEMENT INTERACADEMIQUE II	SESSION 2006	CODE : 6 0161	
EXAMEN : BEP CONDUITE ET SERVICES DANS LE TRANSPORT ROUTIER			
EPREUVE : EP 3-1 ANALYSE D'UN DOSSIER			
SUJET	DUREE : 2 H 30	COEFFICIENT : 3	DS - P 8 / 11

5°) Transport N°2

a- Calculer le temps de conduite nécessaire

(2 points)

CALCULS	RESULTAT

b- Calculer la durée du transport

(1 point)

CALCULS	RESULTAT

c- Calculer le nombre de jours nécessaires

(1 point)

CALCULS	RESULTAT

d- Calculer le coût de revient du transport

(2 points)

CALCULS	RESULTAT

e- Calculer le pourcentage de la marge bénéficiaire

(2 points)

CALCULS	RESULTAT

GROUPEMENT INTERACADEMIQUE II	SESSION 2006	CODE : 6 0161
EXAMEN : BEP CONDUITE ET SERVICES DANS LE TRANSPORT ROUTIER		
EPREUVE : EP 3-1 ANALYSE D'UN DOSSIER		
SUJET	DUREE : 2 H 30	COEFFICIENT : 3
		DS - P 9 / 11

6°) Transport N°3

a- Calculer le temps de conduite nécessaire

(2 points)

CALCULS	RESULTAT

b- Calculer la durée du transport

(1 point)

CALCULS	RESULTAT

c- Calculer le nombre de jours nécessaires

(1 point)

CALCULS	RESULTAT

d- Calculer le coût de revient du transport

(2 points)

CALCULS	RESULTAT

e- Calculer le pourcentage de la marge bénéficiaire

(2 points)

CALCULS	RESULTAT

GROUPEMENT INTERACADEMIQUE II	SESSION 2006	CODE : 6 0161	
EXAMEN : BEP CONDUITE ET SERVICES DANS LE TRANSPORT ROUTIER			
EPREUVE : EP 3-1 ANALYSE D'UN DOSSIER			
SUJET	DUREE : 2 H 30	COEFFICIENT : 3	DS - P 10 / 11

