

**Avant le début de l'épreuve :**

Vous déposez sur votre table la photo de votre modèle (portrait 9 × 13 minimum) correspondant à la coiffure portée au début de l'épreuve.

**1<sup>ère</sup> partie : durée 30 min.**

Vous devez compléter la fiche « projet de création de la coiffure » (qui vous est remise en début d'épreuve), en décrivant ce que vous souhaitez réaliser sur votre modèle, c'est-à-dire, décrire :

- soit le projet de coupe
- soit le projet de mise en forme
- soit le projet de coiffure.

Le type de projet vous sera imposé en début d'épreuve

**2<sup>ème</sup> partie : durée 1 h15 min. (+30 min. si passage sous casque séchoir)**

Vous devez réaliser cette coiffure, décrite en première partie sur votre modèle masculin ou féminin, c'est à dire :

- effectuer le shampooing
- réaliser la coupe (de 3 cm minimum sur l'ensemble de la chevelure)
- mettre en forme et coiffer

Vous laissez la photo du modèle à la commission de correction.

		EXAMEN : MC	SPECIALITE: STYLISTE VISAGISTE
SESSION 2007	SUJET	EPREUVE : <b>E1 Coupes, création et réalisation de coiffures</b> E1-A ; 1 <sup>ère</sup> partie : Projet de création de la coiffure (30 min, coef.1) E1-B ; 2 <sup>ème</sup> partie : Réalisation de la coiffure (1h15+ 30 min. si passage sous casque séchoir ; coef.4)	
			Code sujet : n°1
			Page : 1/1

**Avant le début de cette 3<sup>ème</sup> partie de l'épreuve :**

Vous indiquez sur le formulaire déposé à votre poste, ce que vous souhaitez réaliser comme coupe sur votre modèle masculin :

- soit une coupe classique
- soit une coupe mode : pour cette dernière, vous devez présenter une photo de la coupe mode que vous souhaitez réaliser (photo extraite d'une revue, d'un livre...)

**Après le contrôle des modèles :**

- vous devez réaliser la coupe que vous avez choisie, avec un ou plusieurs des outils exclusivement autorisés :
  - ciseaux droits
  - ciseaux sculpteurs
  - rasoir
- aucun autre outil ne peut être utilisé.

Si vous avez choisi la coupe classique vous devez :

- couper 2 cm minimum sur l'ensemble de la chevelure ;
  - réaliser un tracé de tours d'oreilles ;
  - effectuer un fondu de nuque ;

Le travail de coupe est évalué sur cheveux mouillés, sans aucune adjonction de produits coiffants ou de finition ;

- effectuer le coiffage après la notation de la coupe. Les produits coiffants et de finition sont alors autorisés.

Si vous avez choisi la coupe mode vous devez :

- réaliser la coupe présentée sur votre photo ;
- couper 3 cm minimum sur l'ensemble de la chevelure ;

Le travail de coupe est évalué sur cheveux mouillés, sans aucune adjonction de produits coiffants ou de finition ;

- réaliser la mise en forme après la notation de la coupe ;
- effectuer le coiffage, les produits coiffants et de finition sont alors autorisés.

		EXAMEN : MC	SPECIALITE: STYLISTE VISAGISTE		
SESSION 2007	SUJET	E1 Coupes, création et réalisation de coiffures E1-C 3 <sup>ème</sup> partie : Coupe imposée et coiffage			
Durée : 1 h		Coefficient : 5	Code sujet : n°2	Page : 1/1	

DATE :

CENTRE D'EXAMEN :

N° CANDIDAT :

MENTION COMPLEMENTAIRE  
STYLISTE VISAGISTE

**E1 : Coupes, création et réalisation de coiffures**

Coefficient : 5    Epreuve pratique et écrite    Durée : 1h45 min + 30 min pour passage éventuel sous casque séchoir

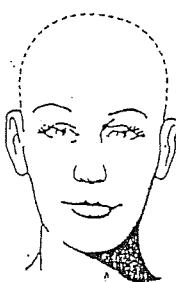

NOM des membres jury	Fonction	Signature
-	-	-
-	-	-

**1° PARTIE : PROJET DE CREATION DE LA COIFFURE**

Durée : 30 min    Coef : 1    NOTE :    /20    (voir détail du barème au dos)

A l'aide des gabarits ci-dessous, pour réaliser votre coiffure esquisser ou schématiser  
 Le projet de coupe        Le projet de coiffure        Le projet de mise en forme   

que vous souhaitez exécuter.

GABARIT	COMMENTAIRE*
  FACE	/3
  NUQUE	/3

\* Si nécessaire à la compréhension des schémas

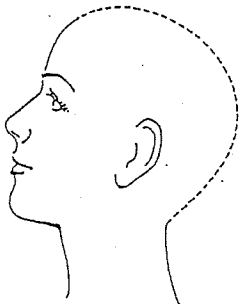
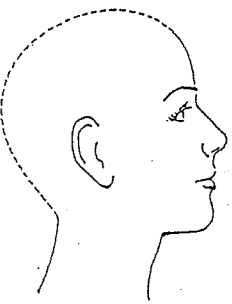
Récapitulation de la note

• Total des 4 vues : /12

• Qualité du graphisme, netteté et propreté des schémas /6

• Logique des implantations /2

Le total sur 20 points est à reporter au dos et en haut de cette feuille.

GABARIT	COMMENTAIRE*
 <p data-bbox="555 1142 686 1176">PROFIL 1</p>	<p data-bbox="1428 1086 1460 1131">/3</p>
 <p data-bbox="550 2049 678 2083">PROFIL 2</p>	<p data-bbox="1428 2072 1460 2116">/3</p>