

SUJET

Durée : 30 min.

Coefficient : 2

Pour le modèle qui vous est présenté et à partir de la photo qui vous est fournie ci-après, vous devez élaborer la procédure à mettre en œuvre pour obtenir la coiffure demandée.

Vous disposez de 30 minutes pour :

- observer le modèle (vous pouvez toucher la chevelure mais vous ne devez pas interroger le modèle)
- lire le passé technique du modèle affiché au tableau
- observer attentivement la photo ci-jointe
- compléter la fiche technique



Source : Coiffure de Paris

EPREUVE E1 : CONCEPTION ET REALISATION DE MISE EN FORME PERMANENTE

1^{ère} PARTIE PROJET DE CONCEPTION DE MISE EN FORME PERMANENTE : FRISAGE

Durée : 30 minutes

Coefficient : 2

1/3

PILOTAGE NATIONAL - SESSION 2007
MC COLORISTE - PERMANENTISTE

➤ Etat du cuir chevelu :

	Racines	Longueurs	Pointes
Nature Etat des cheveux			

➤ Texture des cheveux :

Déroulement des différentes opérations

Listez les opérations selon le déroulement chronologique	Citez la nature et la force des produits utilisés	Justifiez les produits utilisés et les différentes opérations en prenant en compte les besoins du client.

/5 Pts

/3 Pts

/10 Pts

EPREUVE E1 : CONCEPTION ET REALISATION DE MISE EN FORME PERMANENTE


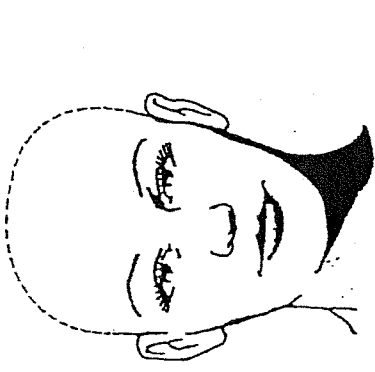
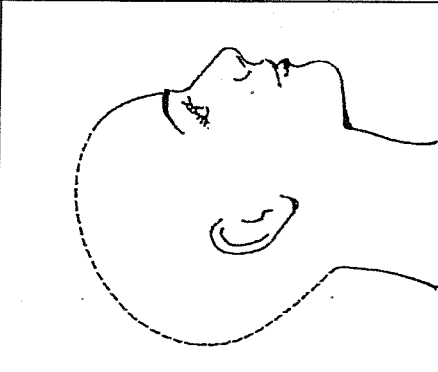
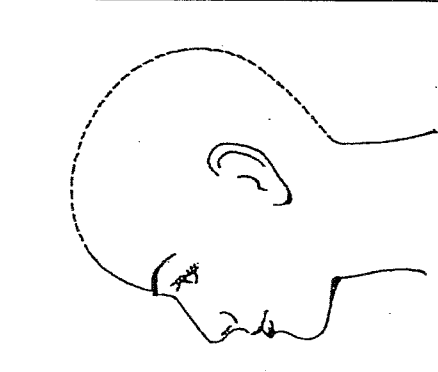
1^{ère} PARTIE PROJET DE CONCEPTION DE MISE EN FORME PERMANENTE : FRISAGE

Durée : 30 minutes

Coefficient : 2

2/3

A l'aide des gabarits ci-dessous, présentez votre plan de montage. Représentez les zones sur les gabarits. Numérotez ces zones dans l'ordre chronologique où vous effectuerez votre travail. Dessinez sous forme d'esquisses ou de schémas le dessin de frisure. Nommez le type de frisure. Précisez les enrouleurs. Justifiez les méthodes et/ou les systèmes que vous choisirez.

		Zones				*
Frisure	
 <p>Nuque</p>		 <p>Face</p>		<p>Degré de frisure</p>		
 <p>Profil 2</p>		 <p>Profil 1</p>		<p>Esquisse ou schéma de la frisure</p>		
<p>Enrouleurs :</p> <ul style="list-style-type: none"> - diamètre et forme - autres caractéristiques éventuellement « Type d'enroulage » 						
<p>Méthode et produits de permanente choisis et justification</p> <p>Temps de pause</p>						/3
<p>Système adopté et moyens utilisés. Justification</p>						/2

* Une même colonne peut correspondre à plusieurs zones mais à un seul dessin de frisure. Figurine / 10 Pts

(*Séparation, orientation /4, *Chronologie /3, *Qualité de représentation /3)

/ 12 Pts

NOM des membres jury	Fonction	Signature
-	-	-
-	-	-

TOTAL DES POINTS : / 40

NOTE : / 20