

# BREVET DE TECHNICIEN VÊTEMENT

## (Création et Mesure)

B1 Exécution d'une demi-toile d'après croquis

Ce dossier comprend :

- La présente feuille,
- Le sujet se compose de : 1 feuille A4 - le travail demandé  
1 feuille A3 - la figurine  
1 planche - le patron
- Les fournitures à prévoir par candidat,
- Le matériel à prévoir par le centre d'examen,
- Le matériel à prévoir par le candidat,
- La fiche d'évaluation.

CRDP de MONTPELLIER

RÉSERVÉ AU SERVICE

BREVET DE TECHNICIEN		
Coef. : 4	Session : 2007	Durée : 8 heures
VÊTEMENT (Création et Mesure)		Epreuve : B1 – Exécution d'une demi-toile d'après croquis.

# BREVET DE TECHNICIEN VÊTEMENT

## (Création et Mesure)

B1 Exécution d'une demi-toile d'après croquis

Ce dossier comprend :

- La présente feuille,
- Le sujet se compose de : 1 feuille A4 - le travail demandé  
1 feuille A3 - la figurine  
1 planche - le patron
- Les fournitures à prévoir par candidat,
- Le matériel à prévoir par le centre d'examen,
- Le matériel à prévoir par le candidat,
- La fiche d'évaluation.

CRDP de MONTPELLIER

RÉSERVÉ AU SERVICE

BREVET DE TECHNICIEN		
Coef. : 4	Session : 2007	Durée : 8 heures
VÊTEMENT (Création et Mesure)		Epreuve : B1 – Exécution d'une demi-toile d'après croquis.

# EXECUTION D'UNE DEMI-TOILE

## MANTEAU « HARMONY »

### Descriptif

- Manteau réalisé en drap de laine,
- Manteau ligne droite, longueur mi-mollet,
- Découpe bretelle devant et dos,
- Empiècement épaule devant et dos,
- Poche dans la découpe,
- Boutonnage milieu devant : (diamètre du bouton : 30 mm),
- Manche tailleur avec 3 plis creux à la tête de manche.

### Travail demandé

Réaliser la demi-toile épinglée du côté droit.

Les aplombs et le réglage seront tracés au crayon papier.

Un tracé de manche tailleur de base est à votre disposition.

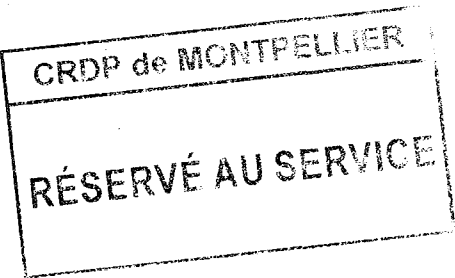
Le bras bourré sera laissé pour la présentation.

Les bolducs de découpes seront retirés.

Le mannequin sera présenté avec la ligne de taille placée à 1,15m du sol.

L'étiquette d'anonymat remplie et découpée est à coudre au milieu dos, à hauteur de la carrure

*Nota* : Seuls seront utilisées la matière d'œuvre et les épaulettes fournies.

N° D'INSCRIPTION		PARTIE A COUDRE SUR LE VÊTEMENT
N° D'ANONYMAT	N° D'ANONYMAT	
NOM		
PRÉNOM		

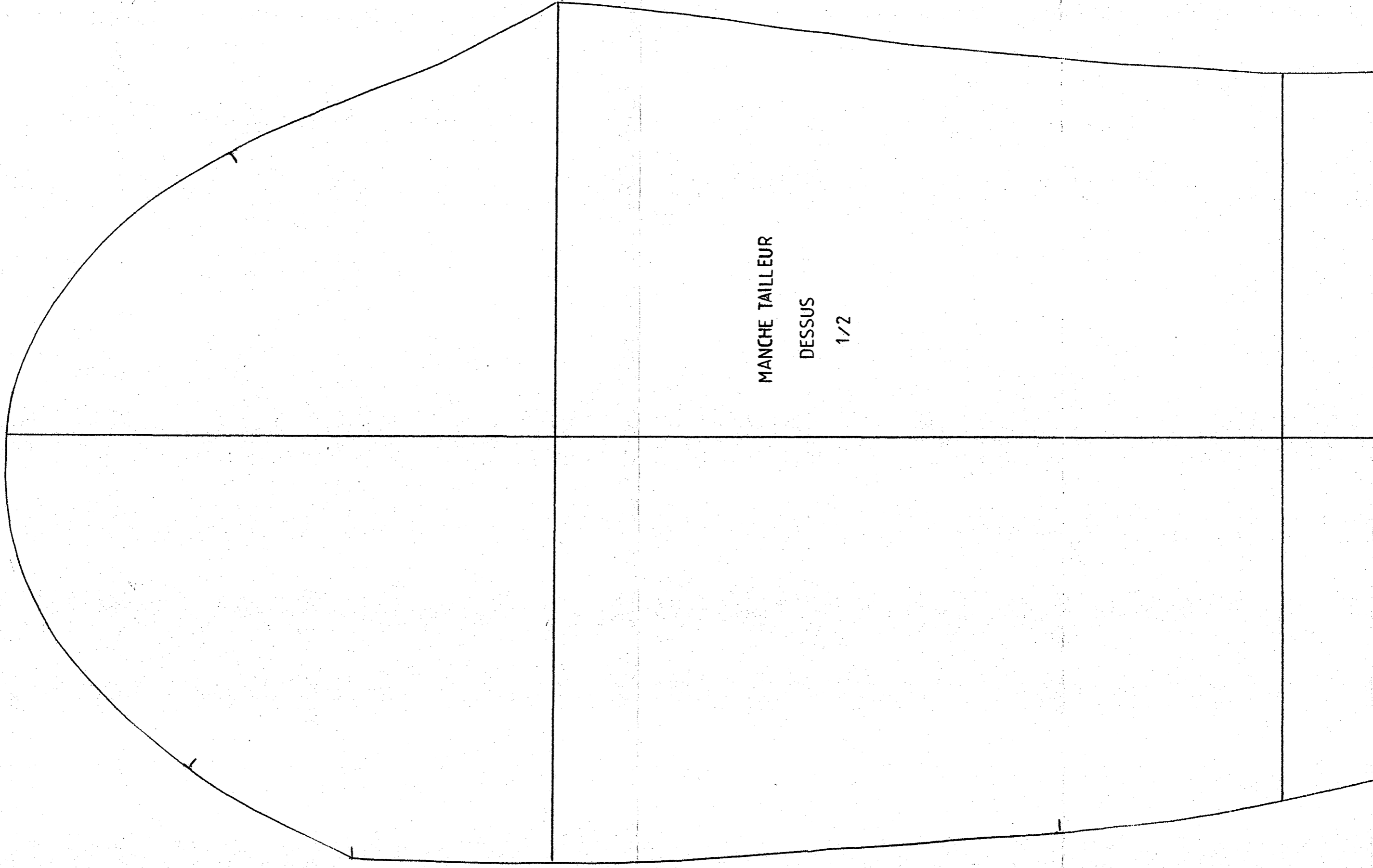
BREVET DE TECHNICIEN		
Coef. : 4	Session : 2007	Durée : 8 heures
VÊTEMENT (Création et Mesure)		Epreuve : B1 – Exécution d'une demi-toile d'après croquis.
		Sujet : 1/3



B1JN07

<b>BREVET DE TECHNICIEN</b>	
Coef. : 4	Session : 2007
<b>VÊTEMENT (Création et Mesure)</b>	
Durée : 8 heures	
Epreuve : B1 – Exécution d'une demi-toile d'après croquis.	
Sujet :	

1/4

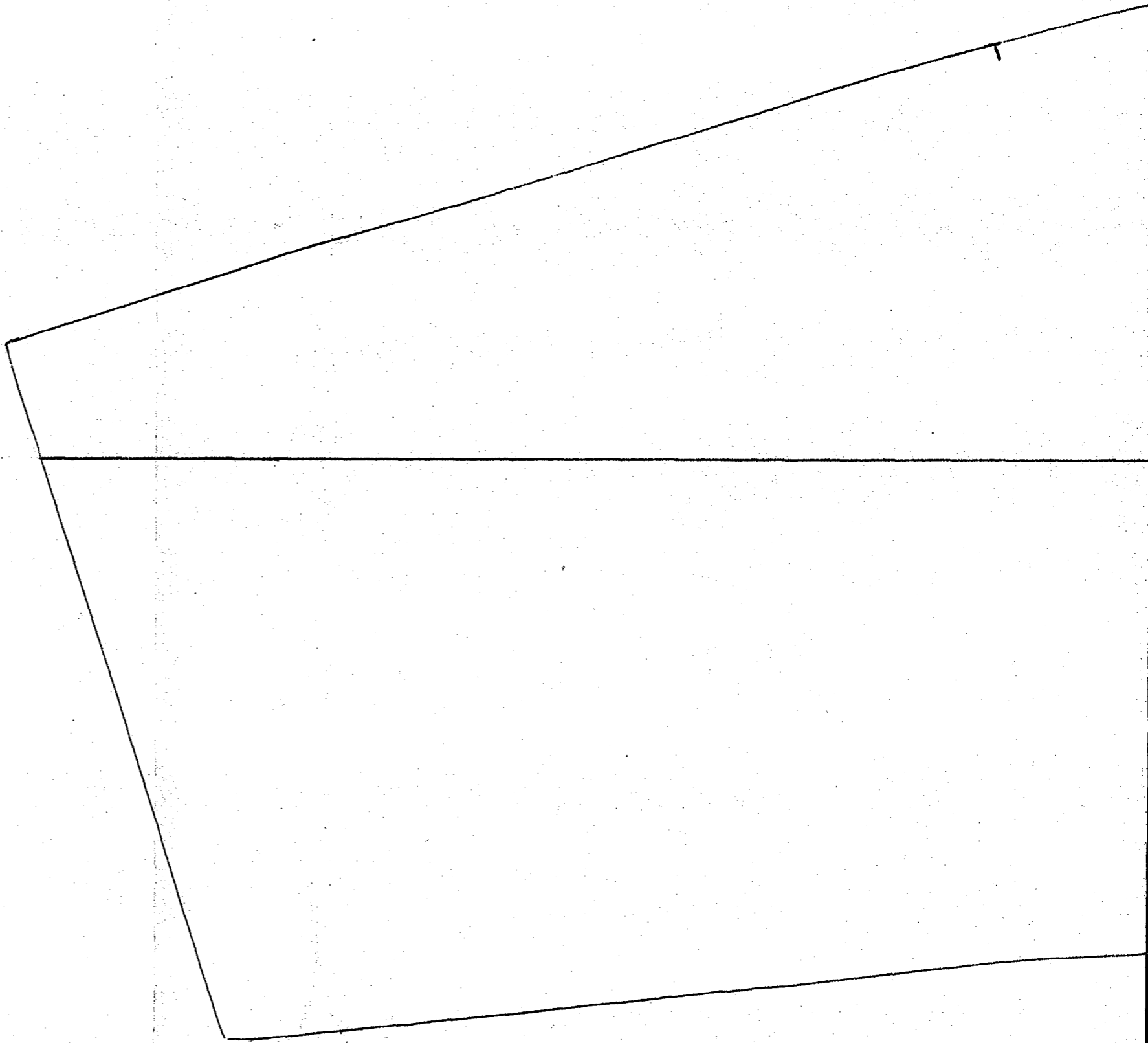


MANCHE TAILLEUR

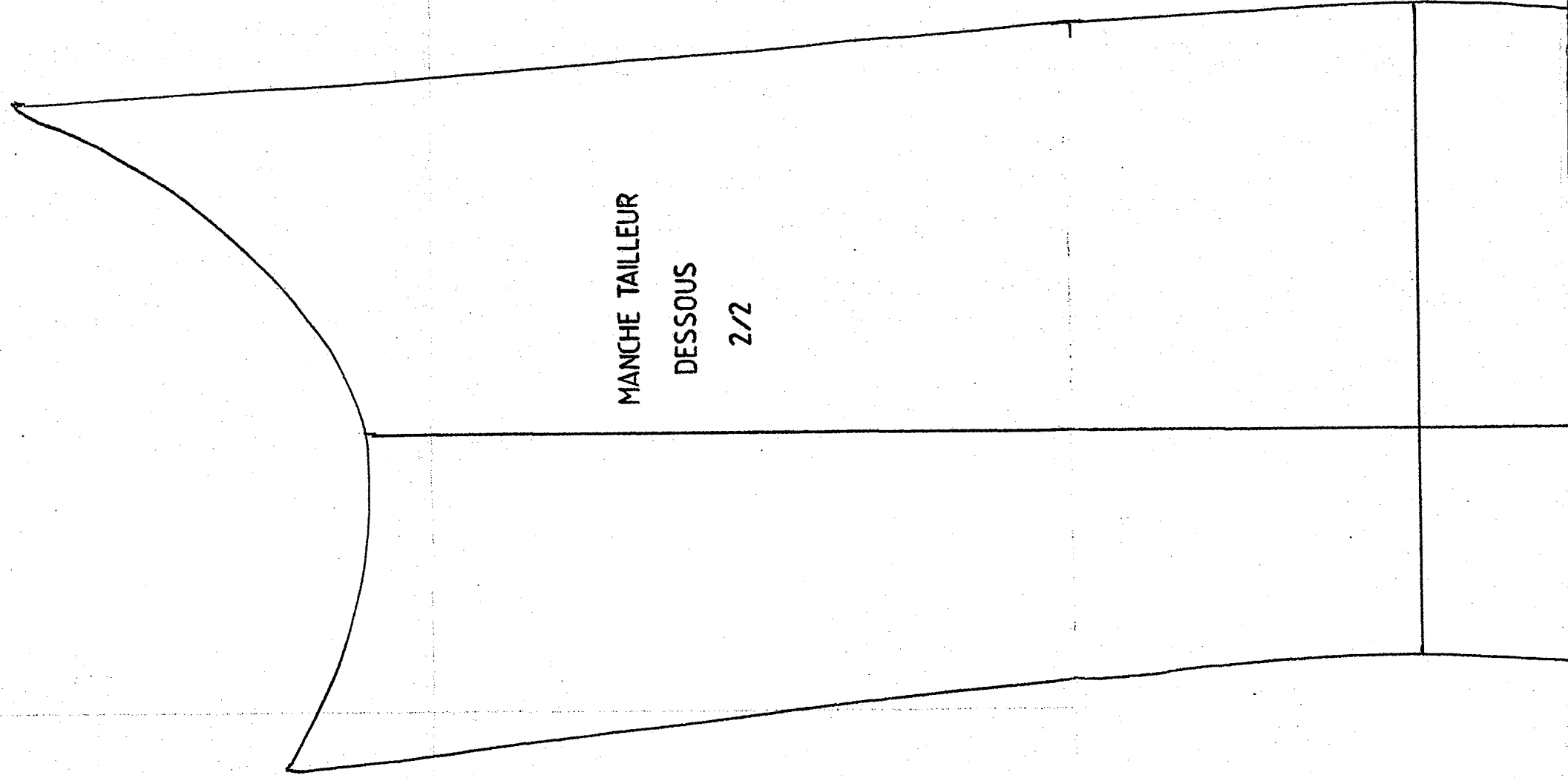
DESSUS

1/2

CRDP de MONTPELLIER
RÉSERVÉ AU SERVICE



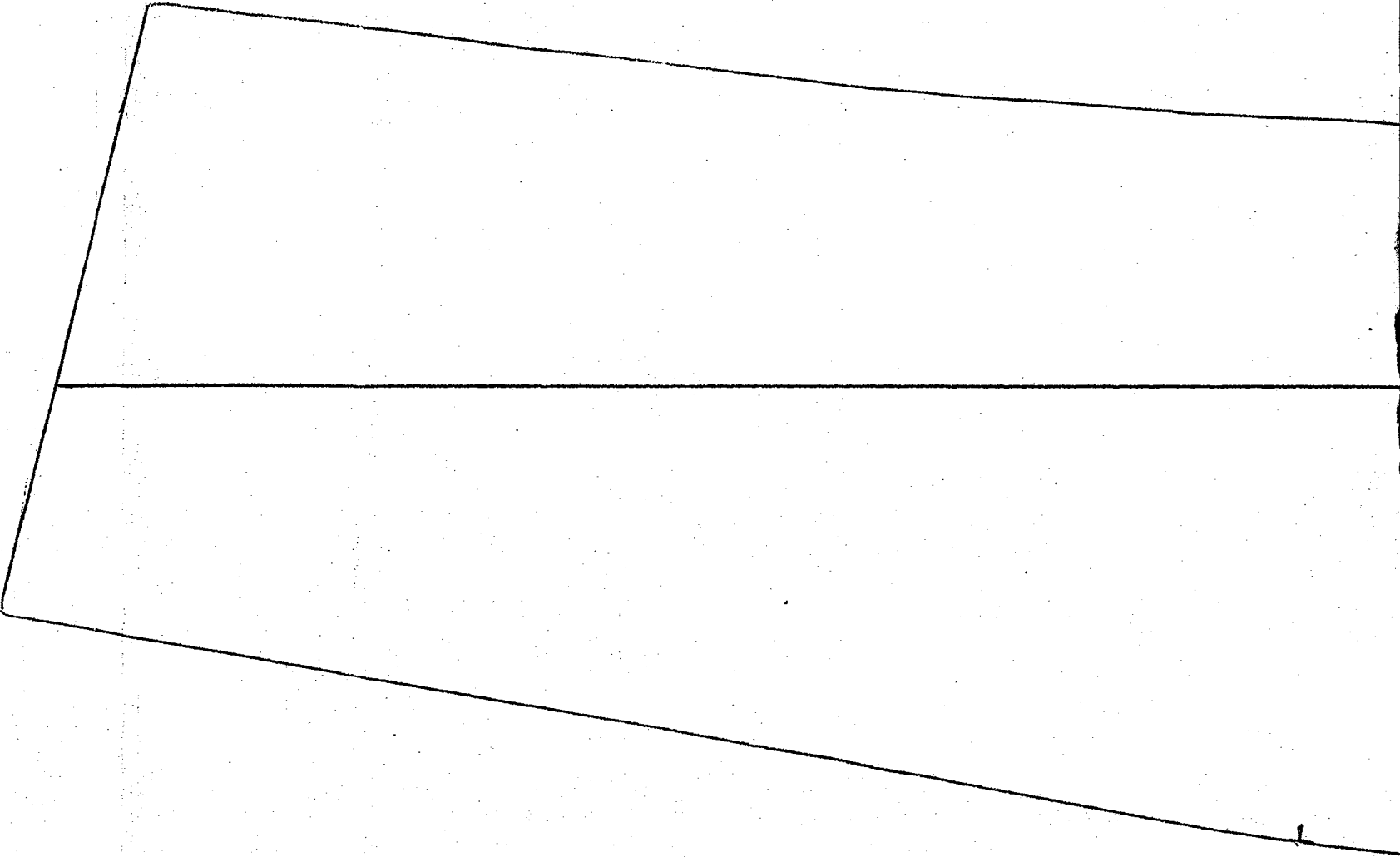
3/4



MANCHE TAILLEUR

DESSOUS

2/2



<b>BREVET DE TECHNICIEN</b>			
Coef. : 4	Session : 2007	Durée : 8 heures	
VETEMENT (Création et Mesure)		Epreuve : B1 - Exécution d'une demi toile d'après croquis.	
B1JN07		Sujet :	3 / 3

CRDP de MONTPELLIER  
RÉSERVÉ AU SERVICE



## FICHE D'ÉVALUATION Manteau « Harmony »

Identification du candidat :

Exigences	Barème	Justifications	Note
<b>Respect du modèle :</b> - volume - proportions	20 pts		
<b>Aplombs :</b> - tracé des aplombs - respect des aplombs	20 pts		
<b>Respect des contraintes fonctionnelles :</b> - aisance : carrures poitrine taille	15 pts		
<b>Manche :</b> - construction - calage	10 pts	<div style="border: 1px solid black; padding: 5px; width: fit-content; margin: auto;">                         CRDP de MONTPELLIER  <hr/>                         RÉSERVÉ AU SERVICE                     </div>	
<b>Col :</b> - construction - calage	10 pts		
<b>Présentation et soin</b> <b>Réglage (cran,...)</b> <b>Epinglage</b> <b>Valeurs de coutures</b>	5 pts		
<b>NOTE</b>	80 pts		/ 80
<b>Note sur 20</b> (arrondir à 0,5 point près)			/ 20

### BREVET DE TECHNICIEN

Coef. : 4

Session : 2007

Durée : 8 heures

**VÊTEMENT (Création et Mesure)**

Epreuve : B1 – Exécution d'une demi-toile d'après croquis.