

**DIPLOME DE TECHNICIEN
DES METIERS DU SPECTACLE**

SESSION 2007

Epreuve : Histoire et Géographie

Attention : vous traiterez au choix le sujet 1 ou le sujet 2

DIPLOME DE TECHNICIEN DES METIERS DU SPECTACLE

SUJET

Session 2007

Durée : 1 h 30

Coefficient : 1

E4-B4

Epreuve : Histoire - Géographie

Page : 1/9

HISTOIRE

L'évolution des rapports de puissance dans le monde depuis le milieu du XIX^{ème} siècle

Les tensions internationales de 1918 à nos jours

Document 1

Le président Wilson invente la sécurité collective (texte).

Source : André Kaspi, guerre atomique, guerre interdite, L'Histoire n° 226, novembre 1998.

Document 2

Communiqué final de la conférence de Bandoung, avril 1955 (texte).

Document 3

La décolonisation (carte).

Document 4

Nord et Sud.

Source : extrait d'un discours de U Thant, Secrétaire Général de l'ONU, 11 novembre 1963.

Document 5

Les conflits dans le monde en 2000 (carte).

Source : The international Institute for Strategic Studies, Military Balance 2000-2001 (carte).

QUESTIONS

Question 1 : document 1

3 points

- Quels sont les points communs entre la SDN et l'ONU (origine, intentions, faiblesses) ?
- Expliquez la phrase soulignée : « La SDN n'empêche nullement la montée des périls, puis l'explosion de 1939 ».

Question 2 : document 2

2 points

Quels sont, dans le texte, les éléments qui montrent que « le colonialisme est un mal » ?

Question 3 : documents 2 et 3

2 points

- Quels éléments de la carte expliquent que la conférence soit « afro-asiatique » ?
- Quels continents sont principalement concernés à chaque étape de la décolonisation ?

Question 4 : document 4

3 points

Quelles sont les trois sortes de division du monde auxquelles les phrases soulignées font allusion ?

Question 5 : documents 1, 3, 4 et 5

3 points

- Avec quelle phrase de chacun des deux textes la carte 5 peut-elle être mise en relation ?
- Donnez, à partir de cette carte qui date d'août 2000, un exemple de localisation :
 - d'un conflit armé interne actif,
 - d'un conflit interne avec accord de paix signé,
 - d'un conflit international actif,
 - d'une action terroriste.
- Quel élément de la carte 3 peut expliquer la localisation des conflits en août 2000 ?

Synthèse :

7 points

A partir des documents, des réponses aux questions et de vos connaissances, vous présenterez, en une vingtaine de lignes les principales causes de tensions internationales depuis 1918 ; vous les illustrerez avec des exemples de crises.

DIPLOME DE TECHNICIEN DES METIERS DU SPECTACLE			
SUJET	Session 2007	Durée : 1 h 30	Coefficient : 1
E4, B4	Epreuve : Histoire - Géographie		Page : 2/9

Les tensions internationales de 1918 à nos jours

Document 1 : Le président Wilson invente la sécurité collective

« En janvier 1918, le président Woodrow Wilson propose un quatorzième point à son programme de paix. « Une association générale des nations doit être formée [...] dans le but d'apporter des garanties mutuelles d'indépendance politique et d'intégrité territoriale aux grands comme aux petits Etats. » Un an plus tard, les vainqueurs de la Grande Guerre incluent le «pacte de la Société des Nations » dans les traités de paix. La sécurité collective est née. Elle doit empêcher que le monde s'enflamme. Les conflits seront résolus par la négociation. Hélas ! la SDN n'atteint pas ses objectifs. Les Etats-Unis désavouent leur président et refusent leur adhésion. L'Allemagne y entre en 1926 et en sort en 1934. Le Japon est exclu pour avoir envahi la Mandchourie, en 1931. L'Italie est sanctionnée à la suite de son agression contre l'Ethiopie, en 1935. La SDN n'empêche nullement la montée des périls, puis l'explosion de 1939.

Franklin Roosevelt, à son tour, tente de redonner vie à la sécurité collective. A San Francisco, en juin 1945, Américains, Britanniques, Soviétiques, Français et Chinois mettent sur pied l'Organisation des Nations unies. Cinquante-trois ans plus tard, le bilan est mitigé. L'ONU a subi les contrecoups de la guerre froide. Tantôt elle fut paralysée par l'opposition entre les super-grands. Tantôt elle a adopté des résolutions, dont la plupart n'ont été que des vœux pieux*. Elle est un peu plus active depuis l'effondrement de l'Union soviétique. Mais peut-on dire qu'elle a imposé la paix aux Etats, banni les guerres totales et maintenu un ordre mondial ? »

André Kaspi**, *Guerre atomique, guerre interdite*, L'Histoire n° 226, novembre 1998.

* vœux pieux : vœux qui n'ont aucune chance de se réaliser.

** André Kaspi est un historien contemporain, spécialiste des Etats-Unis.

Document 2 : Communiqué final de la conférence de Bandoung (avril 1955)

La conférence est d'accord :

- 1 - Pour déclarer que le colonialisme, dans toutes ses manifestations, est un mal auquel il doit être mis fin rapidement.
- 2 - Pour déclarer que la question des peuples soumis à l'assujettissement à l'étranger, à sa domination et à son exploitation, constitue une négation des droits fondamentaux de l'homme, est contraire à la charte des Nations unies et empêche de favoriser la paix et la coopération mondiales.
- 3 - Pour appuyer la cause de la liberté et de l'indépendance de ces peuples.
- 4 - Pour demander aux puissances intéressées qu'elles accordent la liberté et l'indépendance de ces peuples [...]

La conférence afro-asiatique déplore la politique et les pratiques de ségrégation et de discrimination raciales qui forment la base du système politique et des rapports humains dans de vastes régions d'Afrique et dans d'autres parties du monde. Un tel comportement est non seulement une violation des droits de l'homme, mais encore une négation des valeurs essentielles de la civilisation et de la dignité de l'homme. [...]

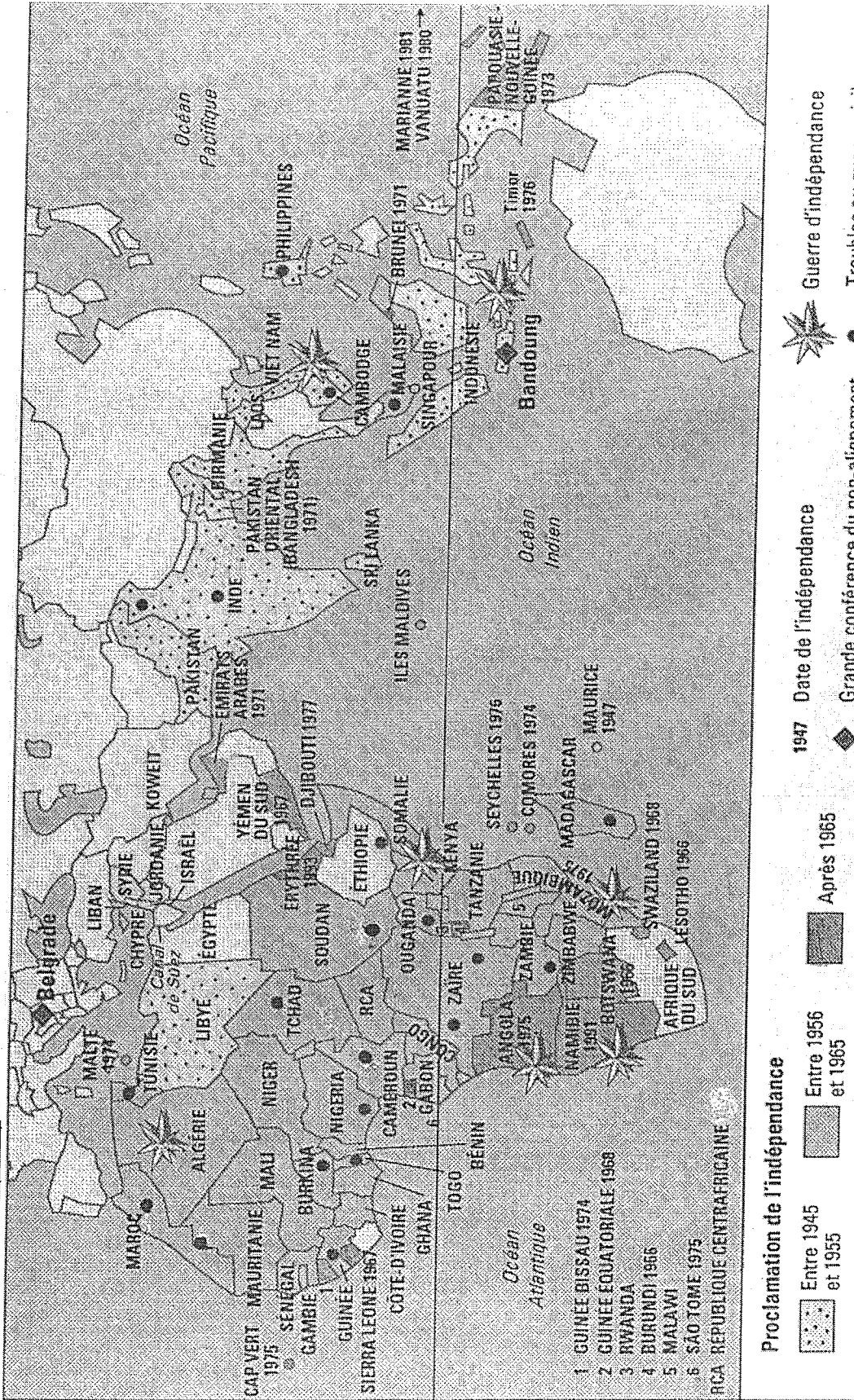
En ce qui concerne la situation instable en Afrique du Nord, la conférence afro-asiatique déclare appuyer les droits des peuples d'Algérie, du Maroc et de Tunisie à disposer d'eux-mêmes et à être indépendants, et elle presse le gouvernement français d'aboutir sans retard à une solution pacifique de cette question. »

DIPLOME DE TECHNICIEN DES METIERS DU SPECTACLE

SUJET	Session 2007	Durée : 1 h 30	Coefficient : 1
E4 - B4	Epreuve : Histoire - Géographie		Page : 3/9

Les tensions internationales de 1918 à nos jours

Document 3 : La décolonisation (carte)



DIPLOME DE TECHNICIEN DES METIERS DU SPECTACLE	
SUJET	Session 2007
E4-134	Durée : 1 h 30
Epreuve : Histoire - Géographie	
Page : 4/9	

Les tensions internationales de 1918 à nos jours

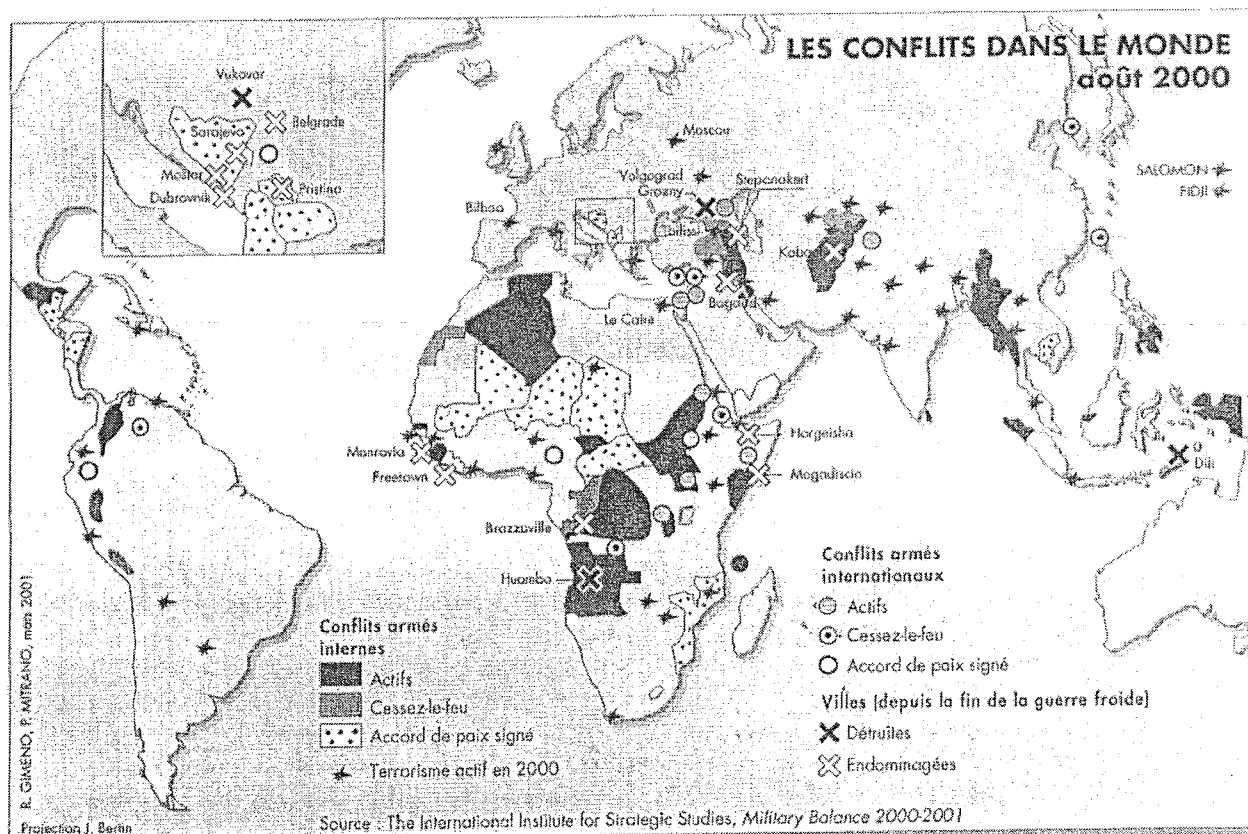
Document 4 : Nord et Sud

« Le monde d'après-guerre a vu une autre révolte encore, celle des pays qui ne sont pas nantis. Tous comme les Noirs et leurs frères à peau brune avaient accepté pendant des siècles le « fardeau de l'homme blanc »*, les pauvres acceptaient aussi la pauvreté comme une chose naturelle. Or, ce qui a marqué les quinze dernières années, c'est le refus catégorique d'une telle conception des choses. Si le partage du monde entre l'Est et l'Ouest est né d'un conflit idéologique, l'écart entre les pays riches et les pays pauvres a creusé une sorte de fossé entre le Nord et le Sud. L'accroissement rapide de la population et l'absence de progrès économique et technique dans les pays en voie de développement ont provoqué une situation telle que cet écart inévitable entre pays riches et pays pauvres n'a cessé de s'élargir, et c'est là, à mon avis, une situation pleine de périls ».

Extrait d'un discours de U Thant, Secrétaire Général de l'ONU, 11 novembre 1963

* « fardeau de l'homme blanc » : mission civilisatrice de l'Angleterre (d'après R. Kipling) et des colonisateurs européens en général.

Document 5 : Les conflits dans le monde en 2000 (carte)



DIPLOME DE TECHNICIEN DES METIERS DU SPECTACLE

SUJET	Session 2007	Durée : 1 h 30	Coefficient : 1
E4-B4	Epreuve : Histoire - Géographie		Page : 5/9

GÉOGRAPHIE

LES MIGRATIONS INTERNATIONALES, UNE RÉALITÉ DE LA FRACTURE NORD-SUD

Document 1

Des flux migratoires considérables, P. Jacquet, « Tirer parti des migrations », *Le Monde*, 20 janvier 2006

Document 2

Les routes africaines de l'immigration clandestine, *Le Monde*, 24 août 2004

Document 3

Plantu, *Le Monde*, 8 octobre 2005

Document 4

« Il est temps de rouvrir les frontières », C. Wihtol de Wenden, *Alternatives Internationales*, décembre 2005

QUESTIONS

Question 1 : Document 1

4 points

Comment évoluent les migrations internationales ?

Relevez et classez les facteurs qui expliquent cette évolution en reproduisant et en complétant le tableau ci-dessous.

Facteurs	Pays de départ	Pays d'accueil
Démographiques	...	
Économiques et sociaux	...	
Techniques	...	

Question 2 : Document 2

4 points

D'après la carte, quels sont les pays d'Afrique où aboutissent en dernier lieu les routes africaines de l'immigration clandestine ?

Dans quels pays d'Europe arrivent les immigrants clandestins ?

Comment expliquez-vous la localisation des lieux de départ et d'arrivée ?

Question 3 : Documents 2 et 3

2 points

Décrivez la situation représentée en mettant en relation les éléments du dessin et les informations apportées par le document 2 (localisation, population, interprétation...).

Question 4 : Documents 3 et 4

3 points

Quels arguments sont utilisés par l'auteur pour défendre la réouverture des frontières ?

Relevez une expression du texte qui pourrait servir de titre au dessin de Plantu ?

Question de synthèse :

7 points

À l'aide des documents, des réponses aux questions et de vos connaissances, vous rédigerez une synthèse d'une vingtaine de lignes sur « la fracture Nord-Sud ». Vous direz d'abord quelles raisons expliquent les migrations entre le Sud et le Nord et ensuite quel rôle positif peuvent jouer ces migrations dans la réduction de la fracture Nord-Sud.

DIPLOME DE TECHNICIEN DES METIERS DU SPECTACLE			
SUJET	Session 2007	Durée : 1 h 30	Coefficient : 1
E4-B4	Epreuve : Histoire - Géographie		Page : 6/9

Document 1 : Des flux migratoires considérables

D'après le récent rapport de la Commission sur les migrations internationales (CMMI), les migrants représentent près de 200 millions de personnes, soit 3 % de la population mondiale. Leur nombre a doublé en vingt-cinq ans. [...]

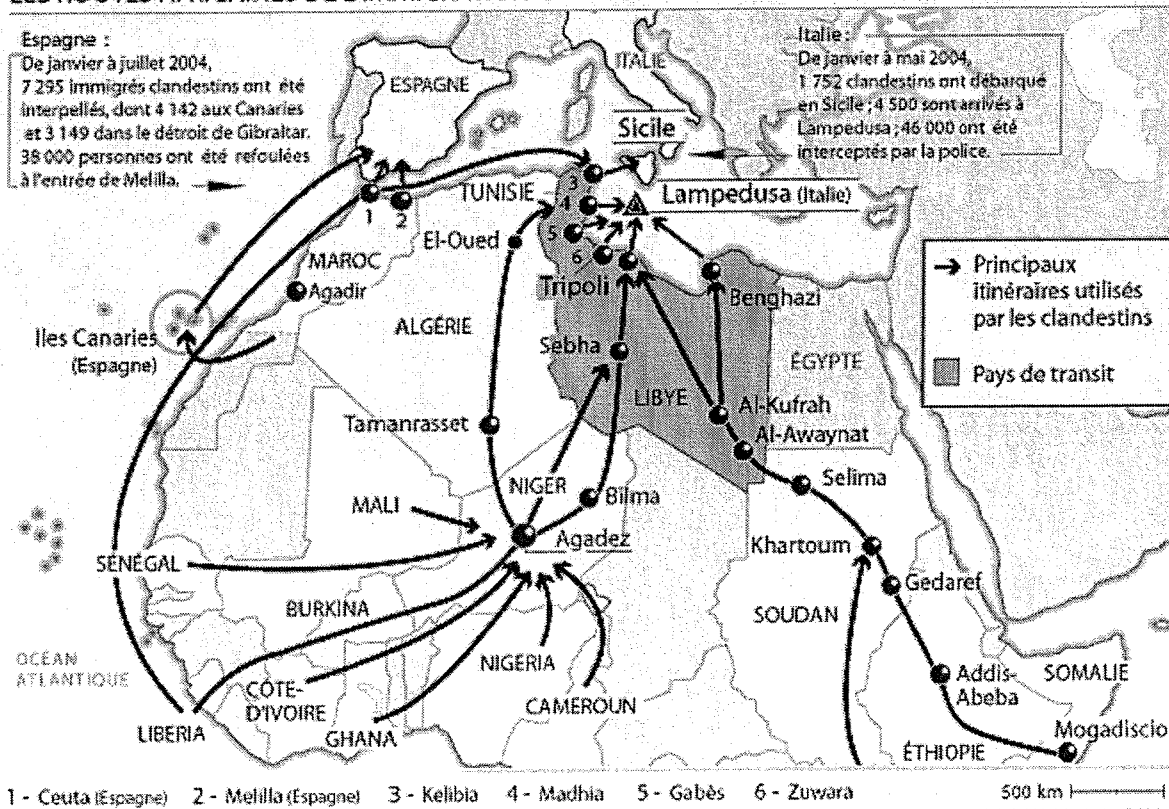
Cette dynamique migratoire est encore appelée à s'amplifier. L'apparition et la diffusion des médias modernes (télévision, téléphone et Internet) dans les pays en développement y ont mis en évidence l'extraordinaire différence des conditions de vie entre pays, alors que la baisse des coûts de transport facilite les mouvements des personnes.

Les migrations représentent aussi un phénomène à coûts décroissants : le coût d'émigrer baisse dès lors qu'un volume suffisamment important de migrations permet la création de réseaux dans les différents pays d'accueil, qui facilitent l'accès des nouveaux migrants et accroissent l'incitation à bouger. Surtout, les tendances démographiques accentuent les pressions migratoires : le Nord, riche et vieillissant, a besoin de main-d'œuvre ; les pays pauvres connaissent une croissance démographique élevée et leurs économies n'offrent pas à leurs populations actives et à leurs jeunes suffisamment de perspectives d'emploi. Déjà, entre 1990 et 2000, près des neuf dixièmes de la croissance démographique en Europe étaient dus à l'immigration. Sans elle, la population européenne aurait diminué de plus de 4 millions de personnes entre 1995 et 2000.

P. Jacquet, *Le Monde*, 20 janvier 2006

Document 2 : Les routes africaines de l'immigration clandestine

LES ROUTES AFRICAINES DE L'IMMIGRATION CLANDESTINE

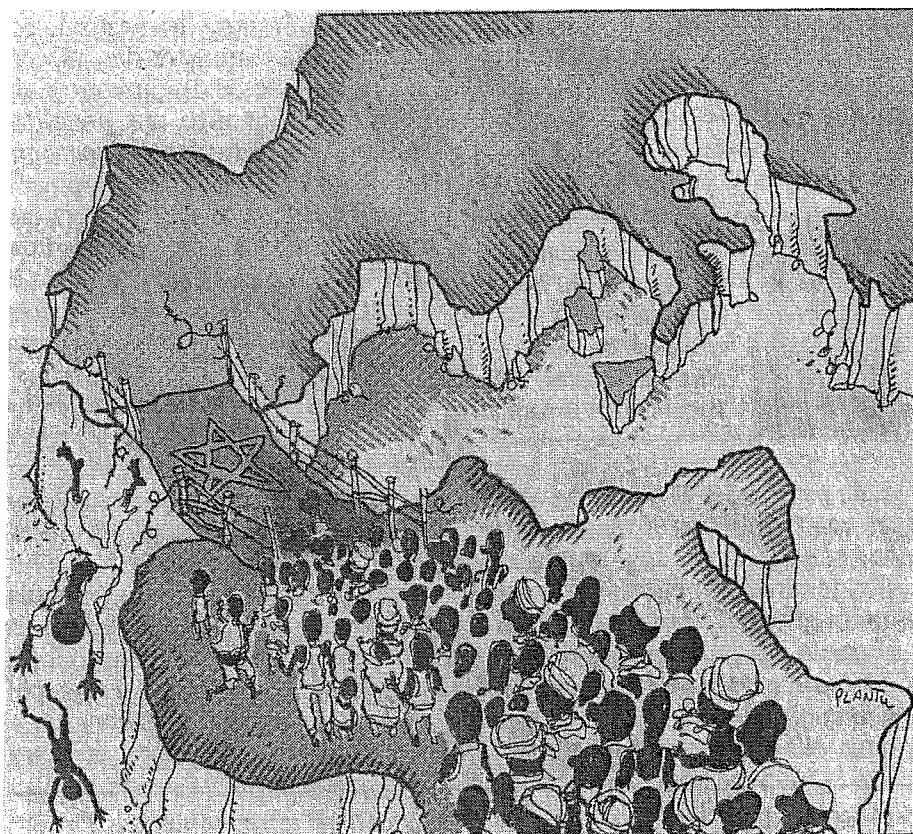


Lampedusa : île italienne figurée par un triangle

Le Monde, 24 août 2004

DIPLOME DE TECHNICIEN DES METIERS DU SPECTACLE			
SUJET	Session 2007	Durée : 1 h 30	Coefficient : 1
E4-B4	Epreuve : Histoire - Géographie		Page : 7/9

Document 3



Plantu, *Le Monde*, 8 octobre 2005

DIPLOME DE TECHNICIEN DES METIERS DU SPECTACLE			
SUJET	Session 2007	Durée : 1 h 30	Coefficient : 1
E4.B4	Epreuve : Histoire - Géographie		Page : 8/9

Document 4 : « Il est temps de rouvrir les frontières »

Dans ses grandes lignes, la politique des pays d'Europe est fondée, depuis près de trente ans, sur la double conviction que l'immigration est globalement un mal et que la fermeture des frontières est possible. Ce sont deux idées fausses.

La migration a des retombées positives à la fois pour les pays d'origine et pour les pays d'accueil. Là-bas, la migration est souvent une ressource économique majeure. Via les transferts de fonds à leur famille ou les investissements qu'ils font sur place, les expatriés participent à l'enrichissement de la société où ils sont nés. L'argent des émigrés représenterait plus de 6 % du PIB marocain.

L'émigration offre par ailleurs une solution au chômage des jeunes, qui atteint souvent 30 à 40 % dans ces pays. Et l'on commence à nuancer beaucoup les inconvénients supposés de la « fuite des cerveaux » : le cas indien a récemment démontré à quel point la diaspora des diplômés pouvait jouer, à son heure, un rôle clé dans le développement. Les migrants contribuent sur tous les plans à la modernisation de leurs sociétés : ils y introduisent aussi des modes de vie et des valeurs nouveaux, notamment démocratiques. On ne dira jamais assez le rôle des migrants dans la modernisation de l'Espagne et du Portugal.

Le phénomène profite aussi aux pays d'accueil. Quand les responsables européens ont décidé de fermer les portes aux travailleurs en 1974, ils étaient persuadés que l'ère des grands mouvements de population était révolue ; qu'avec la crise économique, les migrants retourneraient chez eux ; que la main-d'œuvre nationale au chômage remplacerait les étrangers ; et que la liberté de circulation des Européens serait une alternative à la migration des non communautaires...

Rien de tout cela ne s'est produit. 1,5 % seulement des Européens se sont installés dans un autre pays que le leur. Et les nationaux n'ont pas pris la place des migrants dans les travaux les plus pénibles et les plus mal payés. Aujourd'hui, nous avons à la fois du chômage et des pénuries de main-d'œuvre. Des pans entiers de nos économies fonctionnent grâce à l'immigration, souvent illégale : l'hôtellerie, l'agriculture, les services aux personnes âgées... 28 % du PIB italien viendrait de l'économie informelle, qui tourne largement grâce aux clandestins. D'ailleurs, en fait de politique de fermeture, les pays d'Europe procèdent périodiquement à des vagues de régularisations. Et selon Europol, 500 000 illégaux franchiraient chaque année les douves* de la « forteresse Europe ».

C. Wihtol de Wenden, *Alternatives Internationales*, décembre 2005

* douves : fossés remplis d'eau entourant les châteaux-forts

DIPLOME DE TECHNICIEN DES METIERS DU SPECTACLE			
SUJET	Session 2007	Durée : 1 h 30	Coefficient : 1
E4-B4	Epreuve : Histoire - Géographie		Page : 9/9