

Certificat d'aptitude professionnelle SOLIER MOQUETTISTE

Epreuve EP1
Unité UP1


DOSSIER TECHNIQUE

ANALYSE D'UNE SITUATION PROFESSIONNELLE

Durée de l'épreuve : 3 heures Coefficient : 4

Ce dossier comprend 7 documents :

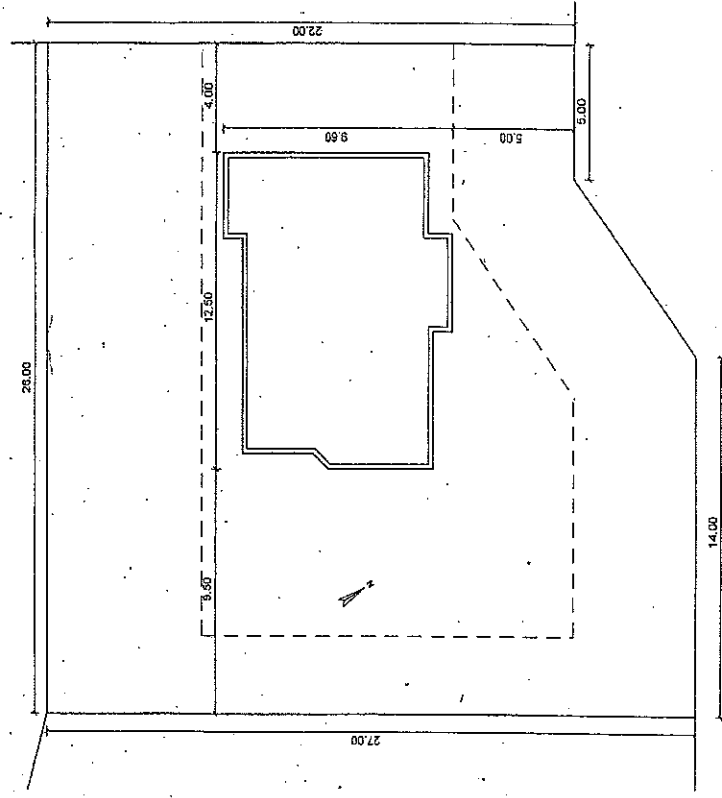
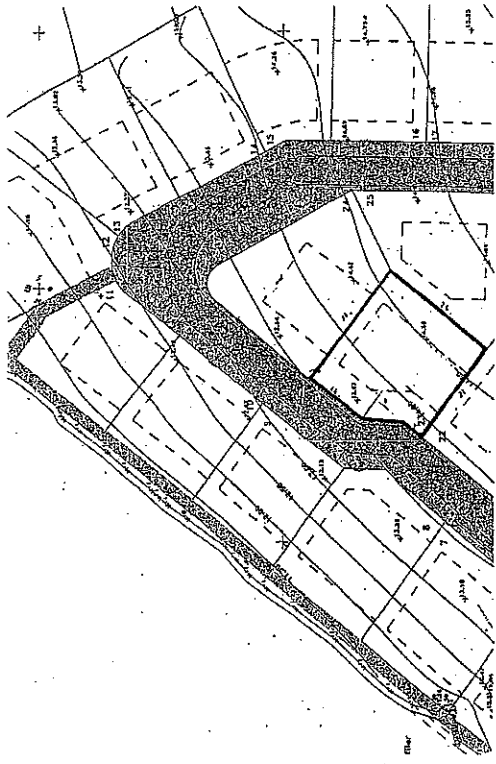
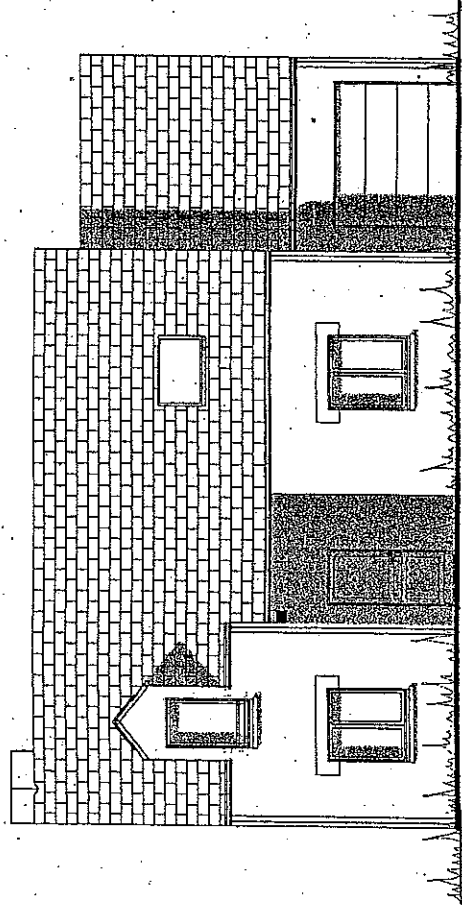
- Page de garde : page 1/7
- Plan de situation : page 2/7
- Plan du rez-de-chaussée : page 3/7
- plan de l'étage : page 4/7
- Plan de coupe : page 5/7
- Plan de façade et pignon : page 6/7
- Extrait du CCTP : page 7/7



METROPOLE - REUNION - MAYOTTE	Session	2007	Facultatif - code	359CB07
Examen et spécialité				
CAP Solier - Moquetiste				
Intitulé de l'épreuve				
EP1 Analyse d'une situation professionnelle - ponctuelle écrite				
Type	Facultatif, oral et lauré	Durée	Coefficient	N° de page / total
DOSSIER TECHNIQUE		3 h 00	4	1/7



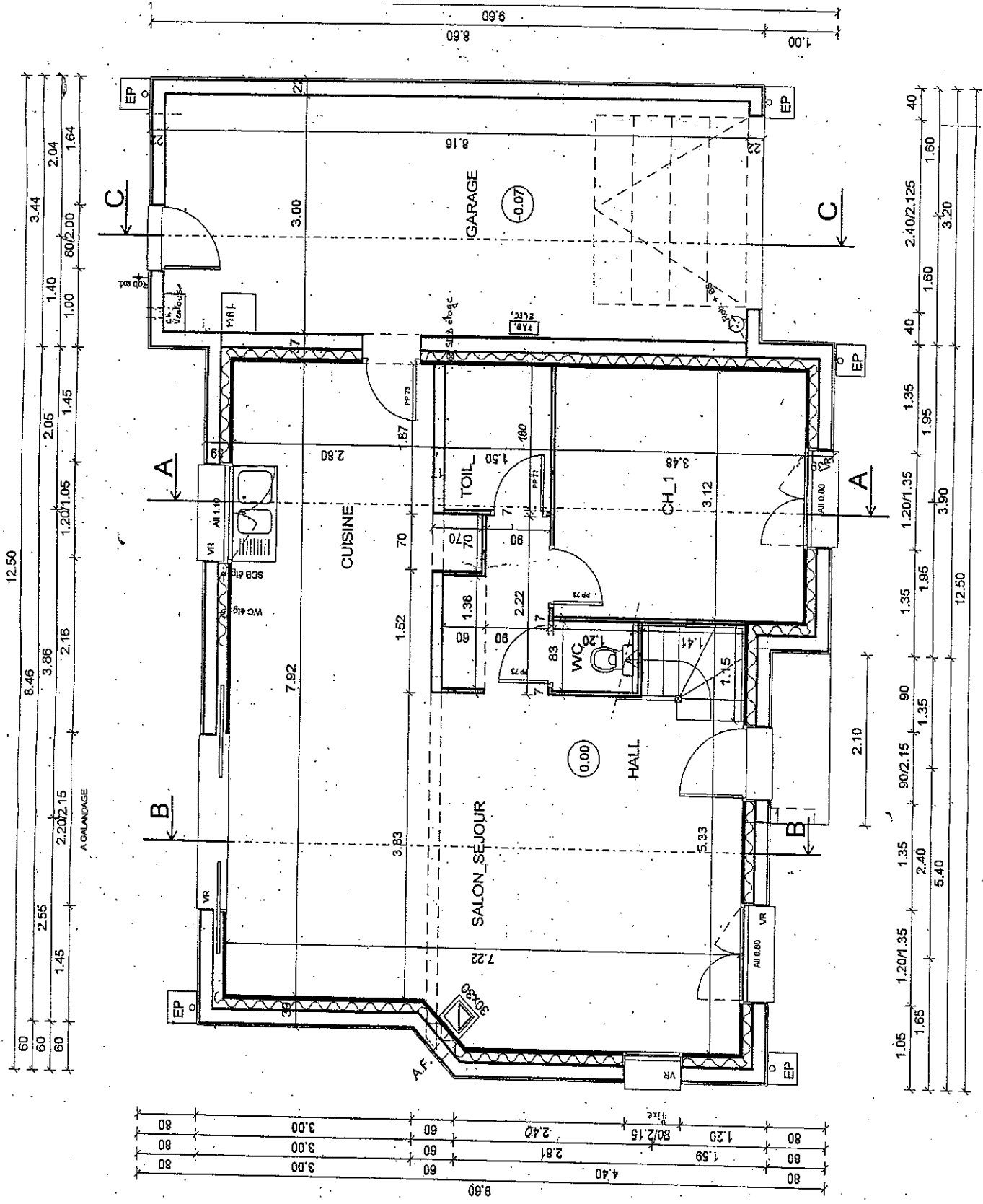
Propriété de Mr et Mme Dominique Bathenay
Lotissement « Les Séquoias » - Lot N° 23
44300 NANTES

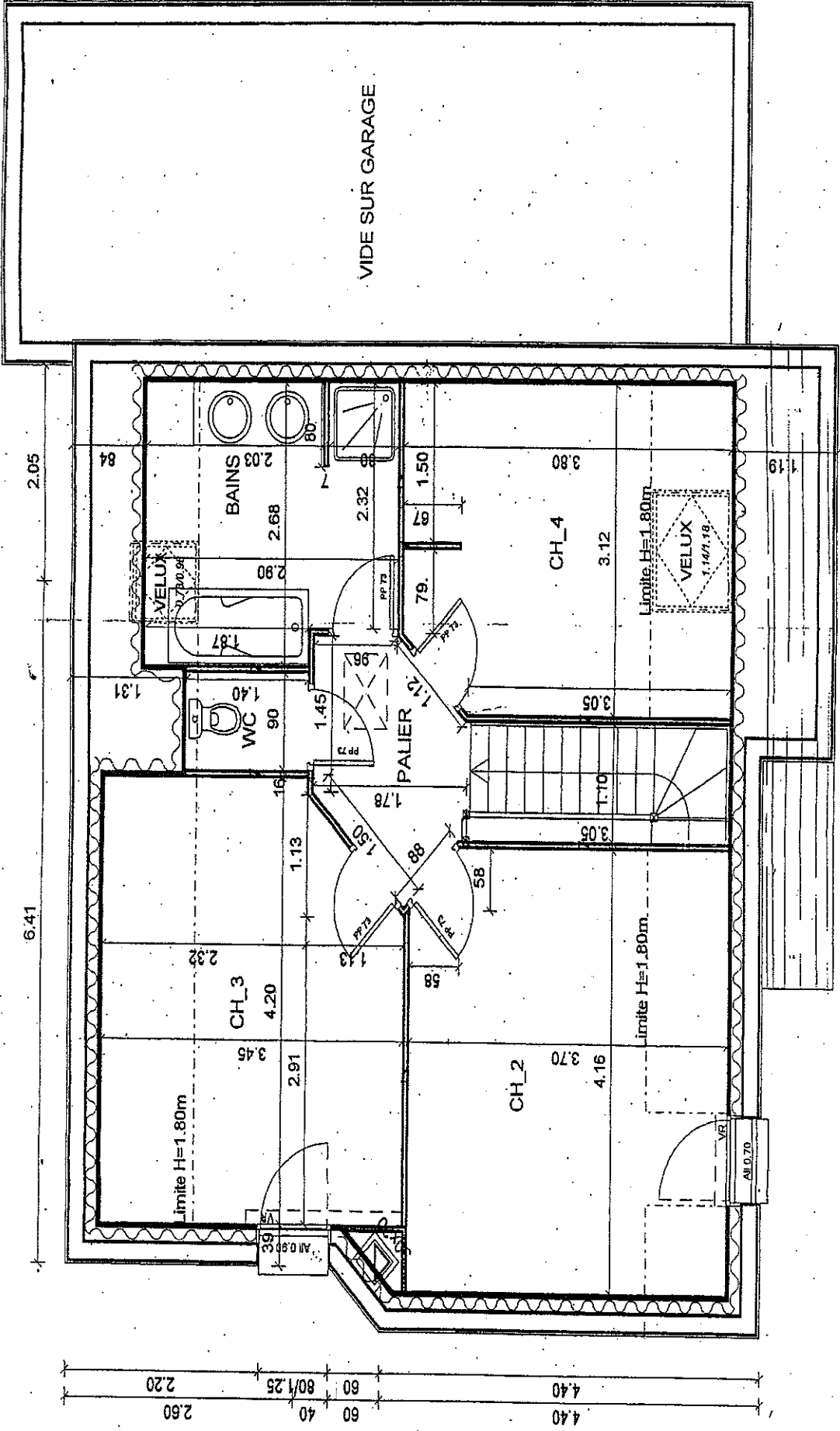


IMPLANTATION 1/200

CAP Soiler - Moquetiste	Rappel cotage 359C/807
EP1 Analyse d'une situation professionnelle - ponctuelle écrite	Page 2 sur 7


REZ DE CHAUSSEE

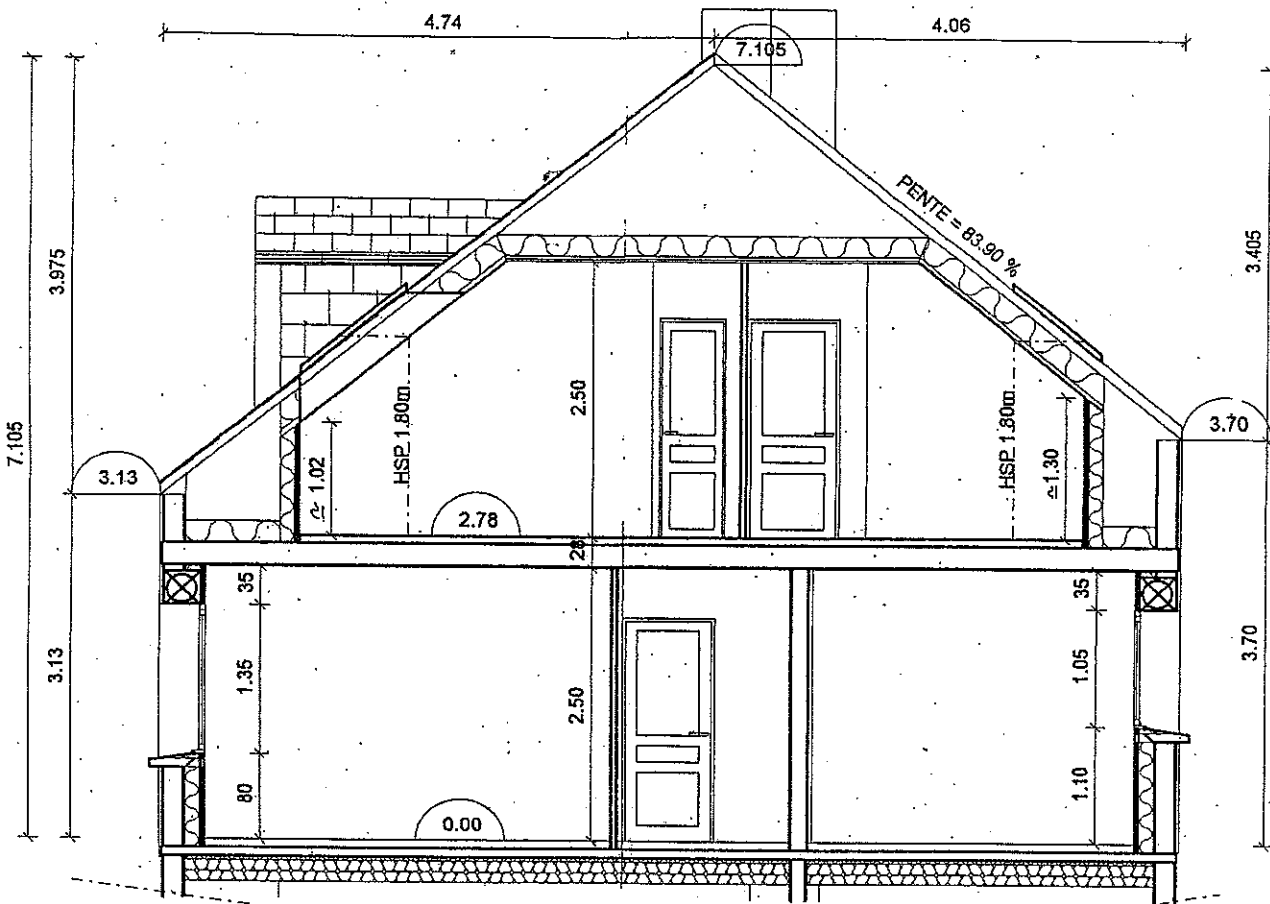




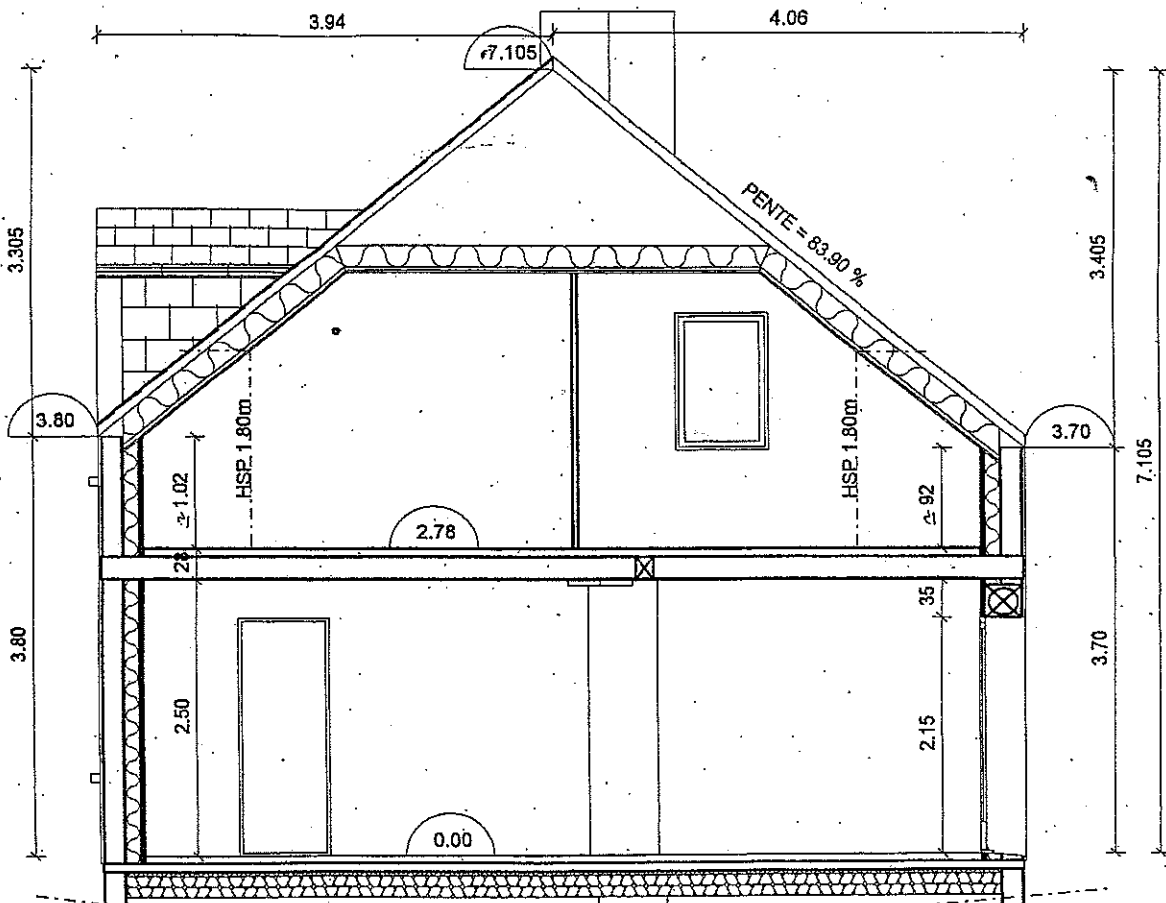
VIDE SUR GARAGE

ETAGE






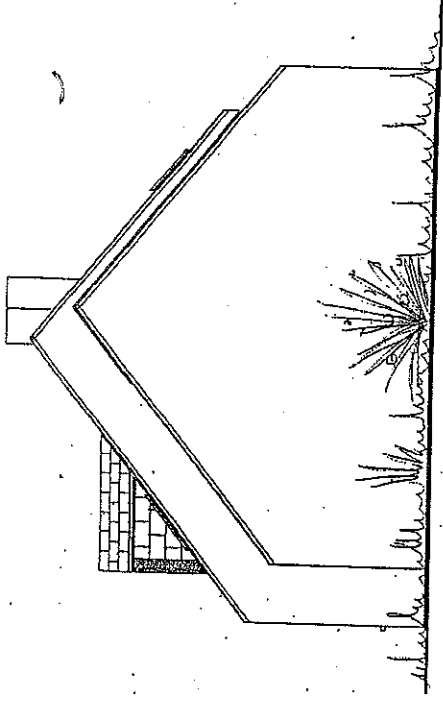
COUPE AA



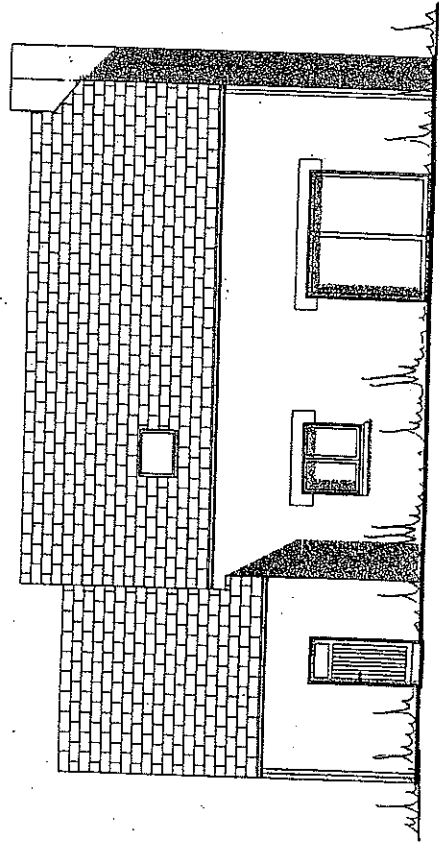
COUPE BB



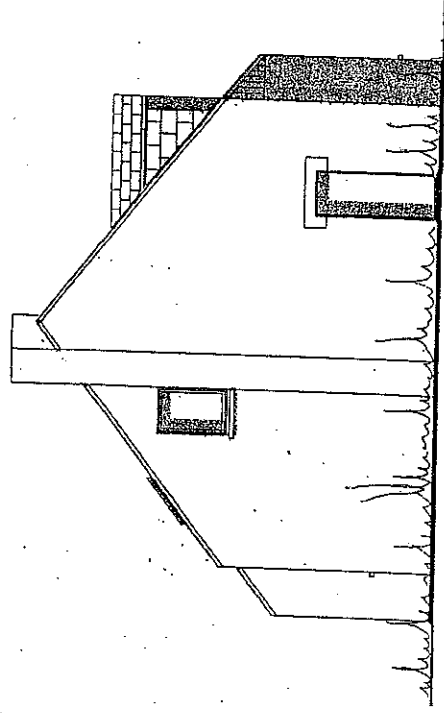
FACADE NORD EST



PIGNON NORD OUEST



FACADE SUD OUEST



PIGNON SUD EST

LOT N° 10 REVETEMENT DE SOL

Extrait du CCTP

10.1 Généralité

10.1.1 Objet du lot

Les travaux comprennent :
Les revêtements de sol souple.

10.1.2 Coloris

Le choix possible du maître d'œuvre portera au minimum sur deux coloris dans la même gamme du fabricant et par type de revêtement.

10.2.1 Revêtement de sol

10.2.1 Ragrétagé

Ponçage pour écartage des arêtes et lissage des chapes et dalles surfacées.

Enduit de lissage, dont le classement P sera en corrélation avec la résistance au poinçonnement du revêtement, à une ou plusieurs couches jusqu'à obtention d'une planimétrie acceptable.

LOCALISATION : Tous les locaux de la zone d'habitation.

10.2.2 Dalles vinyles

Revêtement vinylique homogène en dalles semi-flexible 30 cm x 30 cm

Type COLOVINIL CLASSIC de 2.5 mm d'épaisseur classée U3P3E2C2.

Pose droite à joint sur les axes avec incrustation de cabochon de 5 cm x 5 cm au croisement de chaque dalle entière.

LOCALISATION : TOILETTE

10.2.3 Revêtement de sol textile

Revêtement de sol textile aiguilleté enduit d'envers type TAPYSOM 600 de chez TARKETT. L'aiguilleté est classé U3P3E1C0.

La mise en œuvre se fera par collage en plein avec un adhésif émulsion acrylique.

Pour le palier

Incrustation d'une bande centrale de ton foncé de 20 cm de largeur. La bande reprendra la continuité de la bande de l'escalier.

LOCALISATION : PALIER ET CHAMBRE 2

10.2.4 Revêtement PVC épais.

Revêtement de sol P.V.C TX 243 de chez TARKETT en lés de 2 m.
Pose par collage conformément aux prescriptions du fabricant.

Pour l'escalier : la mise en œuvre se fera sur un escalier en bois, pose par collage en plein conformément aux prescriptions du fabricant.
La pose se fera à joint vifs sur les marches en 2 tons avec une bande centrée de 20 cm de large.

LOCALISATION : CH 1, CH3, CH 4 et escalier

10.2.5 Dalles souples

Revêtement de sol en dalles de 33.3 cm x 33.3 cm en pvc sur mousse type TOPYSOL 162 de chez TARKETT, classées U2SP2E2C2.

Collage suivant prescriptions du fabricant. La pose se fera en pose diagonale avec une bordure de 10 cm.

LOCALISATION : CUISINE

10.2.6 Nez de marche

Un nez de marche de TYPE SERIE DECORATION ROMUS ref 1388 sera posé dans l'escalier.

Fixation par vis en acier inoxydable.

LOCALISATION : ESCALIER

10.2.7 Barre de seuil.

Barre de seuil bombées de 30 mm de largeur en acier inoxydable.

Fixation par vis bombées en acier inoxydable posées sur trous tamponnés.

LOCALISATION : A tout changement de nature des matériaux.