

CORRIGÉ

Ces éléments de correction n'ont qu'une valeur indicative. Ils ne peuvent en aucun cas engager la responsabilité des autorités académiques, chaque jury est souverain.

QUESTION 1 : (9 points)

N°	Nom	Style	Siècle	Textile
1	fauteuil	1900 ou Art Nouveau	env. 1885 à début XIXe. s.	I
2	fauteuil de bureau canné	Régence	1 ^{er} tiers du XVIIIe. s.	B
3	chaise voyeuse	Louis XVI	env. 1774 à 1795	A
4	bergère	Louis XV	env. 1723 à 1750	D
5	chaise	1 ^{er} Empire	1800 à env. 1815	G
6	chaise à bras	Louis XIII	env. 1589 à 1661	C
7	chaise	Art déco	env. 1910 à 1930	H
8	tabouret d'apparat	Louis XIV	1661 à 1715	E
9	chaire	Gothique	env. XIVE. s.- XVe. s.	F

QUESTION 2 : (6 points)

En justifiant votre réponse par d'éventuels petits croquis, et en indiquant la période à laquelle ils ont été inventés, vous précisez les particularités respectives des sièges suivants :

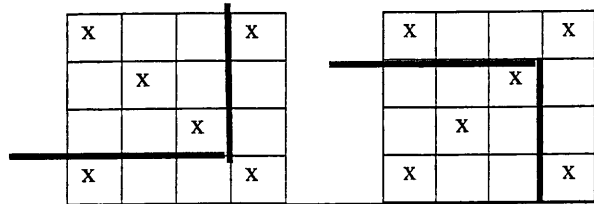
- une duchesse brisée : sorte de chaise longue composée de deux parties (un fauteuil et un bout de pied)
- un confident : deux fauteuils associés tête-bêche

QUESTION 3 : (5 points)

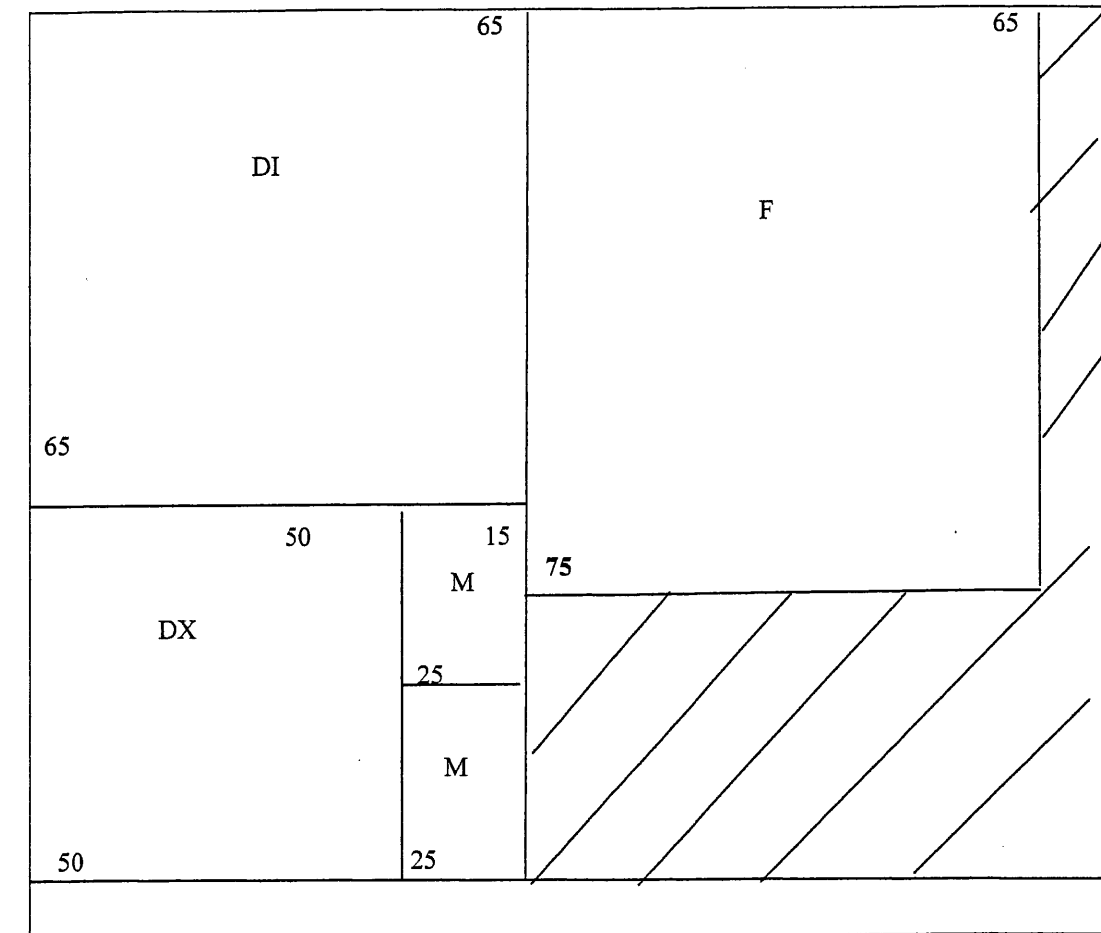
Vous associez le piétement au dossier correspondant ; pour chacun des sièges ainsi reconstitué, vous indiquez le style.

Siège de style Louis-Philippe	Piétement A + dossier 4
Siège de style Renaissance	Piétement B + dossier 2
Siège de style Louis XVI	Piétement C + dossier 3
Siège de style Louis XV	Piétement D + dossier 5
Siège de style Directoire	Piétement E + dossier 1

Code 50 242 38	CAP Tapissier Tapissière d'Ameublement en Siège	SESSION 2007	Page 1/3
DUREE 7H00	EP1 : ANALYSE D'UNE SITUATION PROFESSIONNELLE	COEF 4	CORRIGE

1. qualité du sanglage • qualité sangle -tension -régularité -fixation	/2
2. descriptif du siège • traverse haute du dossier – accoudoir –accotoir –dé de raccordement– ceinture ou devanture – pied	/3
3. garniture à pelote • âme de crin légèrement bombée sans point de piquage.	/1
4. garniture en cuvette • garniture en creux servant à recevoir un coussin	/1
5. garniture boutonnée • garniture tendue dont la couverture est agrémentée de boutons	/1
6. garniture capitonnée • garniture composée de creux et de bosses maintenue par des boutons	/1
7. aplomb d'une garniture • alignement de la garniture par rapport au bois	/1
8. lame de couteau • forme une arête vive. ex garniture empire	/1
9. entoilage • étoffe tendue sur le dossier extérieur d'un siège	/1
10. origine : • Coton : naturel végétal • Polyester : chimique synthétique	/2
11. rapport d'armure sergé effet chaîne ou trame 	/2
12. rideaux et draperies • 1. lambrequin 2.feston boiteux 3.godet 4.chute 5.double rideau 6.embrasse	/6
13. voir détail page 2/3	/3
14. voir détail page 3/3	/3
15. constat calculs page 3/3	/3
16. calculs métrage tissu uni 1^{er} cas • 2 lés • $2 \times 265 = 530$ cm	/2
16. calculs métrage tissu à motifs 2^{eme} cas • $265 : 47 = 6$ raccords • $6 \times 47 = 282$ cm • 2 lés • $2 \times 282 = 564$ cm	/4
17. livraison des sièges • emballage des pieds • éviter les chocs lors du transport pictogrammes sécurité atelier • pas de vêtements ou cheveux lâches • sortie de secours ou matériel incendie utilisation de la perceuse • vérifier le bon état des câbles électriques • ne pas mettre la main devant l'outil	/6
Total	/40 points

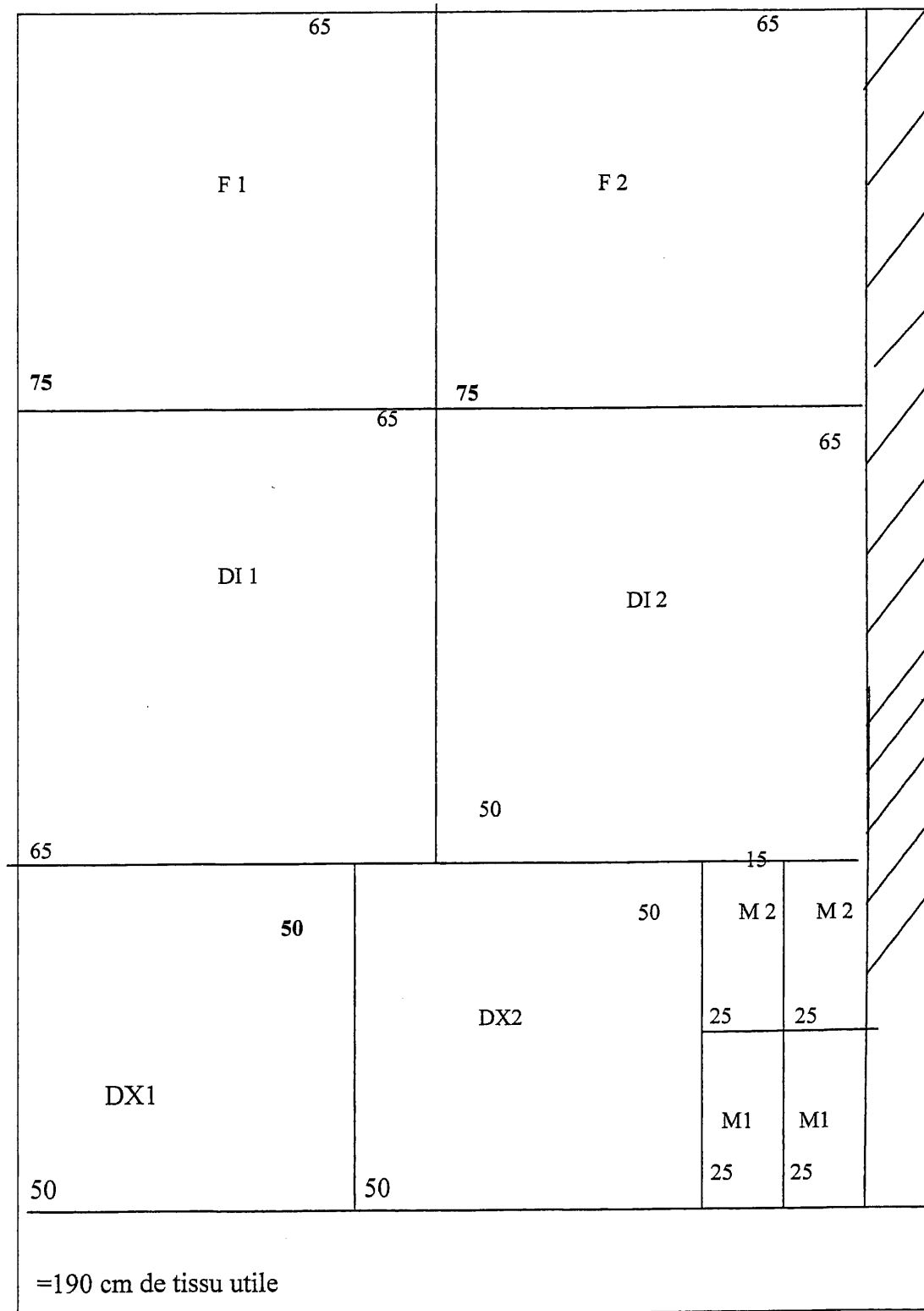
13. métrage 1 siège



=115 cm de tissu utile

Code 50 242 38	CAP Tapissier Tapissière d'Ameublement en Siège	SESSION 2007	Page 2/3
DUREE 7H00	EP1 : ANALYSE D'UNE SITUATION PROFESSIONNELLE	COEF 4	CORRIGE

14. métrage 2 sièges



15. constat calculs métrage :

il est proportionnellement plus avantageux de recouvrir 2 sièges = moins de métrage par siège

Code 50 242 38	CAP Tapissier Tapissière d'Ameublement en Siège	SESSION 2007	Page 3/3
DUREE 7H00	EP1 : ANALYSE D'UNE SITUATION PROFESSIONNELLE	COEF 4	CORRIGE