

| | |
|--|---|
| Session : 2007 | Repère de l'épreuve : |
| Académies : | Spécialité/option : TAPISSIER TAPISSIERE D'AMEUBLEMENT EN SIEGE |
| Examen : CAP | |
| Épreuve/sous épreuve : | |
| NOM : | Prénoms : |
| (en majuscule, suivi s'il y a lieu, du nom d'épouse) | |
| Né(e) le : | N° du candidat : (le numéro est celui qui figure sur la convocation ou liste d'appel) |
| NOTE : | |

NE RIEN ÉCRIRE DANS CE CADRE

Il est interdit aux candidats de signer leur composition ou d'y mettre un signe quelconque pouvant indiquer sa provenance

QUESTION 1 :

Après avoir observé les différents sièges et textiles reproduits sur le folio 2/10, répondez aux questions suivantes :

- qualifiez chacun de ces meubles par un nom approprié,
- identifiez le style de chacun d'eux,
- précisez la période ou le siècle lors desquels ceux-ci ont été créés
- associez à chacun d'eux le textile qui correspond le mieux, en indiquant la lettre respective.

| N° | Nom | Style | Siècle | Textile |
|----|-----|-------|--------|---------|
| 1 | | | | |
| 2 | | | | |
| 3 | | | | |
| 4 | | | | |
| 5 | | | | |
| 6 | | | | |
| 7 | | | | |
| 8 | | | | |
| 9 | | | | |

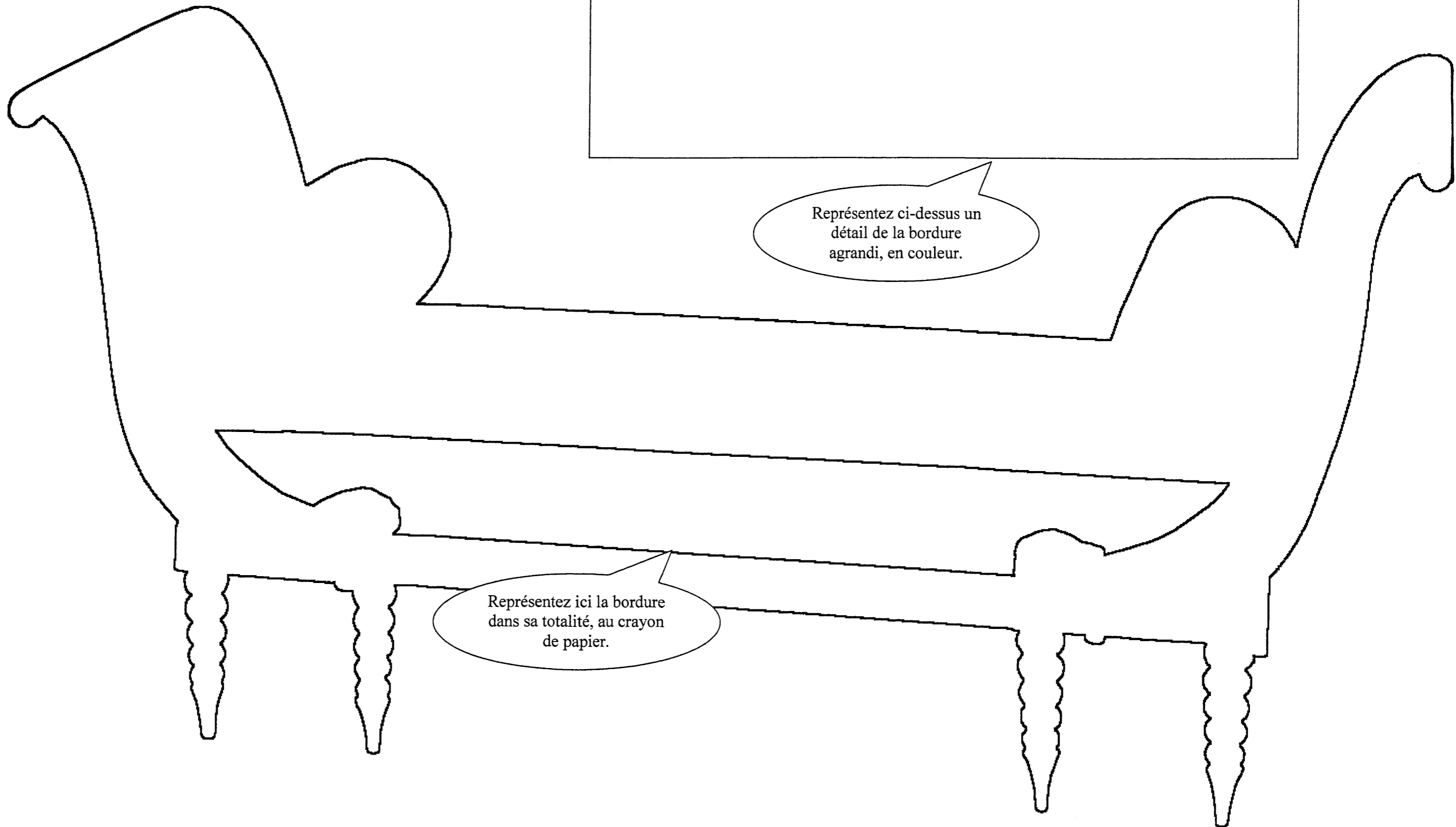
QUESTION 2 :

En justifiant votre réponse par d'éventuels petits croquis, et en indiquant la période à laquelle ils ont été inventés, vous précisez les particularités respectives des sièges suivants :

- une duchesse brisée :
.....
.....
.....
.....
.....
.....
.....
.....
.....
.....
.....
.....
.....
.....
.....
.....
.....
.....
.....
.....
.....
- un confident :
.....
.....
.....
.....
.....
.....
.....
.....
.....
.....
.....
.....
.....
.....
.....
.....
.....
.....
.....
.....
.....

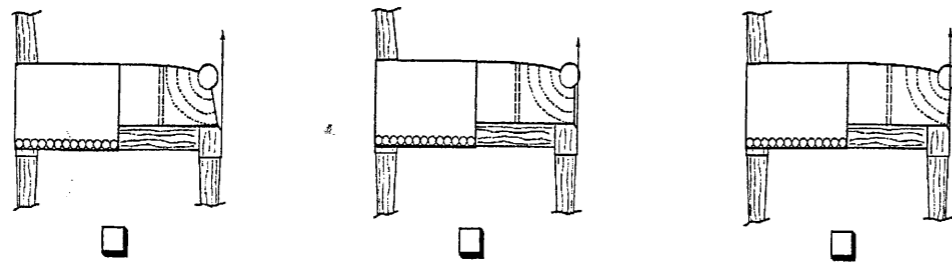
| | | | |
|----------------|---|---------------------|-----------|
| SUJET | CAP Tapissier Tapissière d'Ameublement en Siège | SESSION 2007 | Page 1/10 |
| Code 50 242 38 | EP1 : Analyse d'une situation professionnelle | Durée totale : 7h00 | Coef 4 |
| | Analyse formelle et stylistique | Durée : 1h30 | |

NE RIEN ECRIRE DANS CETTE PARTIE



| | | | |
|----------------|---|---------------------|-----------|
| SUJET | CAP Tapissier Tapissière d'Ameublement en Siège | SESSION 2007 | Page 6/10 |
| Code 50 242 38 | EP1 : Analyse d'une situation professionnelle | Durée totale : 7h00 | Coef 4 |
| | Réalisation graphique | Durée : 3h00 | |

7. Cocher la case correspondant à « l'aplomb d'une garniture » ?



8. Dans quel cas fait-on un point de piquage « lame de couteau » ?

.....

9. Que signifie « l'entoilage d'un siège » ?

.....

.....

10. Pour la réalisation des sièges et décors de fenêtre, le tissu utilisé est un Mélange coton et polyester.

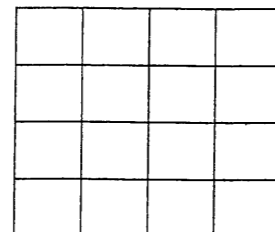
- Donner l'origine du coton :

.....


- Donner l'origine du polyester :

.....

11. Sur ce tableau, représenter l'armure sergé et encadrer le rapport d'armure (3 duites)



12. Repérer et indiquer les différents éléments du décor de fenêtre.



| |
|---------|
| 1 |
| 2 |
| 3 |
| 4 |
| 5 |
| 6 |

| | | | |
|----------------|---|---------------------|-----------|
| SUJET | CAP Tapissier Tapissière d'Ameublement en Siège | SESSION 2007 | Page 8/10 |
| Code 50 242 38 | EP1 : Analyse d'une situation professionnelle | Durée totale : 7h00 | Coef 4 |
| | Analyse technique et préparation | Durée : 2h30 | |

NE RIEN ECRIRE DANS CETTE PARTIE


13. Vous avez un tissu uni en 140 cm de large, lisières non comprises.
Vous devez recouvrir une paire de fauteuils Directoire.

Mesures de coupe :

Fond : (F) : Pr 75cm x larg 65cm
Dossier extérieur (DX) : Ht 50cm x larg 50cm
Dossier intérieur (DI) : Ht 65cm x larg 65cm
Manchette (M) : Ht 25cm x larg 15cm

- Calculer le métrage de tissu utile en cm, **pour 1 siège**, sur ce document.
- Etablir un plan de coupe détaillé ci-dessous (éch. 1/10).
- Tracer, nommer les abréviations et mesures des différents éléments

140cm




..... = métrage utile en cm pour un siège

14. A partir des mêmes éléments de la question 13 :

- Calculer le métrage de tissu utile en cm pour **1 paire de sièges**.
- Etablir un plan de coupe détaillé ci-dessous (éch. 1/10).
- Tracer, nommer les abréviations et mesures des différents éléments.

140 cm



..... = métrage tissu utile en cm

| SUJET | CAP Tapissier Tapissière d'Ameublement en Siège | SESSION 2007 | Page 9/10 |
|----------------|---|---------------------|-----------|
| Code 50 242 38 | EP1 : Analyse d'une situation professionnelle | Durée totale : 7h00 | Coef 4 |
| | Analyse technique et préparation | Durée : 2h30 | |

15. Que constatez-vous entre ces deux plans de coupe ou calculs de métrage?

.....

16. Pour compléter le décor, le décorateur souhaite réaliser des panneaux de tissu décoratifs, assortis aux sièges. Il vous demande de lui donner le métrage de tissu selon 2 cas.

1^{er} cas :

Vous avez une paire de panneaux décoratifs à réaliser dans un tissu uni en 130cm de large, lisières non comprises.

Vous utiliserez pour chaque panneau décoratif, 1 seul panneau de tissu.

Hauteur panneau = 265 cm.

- Calculer le nombre de panneau pour une paire de panneaux décoratifs :
 = panneaux
- Calculer le métrage total de tissu pour une paire de panneaux décoratifs :
 x =cm

2^{ème} cas :

Vous avez une paire de panneaux décoratifs à réaliser dans un tissu à motifs en 140cm de large, lisières non comprises.

Vous utiliserez pour chaque panneau, 1 seul panneau de tissu.

Hauteur panneau = 265 cm

Hauteur du raccord motif = 47 cm

- Calculer le nombre de raccords de motif sur un panneau :
 =
- Nombre de raccords =
- Hauteur panneau à raccords, à couper :
 = Cm
- Calculer le nombre de panneau pour une paire de panneaux décoratifs :
 = Panneau(x)
- Calculer le métrage de tissu utile pour une paire de panneaux décoratifs
 = cm

17. Vous devez livrer les sièges et les décors de fenêtre
 Donner 2 précautions à prendre pour :

- La livraison des sièges :

1.....

2.....

- Au sein de votre atelier , citez deux pictogrammes de sécurité :

1.....

2.....

- Précautions à prendre pour l'utilisation de la perceuse :

1.....

2.....

| | | | |
|----------------|---|---------------------|------------|
| SUJET | CAP Tapissier Tapissière d'Ameublement en Siège | SESSION 2007 | Page 10/10 |
| Code 50 242 38 | EP1 : Analyse d'une situation professionnelle | Durée totale : 7h00 | Coef 4 |
| | Analyse technique et préparation | Durée : 2h30 | |