


NE RIEN ECRIRE DANS CETTE PARTIE


QUESTION 3 :

Vous associez le piétement au dossier correspondant ; pour chacun des sièges ainsi reconstitué, vous indiquez le style.

Siège de style.....	Piétement A + dossier.....
Siège de style.....	Piétement B + dossier.....
Siège de style.....	Piétement C + dossier.....
Siège de style.....	Piétement D + dossier.....
Siège de style.....	Piétement E + dossier.....



1



2




3



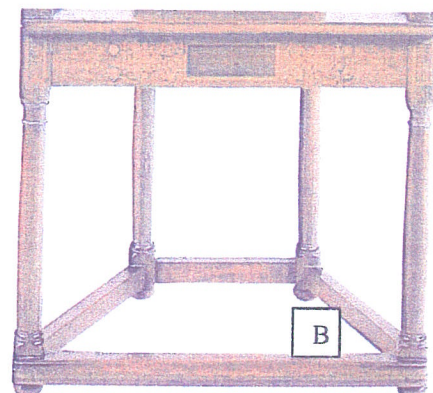
4




5




A




B



C



D



E

SUJET	CAP Tapissier Tapissière d'Ameublement en Siège	SESSION 2007	Page 3/10
Code 50 242 38	EP1 : Analyse d'une situation professionnelle	Durée totale : 7h00	Coef 4
	Analyse formelle et stylistique	Durée : 1h30	