

Ce sujet est présenté sous la forme d'un cahier réponse. Il vous appartient de le compléter et de le rendre, agrafé dans le coin inférieur gauche à l'intérieur d'une copie d'examen dont vous aurez rempli l'en-tête.

	Barème	Notation
Entreprise et vie professionnelle (questions n°1 à 4)	7 pts	
Environnement et consommation (questions n°5 à 8)	6 pts	
Santé (questions n°9 à 11)	7 pts	
<b>TOTAL</b>	20 points	
<b>Note sur 20 (en points entiers ou ½ points) :</b>		<b>/ 20</b>

Métropole – La Réunion - Mayotte		Session 2007		
<b>BEP TOUTES SPÉCIALITÉS</b>				
Vie sociale et professionnelle				
<b>SUJET</b>	Lundi 4 juin 2007 (11 h - 11 h 30).	Durée : 30 minutes	Coef. 1	1 / 6

Jonathan, titulaire du BEP Maintenance des Véhicules et des Matériels, est à la recherche d'un emploi dans la région de Nantes, ville dans laquelle il emménage.  
Pendant ses loisirs, il envisage de pratiquer une activité sportive au sein d'un club.

Jonathan consulte les offres d'emploi dans un journal local. Il repère quatre annonces :

Date : 12/05/07 offre n°1  
TECHNICIEN SUPERIEUR EN  
MAINTENANCE DE VEHICULES  
Entreprise de 150 salariés dans le  
secteur industriel  
Lieu : 44 Nantes  
Avoir moins de 26 ans  
Contrat d'apprentissage

Date : 2/05/ 2007 offre n°2  
MECANICIEN AUTOMOBILE  
Entreprise de 10 salariés  
Petite concession de marque  
française  
Lieu : 44 Nantes  
Accepté si Bac pro ou BEP  
Contrat : CDD de 6 mois

Date : 30/04/2007 offre n°3  
MECANICIEN AUTOMOBILE  
Entreprise de 25 salariés  
Secteur de l'automobile  
Lieu : 29 Brest  
Poste en mission intérim avec  
embauche possible en fin de mission  
BEP exigé

Date : 28/05/2007 offre n°4  
MECANICIEN QUALIFIE  
Entreprise de 40 salariés en pleine  
expansion  
Lieu : 44 Nantes et environs  
Expérience de deux ans exigée en  
plus du BEP

1. Choisir parmi celles-ci, l'annonce qui semble le mieux convenir à sa situation. Justifier la réponse par trois arguments.

Annonce choisie : .....

Justifications :

.....  
.....  
.....  
.....  
.....  
.....

BEP toutes spécialités	2007
Vie sociale et professionnelle	2 / 6

Document 1 :

DOPATIS Jonathan  
12 rue des vignes blanches  
Né le 20 mai 1989  
N° SS : 1890549007654

**FORMATION**

2006                      obtention du BEP Maintenance des Véhicules et des Matériels

**STAGES EN ENTREPRISE**

Juin 2005                      3 semaines chez Mobilauto-SA  
Février 2006                      2 semaines dans la concession Dépanneplus

**EMPLOIS SAISONNIERS**

Juillet 2005                      travaux agricoles : cueillette d'échalotes, castration de maïs  
dans l'entreprise familiale

**DIVERS**

Loisirs : aime regarder la télévision et flâner avec les copains

*JDOPATIS*

Après lecture du document 1, répondre aux questions :

2. Relever quatre points négatifs de ce C.V.

- .....  
- .....  
- .....  
- .....

3. Jonathan devra joindre un autre document à son C.V. Nommer ce document.

.....

<b>BEP toutes spécialités</b>	<b>2007</b>
Vie sociale et professionnelle	3 / 6

Jonathan espère un entretien d'embauche dans les prochains jours.

4. Lister quatre conseils pour réussir cet entretien d'embauche.

.....


.....

.....

.....

Jonathan s'installe dans un nouvel appartement. Il compare plusieurs propositions pour s'équiper d'un lave-linge. Voici trois modèles qu'il a retenus dans une publicité :

MODÈLE A




LIVRE 2023,76 €  
**399€<sup>99</sup>**

Programme stretch  
Touche "couleurs foncées"

**VELETTE VLF 5102**

Capacité variable auto. de 1 à 5 kg. 15 programmes dont rapide. Essorage jusqu'à 1000 tr/min. Thermostat réglable. Départ différé. Conso. : 46 litres / 0,95 kWh. **Énergie A+ / Lavage A / Essorage D.** L 59 x H 85 x P 55 cm.

MODÈLE B




LIVRE 3077,34 €  
**459€<sup>99</sup>**

Chargement facile  
hublot 30 cm

**FAURE FWG 3126**

Capacité variable auto. de 1 à 6 kg. 12 programmes électroniques. Essorage jusqu'à 1200 tr/min. Thermostat réglable. Départ différé. Conso. : 52 litres / 1,02 kWh. **Énergie A / Lavage A / Essorage B.** L 60 x H 85 x P 55,2 cm.

MODÈLE C



LIVRE 4328,25 €  
**659€<sup>99</sup>**

Programmes rapides  
Signal sonore de fin cycle

**BOSCH WAE 24460 FF**

Capacité variable auto. de 1 à 6,5 kg. Sélecteur monocommande. Essorage jusqu'à 1200 tr/min. Départ différé. affichage écran. Conso. : 49 litres / 1,1 kWh. **Énergie A / Lavage A / Essorage B.** L 60 x H 85,2 x P 59 cm. Existe sans départ différé : WAE 24160 FF à 559,99 €

Source : Publicité « Extra électroménager image et son »

5. Sensible au respect de l'environnement, indiquer deux critères qui vont guider son choix.

.....

.....

<b>BEP toutes spécialités</b>	<b>2007</b>
<b>Vie sociale et professionnelle</b>	<b>4 / 6</b>

6. Parmi les trois modèles proposés dans la publicité, indiquer le modèle à conseiller à Jonathan en fonction de sa situation personnelle (deux arguments attendus).

Modèle conseillé : .....

Arguments :

.....

.....

.....

**Jonathan reçoit sa facture d'électricité :**

**votre facture en détail** *document à conserver 5 ans*

Votre référence client  
12411 193 655 335 405.

Réf. Point de livraison : 124 567293699 36

	relevé ou estimation en kWh			consom. (en kWh)	prix kWh en euros	montant HT en euros	taxes locales	TVA	total TTC en euros
	ancien	nouveau	différence						
<b>électricité</b> compteur n° 245						(1) 46,67	4,47	7,67	58,81
abonnement						15,26			
7,63€ /mois du 12/09/06 au 12/11/06									
consommation HC du 17/07/06 au 13/09/06	09071	09285	214	214	* 0,0454	9,72			
28 jours à 0,0450€ + 28 jours à 0,0458€									
soit un prix moyen de 0,0454€									
consommation HP du 17/07/06 au 13/09/06	12727	13008	281	281	* 0,0772	21,69			
28 jours à 0,0765€ + 28 jours à 0,0778€									
soit un prix moyen de 0,0772€									

(1) y compris le coût d'acheminement de l'électricité pour 48% (% moyen pour le Tarif Bleu)

7. Relever la somme qu'il doit payer.

.....

8. Citer quatre gestes de la vie quotidienne pour réduire sa consommation d'électricité.

.....

.....

.....

Pendant ses loisirs, il envisage de pratiquer une activité sportive au sein d'un club. Pour s'inscrire dans ce club, Jonathan doit fournir un certificat médical. Il prend alors rendez-vous chez le médecin.

9. Citer deux bienfaits de l'activité physique.

.....

.....

BEP toutes spécialités	2007
Vie sociale et professionnelle	5 / 6





10. Indiquer le rôle du certificat médical.

.....

.....

Jonathan profite de ce rendez-vous pour demander des conseils de nutrition ; son médecin lui a remis un tract élaboré dans le cadre du PNNS (Programme National Nutrition Santé) dont voici un extrait :

11. Identifier les constituants alimentaires et justifier chaque conseil donné dans ce document en complétant le tableau ci-dessous :

CONSEILS	JUSTIFICATIONS
<p><b>Fruits et légumes</b></p> 	<p>- <u>Constituants alimentaires</u> :</p> <p>- .....</p> <p>- .....</p> <p>- <u>Justifications du conseil</u> :</p> <p>- .....</p> <p>- .....</p>
<p><b>Lait et produits laitiers (yaourts, fromages)</b></p> 	<p>- <u>Constituants alimentaires</u> :</p> <p>- .....</p> <p>- .....</p> <p>- <u>Justification du conseil</u> :</p> <p>- .....</p>
<p><b>Matières grasses ajoutées</b></p> 	<p>- <u>Constituant alimentaire</u> :</p> <p>- .....</p> <p>- <u>Justifications du conseil</u> :</p> <p>- .....</p> <p>- .....</p>
<p><b>Produits sucrés</b></p> 	<p>- <u>Constituant alimentaire</u> :</p> <p>- .....</p> <p>- <u>Justifications du conseil</u> :</p> <p>- .....</p> <p>- .....</p>

Source : Ministère de la Santé et des Solidarités et INPES (Institut National de Prévention et d'Education pour la Santé)