

BTS ÉCONOMIE SOCIALE ET FAMILIALE

TECHNIQUES D'HABILLEMENT ET D'AMÉNAGEMENT DE L'ESPACE

SESSION 2008

Durée : 5 heures
Coefficient : 5

Matériel autorisé :

Toutes les calculatrices de poche y compris les calculatrices programmables, alphanumériques ou à écran graphique à condition que leur fonctionnement soit autonome et qu'il ne soit pas fait usage d'imprimante. (Circulaire 99-186 du 16/11/1999).

Nota : L'ensemble des documents réponses doivent être agrafés au bas de la copie.

Dès que le sujet vous est remis, assurez-vous qu'il est complet.
Le sujet comporte 13 pages, numérotées de 1/10 à 10/10.

Le service d'accompagnement s'occupe d'adultes handicapés mentaux ayant une autonomie suffisante pour leur permettre de vivre en appartement avec un suivi social.

Le service vient d'acquiescer un appartement.

Les travailleurs sociaux souhaitent le mettre à disposition de trois usagers de ce service afin qu'ils vivent en colocation. Chacune des chambres sera aménagée avec le mobilier des usagers.

En tant que technicien(ne) ESF, vous travaillez au sein de cette structure, il vous est demandé de faire un projet autour de cet appartement.

1. Aménagement

1.1 A partir du plan en Annexe 1, élaborer l'analyse fonctionnelle de cet appartement sur feuille de copie.

1.2 Proposer un aménagement des pièces communes à l'exception de la salle de bain sur l'Annexe 1, à l'aide de l'Annexe 3.

Complétez la nomenclature en Annexe 2. Les découpages sont autorisés.

2. Communication

La colocation implique un certain nombre de règles de savoir-vivre, pas toujours évidentes pour tout le monde, c'est pourquoi une série de pictogrammes va être créée. On vous demande de proposer ceux qui seront installés dans la salle de bain.

Vous trouverez en Annexe 4 des exemples de pictogrammes, graphismes différents, sources d'inspiration et, en Annexe 5, des photos d'objets dont vous pourrez vous inspirer pour créer les pictogrammes de la salle de bain.

2.1 En vous aidant de la liste de conseils ci-dessous, proposez sur l'Annexe 6, 4 recherches pour vos pictogrammes sous forme de croquis rapides. Vous vous attacherez à varier les styles graphiques utilisés.

2.2 Finalisez une proposition et justifiez vos choix graphiques en précisant les situations des pictogrammes dans la pièce (Annexe 6).

Vos réalisations seront rendues en couleur et/ou en noir et blanc.

Liste de conseils :

- vider la baignoire
- éviter les éclaboussures
- fermer le robinet
- ranger vos produits de toilette
- sécher votre linge de toilette
- éteindre la lumière

3. Vide-poche

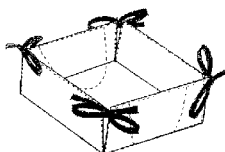
Vous animez également un atelier couture avec le public. Les colocataires souhaitent réaliser un vide-poche (Annexes 7 et 8). Afin de répondre à leur demande :

3.1 Réaliser le patronnage du demi vide-poche.

3.2 Réaliser le demi vide-poche sans insérer ni fabriquer les liens.

3.3 Pour la réalisation du vide-poche entier, il est indispensable de prévoir une ouverture pour retourner.

Vous devez situer précisément cette ouverture sur le schéma de l'Annexe 8.



DOCUMENTS REMIS AU CANDIDAT :

Sujet	1 exemplaire
Annexe 1 : Plan de l'appartement	2 exemplaires
Annexe 2 : Nomenclature	1 exemplaire
Annexe 3 : Banque de données du mobilier	1 exemplaire
Annexe 4 : Exemple de pictogrammes	1 exemplaire
Annexe 5 : Photos d'objets de salle de bain	1 exemplaire
Annexe 6 : Réalisation du pictogramme	2 exemplaires
Annexe 7 : Dessin technique du vide-poche	1 exemplaire
Annexe 8 : Croquis du vide-poche	2 exemplaires

DOCUMENTS A RENDRE PAR LE CANDIDAT :

- Feuille de copie
- Nomenclature complétée (Annexe 2)
- Proposition d'aménagement (Annexe 1)
- Support de communication (Annexe 6)
- Patronnage du demi vide-poche
- Réalisation
- Croquis du vide-poche complété (Annexe 8)

Barème :

Question 1 : 6 points

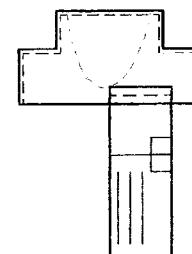
Question 2 : 7 points

Question 3 : 7 points

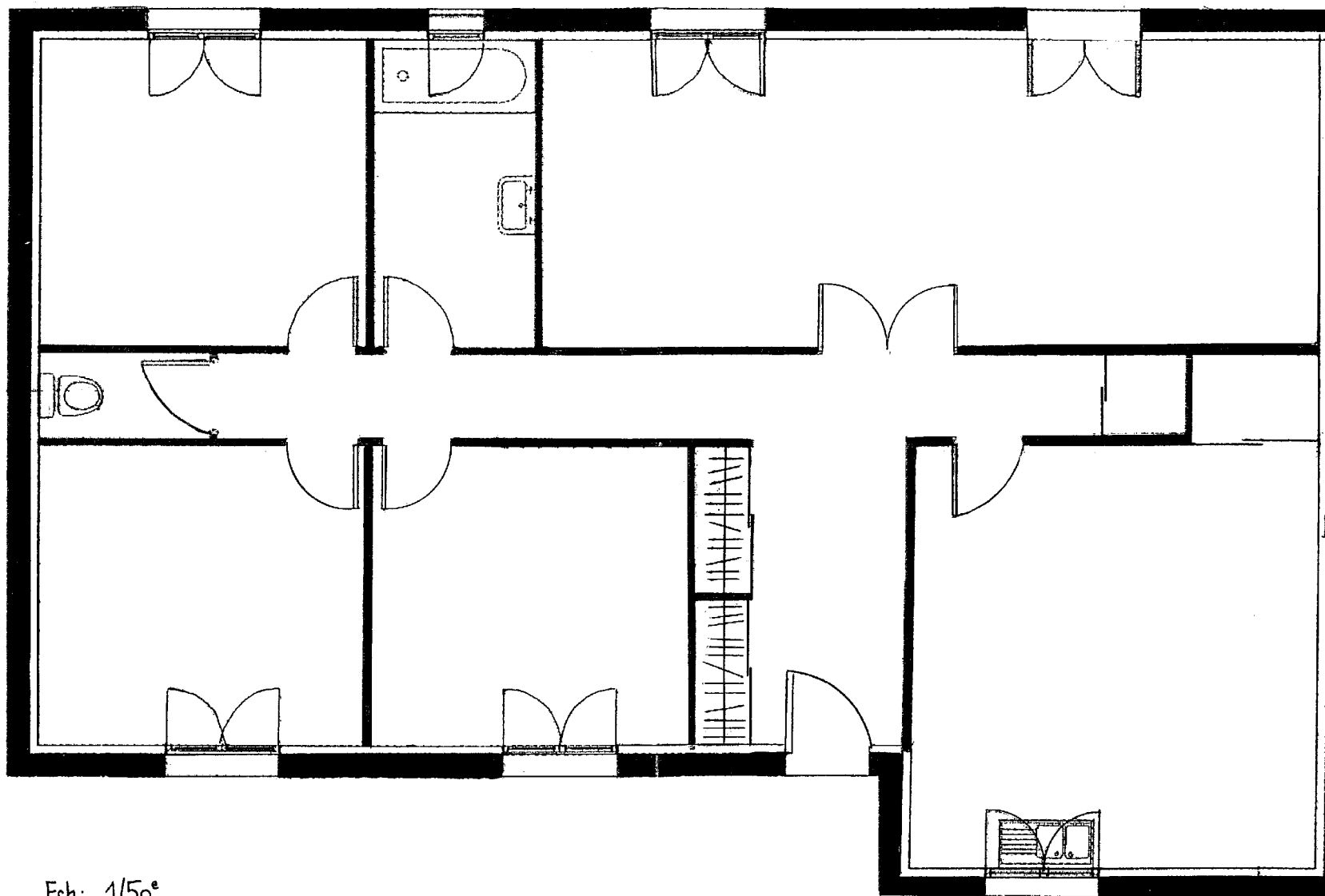
Étiquette d'anonymat à découper et à coudre sur la réalisation

Notes	
	N° d'inscription :
	NOM :
	Prénoms :

Coudre l'étiquette d'anonymat de la façon suivante :

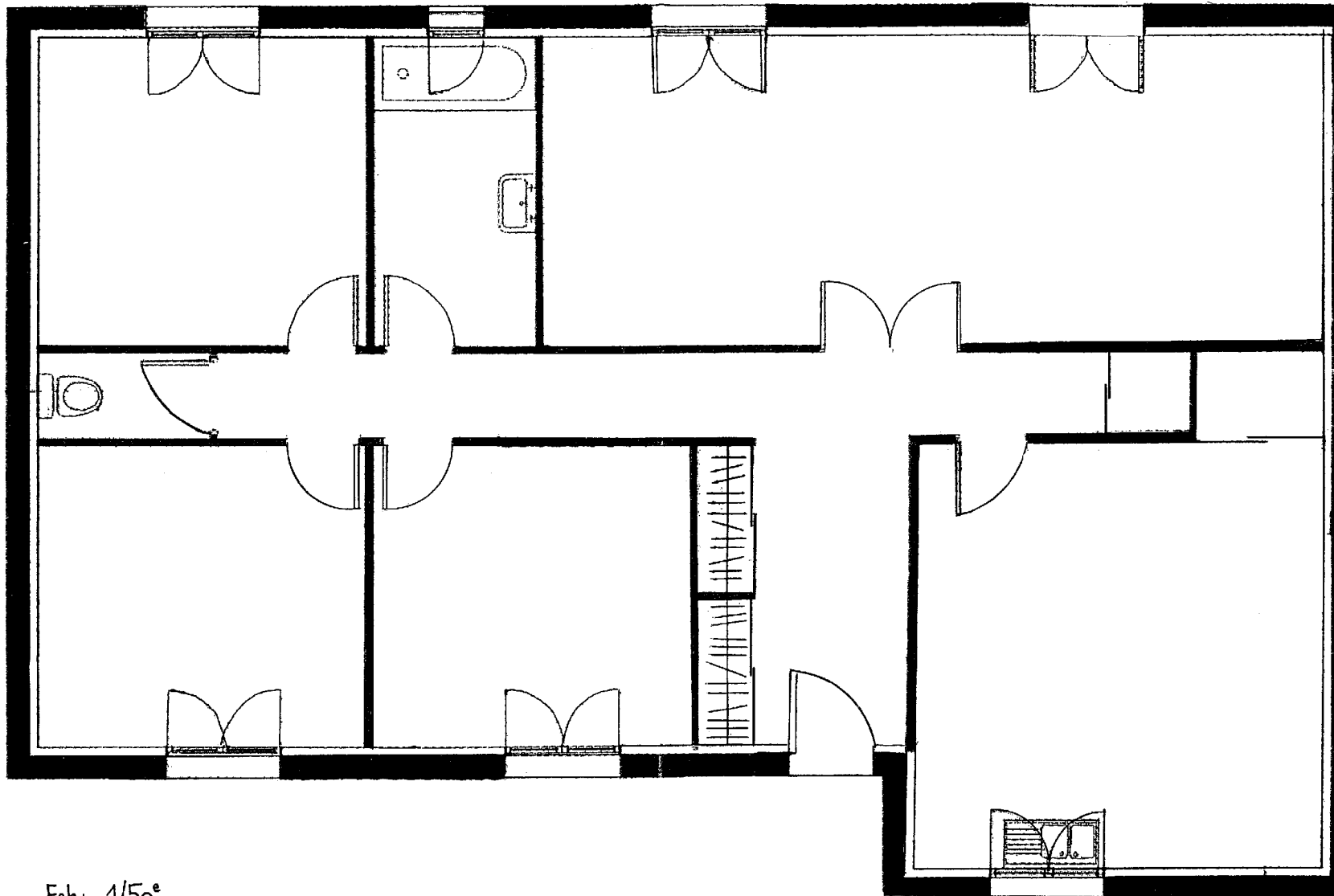


Plan de l'appartement du centre ville



Ech: 1/50^e
H^t sous allège : 1,00m

Plan de l'appartement du centre ville



Ech: 1/50^e
H^t sous allège : 1,00 m

ANNEXE 2 : NOMENCLATURE

Repère	Désignation

ANNEXE 3



PLAQUE CUISSON
2 FEUX
40 x 60 CM



PLAQUE CUISSON
4 FEUX
60 x 60 CM



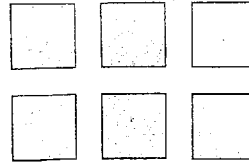
REFRIGERATEUR
60 x 60 CM
HAUTEUR
160 CM



LAVE-VAISSELLE
45 x 60 CM
HAUTEUR
85 CM



LAVE-VAISSELLE
60 x 60 CM
HAUTEUR
85 CM



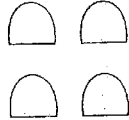
PLACARDS CUISINE
60 x 60 CM
HAUTEUR
85 CM



LAVE-LINGE
45 x 60 CM
HAUTEUR
85 CM



LAVE-LINGE
60 x 60 CM
HAUTEUR
85 CM



CHAISES



MEUBLES HAUTS
60 x 37 CM




TABLE RECTANGULAIRE
4 PLACES
125 x 90 CM




TABLE RONDE 6 PLACES
Ø 120 CM

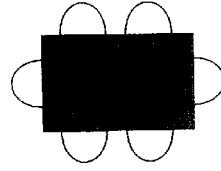


TABLE RECTANGULAIRE 6 PLACES
147 x 90 CM





TABLE RECTANGULAIRE 8 PLACES
200 x 90 CM



BUFFET 2 PORTES
100 x 45 CM
HAUTEUR
85 CM



BUFFET 2 PORTES
130 x 45 CM
HAUTEUR
85 CM



BUFFET 3 PORTES
160 x 45 CM
HAUTEUR
85 CM

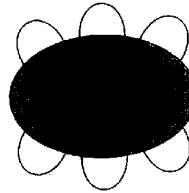


TABLE OVALE 6 PLACES
180 x 115 CM



CANAPÉ 2 PLACES
120 x 90 CM



CANAPÉ 3 PLACES
180 x 80 CM



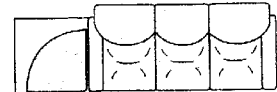
TELEVISEUR
55 x 35 CM



BIBLIOTHEQUE
60 x 25 CM



FAUTEUILS
80 x 80 CM



CANAPÉ D'ANGLE
4 PLACES
260 x 160 CM





MEUBLE D'ANGLE
60 x 60 CM
HAUTEUR
85 CM










TABLE BASSE
120 x 60 CM





Exemples de pictogrammes : différents graphismes




Quelques objets de la salle de bain




Recherches



Annexe 6







Finalisation




Justifications des choix graphiques et mise en place des pictogrammes


Recherches



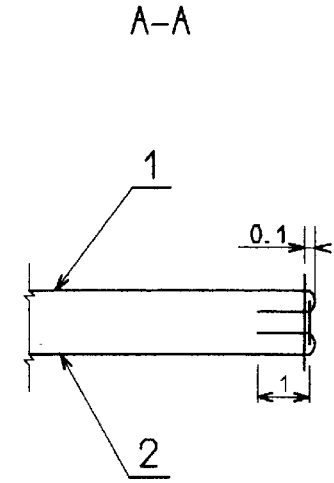
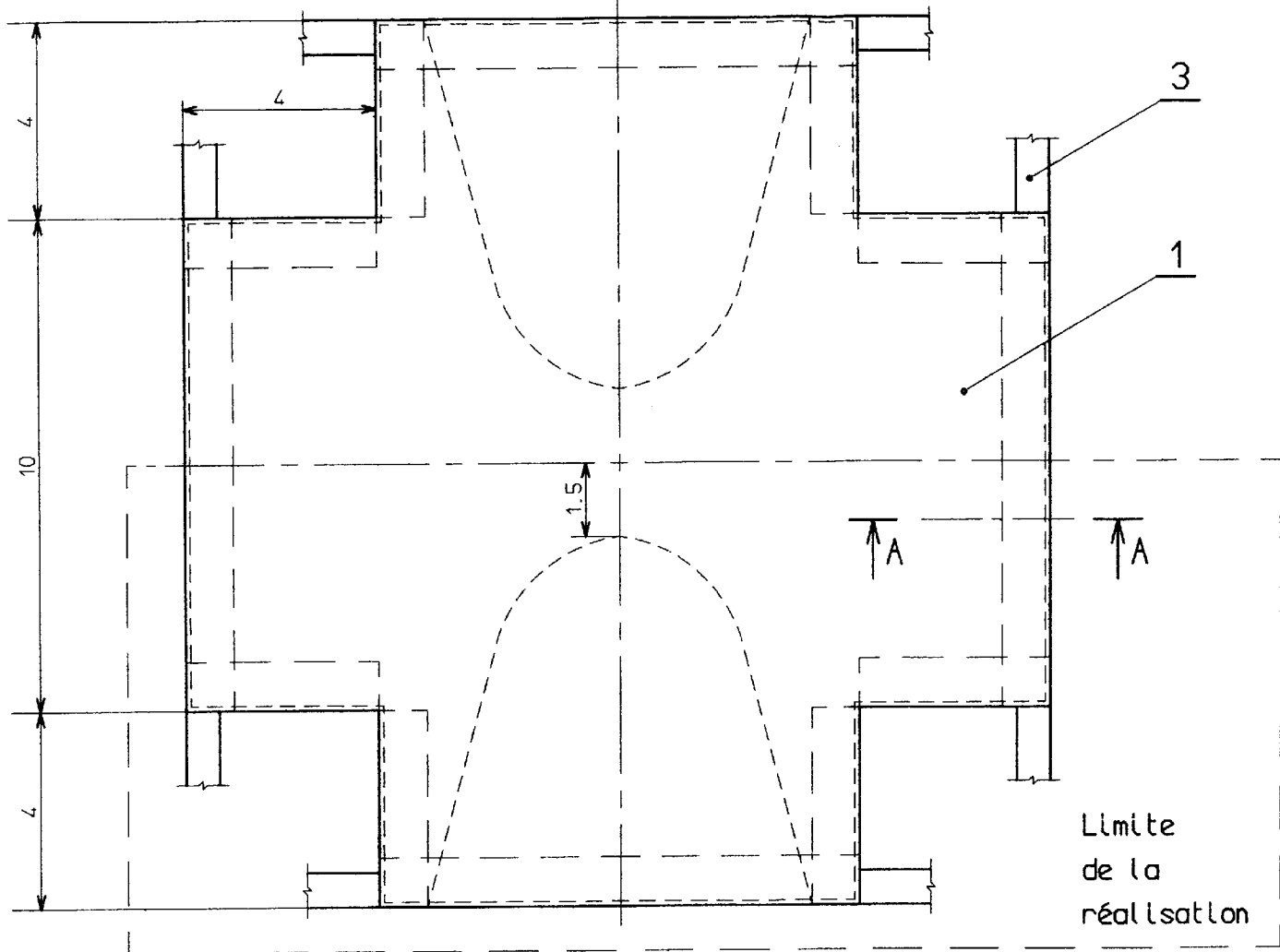
Annexe 6



Finalisation



Justifications des choix graphiques et mise en place des pictogrammes

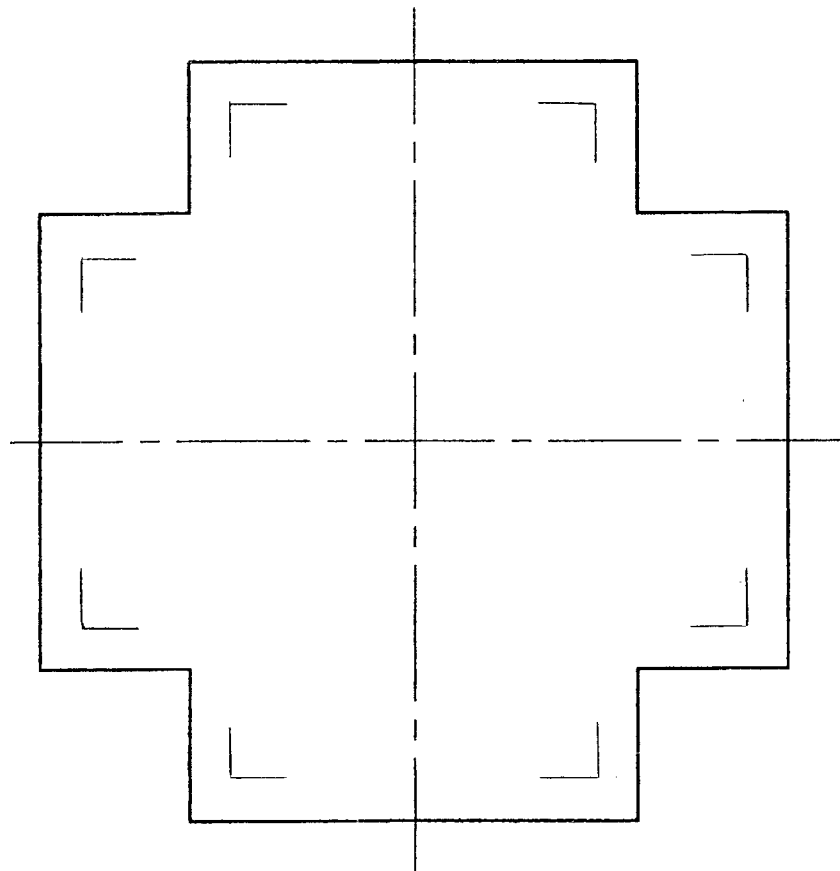


3	8	Llens	Coton	
2	1	Face Intérieure	Coton	
1	1	Face extérieure	Coton	
Rp	Nb	DESIGNATION	MATIERE	OBSERVATION

ECHELLE :		VIDE POCHE		
1:1				
		A3		

Représentation du vide poche à l'échelle 1:2

permettant de situer l'ouverture du coulissage



Représentation du vide poche à l'échelle 1:2

permettant de situer l'ouverture du coulissage

