

Examen : BREVETS PROFESSIONNELS TERTIAIRES	Session Normal Printemps 2008
Épreuve : Expression française et ouverture sur le monde	Durée : 3 heures Coefficient : 3

Spécialités de brevets professionnels
Administration des fonctions publiques
Agent technique de prévention et de sécurité
Agent technique de sécurité dans les transports
Banque
Barman
Boucher
Boulangier
Bureautique
Charcutier traiteur
Coiffure
Cuisinier
Esthétique cosmétique parfumerie
Fleuriste
Gouvernante
Libraire
Maintenance des articles textiles option pressing
Préparateur en pharmacie
Restaurant
Sommelier
Vêtement sur mesure

MATÉRIEL AUTORISÉ :

Calculatrice de poche à fonctionnement autonome sans imprimante et sans dispositif de communication externe (circulaire n° 99-186 du 19/11/99)

AUCUN DOCUMENT AUTORISÉ

TOUTES LES RÉPONSES DOIVENT ÊTRE RÉDIGÉES

L'Afrique, un continent en réserve de développement ?

Document 1a : Ecole de rue bénévole à Dakar (Sénégal)



Au Sénégal, un enfant sur deux n'est pas régulièrement scolarisé. A. Mbaye, ancien matelot, est devenu enseignant de rue.

Source : Manuel Histoire-géographie, Baccalauréat professionnel, Hachette technique, 2005.

Document 1b : Indicateurs de développement pour quelques pays africains (2006-2007)

Pays	I.D.H. ¹	P.N.B par habitant (en dollars)	Taux de mortalité infantile (en ‰)	Espérance de vie à la naissance (en années)	Prévalence ² du VIH/SIDA (en % de la population adulte)
Algérie	0,733	3030	29	73	0.1
Afrique du Sud	0,674	5390	59	42	20.1
Maroc	0,646	1900	40	71	0.1
Cameroun	0,532	1080	67	51	11.2
Zimbabwe	0,513	2100	51	39	33.7
Rwanda	0,452	220	87	47	8.9
Nigeria	0,470	640	97	47	5.5
Côte d'Ivoire	0,432	870	89	49	9.7
Mali	0,380	440	107	49	2.7
Niger	0,374	260	118	43	0.7
Moyenne mondiale	0,743	7227,3	54,70	68,4	0,8

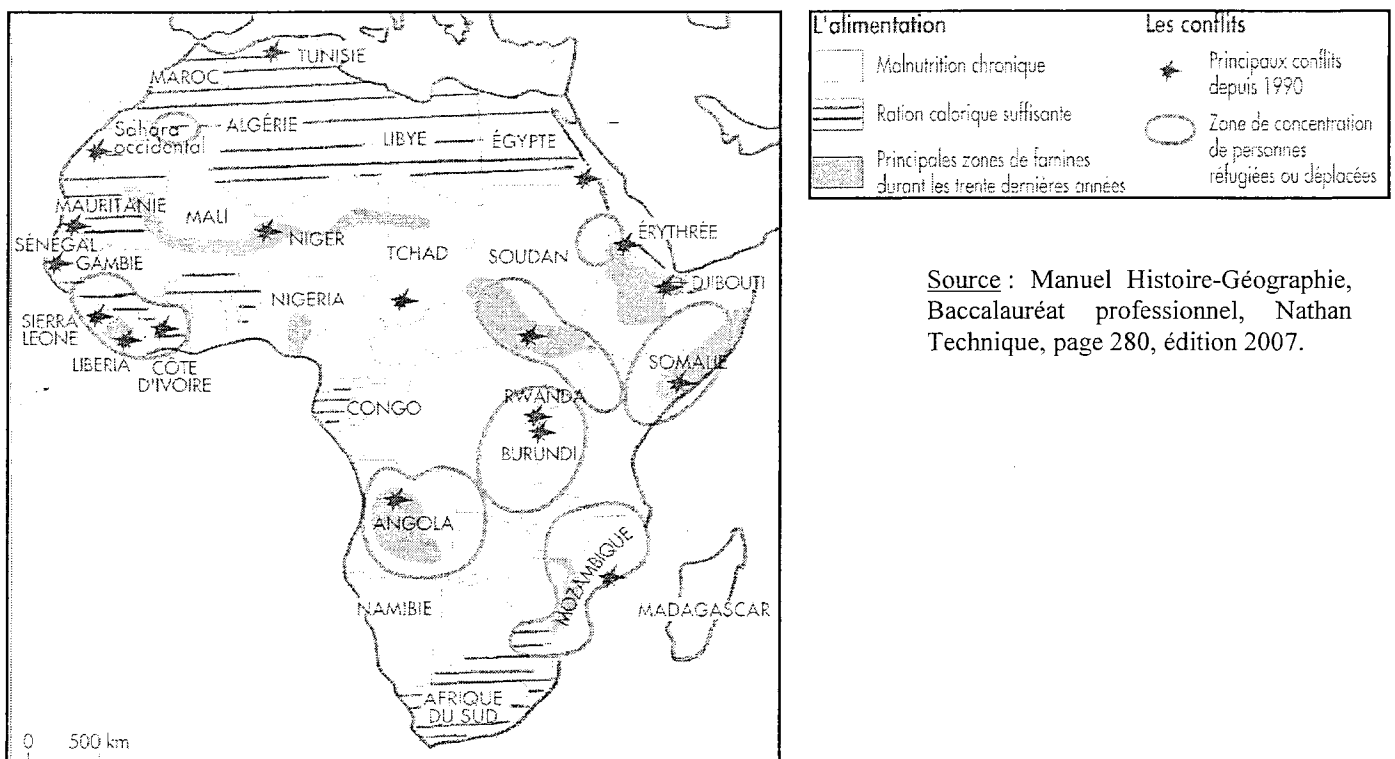
1. L'Indicateur de Développement Humain, ou I.D.H., a comme objectif d'essayer de mesurer le niveau de développement des pays, sans en rester simplement à leur poids économique mesuré par le P.I.B. ou le P.I.B. par habitant. C'est un indicateur qui fait la moyenne de trois séries de données :

- L'espérance de vie à la naissance (qui donne une idée de l'état sanitaire de la population du pays)
- le niveau d'instruction mesuré par la durée moyenne de scolarisation et le taux d'alphabétisation
- le P.I.B.

2. Prévalence du VIH/SIDA : pourcentage de personnes, âgées de 15 à 49 ans, vivant avec le VIH.

Source : D'après des données statistiques des Nations unies (2006-2007).

Document 1c : Les maux de l'Afrique



Source : Manuel Histoire-Géographie, Baccalauréat professionnel, Nathan Technique, page 280, édition 2007.

Document 1d : Situation au Kenya - déclaration de M. Bernard Kouchner ¹ (31 janvier 2008)

« Nous sommes très inquiets des violences qui continuent de secouer le Kenya, font de nombreuses victimes et portent le nombre des déplacés à 290 000 dans un contexte humanitaire très préoccupant. Des actes barbares sont commis ; des populations civiles sont tuées dans des conditions atroces. Des femmes et des enfants sont violés. Deux députés de l'opposition ont également été tués.

Nous redoutons que ces dérives ne fassent sombrer le Kenya dans un conflit meurtrier de caractère ethnique.

A l'origine de la crise actuelle, se trouve l'immense déception du peuple kenyan face à un résultat électoral entaché d'irrégularités. La solution est politique et doit être rapide. Les deux parties en présence sont maintenant face à une responsabilité historique : choisir la voie du dialogue ou porter la responsabilité d'une catastrophe politique et humaine.

La France renouvelle sa confiance à M. Kofi Annan² pour qu'il poursuive sa médiation. Elle renouvelle également son soutien aux efforts de l'Union africaine et du Secrétaire général des Nations unies pour mettre fin aux violences et trouver une solution politique à la crise.

Au nom de la responsabilité de protéger, il est urgent de venir en aide aux populations du Kenya. Le Conseil de Sécurité des Nations unies doit se saisir de cette question et agir. »

1. Bernard Kouchner : depuis le 18 mai 2007, il est ministre français des Affaires étrangères et européennes.
2. Kofi Annan : ancien secrétaire général des Nations unies.

Source : www.diplomatie.gouv.fr

DÉVELOPPEMENT

Une croissance durable s'installe dans plusieurs pays d'Afrique

Un rapport présenté hier par l'OCDE montre que la croissance économique touche également le continent africain

Pour la troisième année consécutive, la croissance économique africaine a été de l'ordre de 5 % en 2005. C'est le constat présenté hier par l'Organisation pour la coopération et le développement économiques (OCDE) dans un rapport qui passe en revue de manière très complète une trentaine de pays du continent. Cette croissance pourrait être « durable » : l'inflation est en effet contenue en deçà de 10 % ; les investissements sont en nette progression dans la majorité des pays ; le revenu par tête a augmenté de 3 % l'année dernière, la croissance économique étant plus forte que la croissance démographique ; enfin, les prix des matières premières devraient rester soutenus ces deux prochaines années.

Bien sûr, le développement ne va pas de manière homogène. Les rapporteurs de l'OCDE posent la question d'un « continent à deux vitesses », avec les pays profitant de l'embellie des matières premières, notamment du pétrole, et ceux qui subissent cette hausse des cours mondiaux.

Concernant les pays pétroliers, Nicolas Pinaud, l'un des auteurs de l'enquête, note qu'il y a une chance historique à saisir pour des pays comme l'Angola, qui a doublé sa production pétrolière en quinze ans, ou des nouveaux entrants comme la Mauritanie et le Tchad. Sous réserve




Plate-forme pétrolière au Tchad. Certains pays africains profitent pleinement de l'embellie des matières premières.

que ces pays utilisent rationnellement cette manne.

Si l'Angola, le Tchad ou le Congo ont des progrès à effectuer en matière de transparence, le Nigeria ou l'Algérie sont salués pour le lancement de vastes projets d'infrastructures. « En Afrique, nous constatons

que les infrastructures de transport ont été négligées, par les bailleurs de fonds notamment, au profit des infrastructures sociales, concernant l'éducation ou la santé. Or, les routes et la voie ferrée permettront de désenclaver l'Afrique », explique Lucia Wegner, autre rédactrice du rapport.

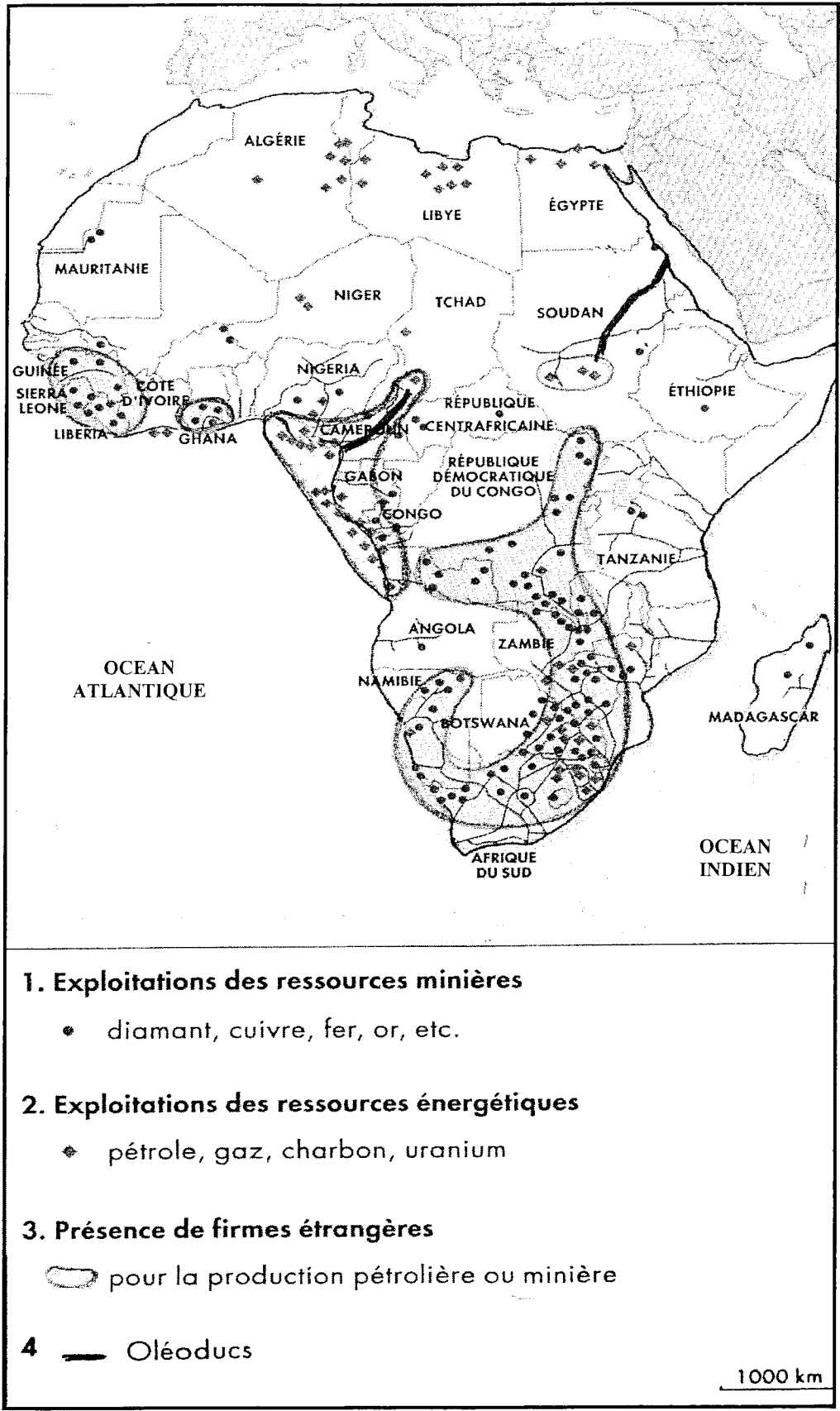
Moyennant quoi, certains « Objectifs du millénaire » sont en passe d'être atteints par des pays africains, y compris ceux qui ne sont pas producteurs de pétrole. « Au Ghana, le nombre des personnes qui souffrent de la faim a été divisé par deux. Le Mali est en bonne voie sur cet objec-

tif. Onze pays ont également réduit de 40 % leur taux de mortalité infantile », souligne Lucia Wegner. Elle constate que les pays non producteurs de pétrole ont été en mesure de soutenir la pression de la hausse des cours. Soutient grâce à la production d'autres matières premières ou de produits agricoles. Des pays comme le Burkina Faso ou le Mali, aidés par des conditions climatiques favorables et une bonne politique économique et fiscale, affichent des résultats satisfaisants en termes de croissance.

L'argent seul ne suffit pas pour conduire ces pays dans leur développement. « Le rôle de l'état reste crucial pour l'aménagement du territoire et la fixation de règles claires afin d'attirer le secteur privé. »


« Malgré l'accroissement des guerres encore présentes dans certaines régions de l'Afrique, nous observons des progrès réels concernant l'ouverture et la stabilité politique. Les évolutions sont plus positives que ce que l'on a tendance à croire », résume Lucia Wegner.

PIERRE COCHEZ



Source : Manuel Histoire-Géographie, Baccalauréat professionnel, Nathan Technique, page 280, édition 2007

Document 3 b : La mondialisation sans le développement



Source : Dessin de Dobritz , paru dans le journal *Le Figaro*, le 17 juillet 2003.

Document 4 : L'Afrique du Sud, première puissance du continent

En l'espace de dix ans, l'Afrique du Sud est passée du statut honni¹ de pays de l'apartheid, mis au ban de la communauté internationale avec son « développement séparé » assignant aux populations de couleur des ghettos loin des villes blanches, à celui de « nation arc-en-ciel », mêlant une population issue de trois origines, européenne, africaine et asiatique : sur la population d'environ 45 millions de personnes, les trois quarts se considèrent comme Noirs, le dixième Blanc, presque autant Métis, et moins de 3% Asiatiques.

Après les élections de 1994, qui ont permis aux Noirs de reprendre le pouvoir, le pays réintègre le Commonwealth et les Nations unies, et entre pour la première fois dans l'Organisation de l'Unité africaine (aujourd'hui Union africaine), où son président Thabo Mbeki joue un rôle-clef, à l'image de son prestigieux prédécesseur, Nelson Mandela. Cette réintégration d'un pays paria² dans l'espace politique africain lui a permis de conquérir économiquement le continent, dont il est la première puissance et la locomotive : les entreprises sud-africaines sont partout présentes, et elles ne se cantonnent pas à leur domaine de prédilection initial, les mines. Transport ferroviaire, électricité, banque, bière, construction, emballage..., l'Afrique du Sud est devenue le premier investisseur d'un continent longtemps boudé par le reste du monde en raison de son insécurité. Alors que 4% seulement des exportations sud-africaines étaient destinées au continent africain, ce chiffre atteint désormais près du quart. Eskom, géant sud-africain de l'électricité (et quatrième groupe mondial) fournit la moitié de l'électricité africaine ! Cette compagnie nationale sud-africaine est aujourd'hui engagée dans la construction de la plus puissante centrale hydroélectrique d'Afrique, au Congo, Inga III. L'empreinte publicitaire des sociétés de téléphone MTN et Vodaphone est partout présente, y compris dans les campagnes, sur un marché en forte croissance.

Les privatisations qui ont accompagné la crise de la dette ont permis aux entreprises sud-africaines de faire une entrée en force sur le continent, où leurs produits sont plus adaptés aux besoins des consommateurs africains que ceux de leurs concurrentes occidentales. Elles savent comment travailler dans l'insécurité juridique et les difficultés inhérentes au continent africain, qui découragent tant d'investisseurs occidentaux, et leur retour sur investissement est plus élevé qu'ailleurs, tant les besoins à satisfaire sont nombreux : il faut assurer la reconstruction des pays dévastés par la "décennie du chaos", mais extraordinairement riches en ressources pétrolières et minières, tels la RDC (République démocratique du Congo), le Soudan, et surtout l'Angola. Au point que certains pays s'inquiètent de la puissance montante de ce nouveau géant "impérialiste". Ainsi, la compagnie de distribution Shoprite, dont les supermarchés sont présents du nord au sud du continent, est accusée de tuer le petit commerce local et d'exploiter sa main d'œuvre. [...]

1. Honni : exécré, méprisé.
2. Pays paria : pays tenu à l'écart, méprisé de tous.

Source : Extrait d'un article de S. Brunel, La Documentation Photographique n° 8048, *L'Afrique dans la mondialisation*.

KENYA - OFFICE DE TOURISME DU KENYA

Mission d'Interface Tourism : **Représentation marketing et RP globale en France et Suisse romande**

**UNE EMOTION NOUVELLE
CHAQUE JOUR**



Une émotion nouvelle chaque jour



Jeunes filles massaïes

TELECHARGEZ ZOOM



Zèbres de Grevy

TELECHARGEZ ZOOM



Safari en montgolfière

TELECHARGEZ ZOOM

Destination mythique où **savanes, volcans, forêts, lacs, déserts, hauts sommets** sont le **merveilleux théâtre de la vie sauvage...** Extraordinaire "arche de Noé", abritant la **plus forte concentration d'espèces animales différentes au monde...** Grandes plages de sable blanc et récifs de corail parmi les plus beaux de l'Océan Indien... **Melting-pot culturel** où plus de **40 ethnies** ont préservé leurs traditions du monde moderne... **Le Kenya est un véritable concentré d'Afrique !**

Les passionnés d'observation animalière ou encore d'ethnologie, mais aussi les trekkers, les golfeurs, les plongeurs, et même les amateurs de pêche au gros trouveront dans cet **extraordinaire pays de l'Est africain** des possibilités de voyages pour toutes les envies et tous les budgets. Plus d'une centaine de tour-opérateurs emmènent tous les voyageurs en **quête du rêve africain**, grâce à un accès aérien quotidien au départ de Paris, Genève et des grandes villes de province.

En 2006, plus de **50 200 français** se sont ainsi rendus au **Kenya**, ce qui représente une augmentation de 21,3% de la fréquentation par rapport à 2005. 20 ans après la sortie du film d'anthologie Out of Africa en France, le **Kenya** a conservé tous ses **charmes naturels** et continue d'éblouir la scène touristique et de conquérir le cœur des Français !

Vous souhaitez **plus d'informations** sur la destination et vous avez besoin de documentation : brochures, photos libres de droit, dossiers de presse... nous sommes à votre disposition pour vous les faire parvenir !

L'Afrique, un continent en réserve de développement ?

Document 1a (3 points)

1. Quelles difficultés ce document illustre-t-il ? (2 pts)
2. Comment la population s'adapte-t-elle à cette situation ? (1 pt)

Documents 1a, 1b et 1c, 1d (6 points)

3. En vous appuyant sur les informations fournies par ces documents, identifiez les principaux problèmes qui touchent le continent africain. Vous justifierez vos réponses par des exemples choisis dans les différents documents. (5 pts)
4. Quelle image de l'Afrique est renvoyée par ces documents ? (1 pt)

Document 2 (9 points)

5. A quels détails de mise en page identifiez-vous un article de presse ? (2 pts)
6. Quel est le fait d'actualité qui a motivé l'écriture de cet article ? (1 pt)
7. Pourquoi certains passages de cet article sont-ils écrits en italique ? (1 pt)
8. Quelle est la fonction de la photographie ? (1 pt)
9. A quel(s) type(s) de texte appartient cet article (narratif, argumentatif, informatif, polémique ...) ? Justifiez votre réponse. (2 pts)
10. En quoi cet article permet-il de nuancer l'image de l'Afrique présentée par les documents 1a, 1b, 1c et 1d? Justifiez votre réponse. (2 pts)

Document 3a (5 points)

11.
 - a. Citez trois pays d'Afrique qui, d'après cette carte, peuvent exploiter eux-mêmes leurs ressources énergétiques. (1 pt)
 - b. Localisez les régions du continent dans lesquelles les productions pétrolières ou minières sont sous le contrôle des firmes étrangères ? (2 pts)
12. Parmi les trois titres ci-dessous, choisissez celui qui vous semble le mieux illustrer cette carte. Justifiez votre choix. (2 pts)
 - *Les ressources naturelles du continent africain.*
 - *La mise en valeur des ressources naturelles en Afrique.*
 - *L'exploitation de l'Afrique par les firmes étrangères.*

Document 3b (4 points)

13. En vous appuyant sur des éléments précis du dessin, expliquez et justifiez son titre, « *La mondialisation sans le développement* ». (3 pts)
14. Quel est le point commun entre ce dessin et le document précédent ? (1 pt)

Document 4 (7 points)

15. Quelles raisons historiques expliquent la réintégration de l'Afrique du Sud dans la communauté internationale ? (1,5 pt)
16. Citez quatre éléments qui font de l'Afrique du Sud la "première puissance et la locomotive" du continent africain. (2 pts)
17. Pourquoi les entreprises sud-africaines sont-elles les mieux à même de répondre aux besoins du continent africain ? (1,5 pt)
18. Justifiez l'expression "*nouveau géant "impérialiste"*" utilisée par Sylvie Brunel pour qualifier l'Afrique du Sud. (2 pts)

Document 5 (6 points)

19. Quel est l'enjeu de ce document ? Justifiez votre réponse (3 justifications attendues). (2 pts)
20. Nommez et relevez deux procédés de style utilisés dans le premier paragraphe puis expliquez-les. (3,5 pts)
21. Sur quelle activité repose le développement économique du Kenya ? (0,5 pt)

Documents 1a, 1b, 1c, 2, 3a, 3b, 4, 5 et 6 (4 points)

22. Expliquez le titre du dossier, **L'Afrique, un continent en réserve de développement ? (4 pts)**

Compétence d'écriture (16 points)

Deux associés d'une entreprise française souhaitent investir à l'étranger et s'interrogent sur le potentiel du continent africain. Ils ont un avis différent sur ce dernier : l'un pense que ce continent est toujours en marge ; l'autre estime, au contraire, que c'est le moment de s'y implanter. Chacun développe son point de vue à l'aide d'arguments et d'exemples précis.

Rédigez leur conversation au discours direct dans un texte organisé d'une trentaine de lignes.

Vous utiliserez vos connaissances ainsi que les informations contenues dans les documents étudiés.