

Académie : _____ Session : _____

Examen : _____ Série : _____

Spécialité/option : _____ Repère de l'épreuve : _____

Epreuve/sous épreuve : _____

NOM : _____

(en majuscule, suivi s'il y a lieu, du nom d'épouse)

Prénoms : _____

Né(e) le : _____ N° du candidat _____

(le numéro est celui qui figure sur la convocation ou liste d'appel)

Appréciation du correcteur

Note :

Il est interdit aux candidats de signer leur composition ou d'y mettre un signe quelconque pouvant indiquer sa provenance.

Noël

A l'occasion de la fête de Noël, votre région commande une série de pièces en chocolat originales aux artisans chocolatiers exerçant sur son territoire. Vous devez concevoir une de ces pièces et la présenter sous forme de dessin sur la page 3/3.

Inspirez vous de tout ou d'une partie des illustrations présentées en page 2/3. L'ensemble de la composition doit être équilibré.

Vous traduisez le volume par le dessin des ombres et de la lumière.

Vous représenterez et différencierez les chocolats (blanc, au lait et noir) par la couleur.

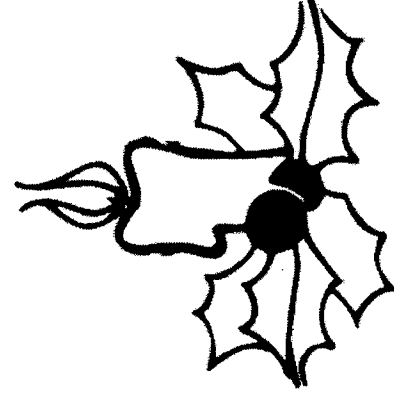




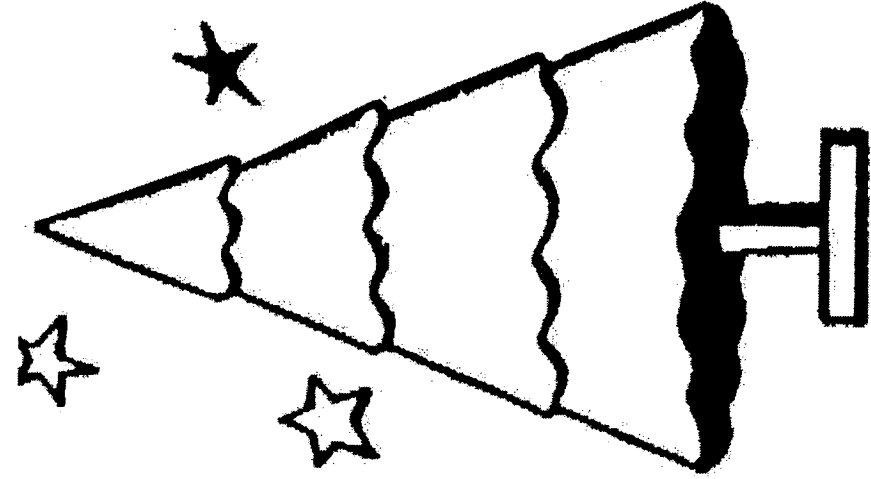
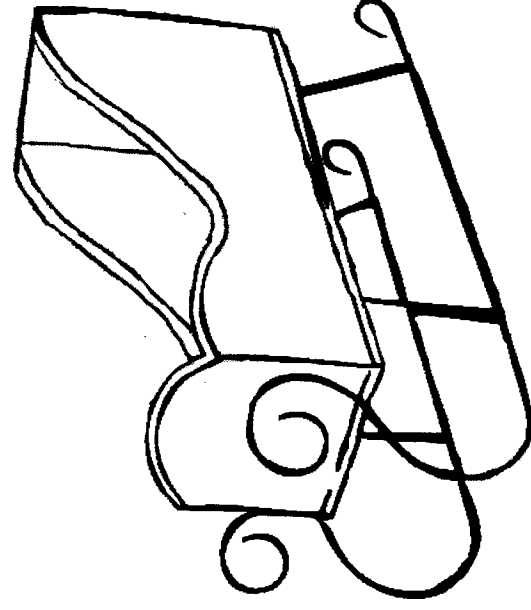

Cette pièce commerciale de 400 g environ sera réalisée dans la deuxième partie de l'épreuve EP2, vous utiliserez les techniques professionnelles du métier de chocolatier (moulage, gabarit, pochoir, cornet, etc.)

Critères d'évaluation :

- Equilibre de la composition
- Créativité
- Harmonie colorée
- Traduction des volumes et rendu des formes
- Soin et qualité graphique

EXAMEN : CAP CHOCOLATIER CONFISEUR		
EPREUVE : EP2 DESSIN D'ART	DUREE : 1h00	TOTAL EP2 : 14 points
SESSION 2008	CODE : 50 221 33	Page 1/3

NE RIEN ECRIRE DANS CETTE PARTIE



EXAMEN : CAP CHOCOLATIER CONFISEUR

EPREUVE : EP2 DESSIN D'ART

DUREE : 1h00

TOTAL EP2 : 14 points

SESSION 2008

CODE : 50 221 33

Page 2/3

NE RIEN ECRIRE DANS CETTE PARTIE

EXAMEN : CAP CHOCOLATIER CONFISEUR		
EPREUVE : EP2 DESSIN D'ART	DUREE : 1h00	TOTAL EP2 : 14 points
SESSION 2008	CODE : 50 221 33	Page 3/3