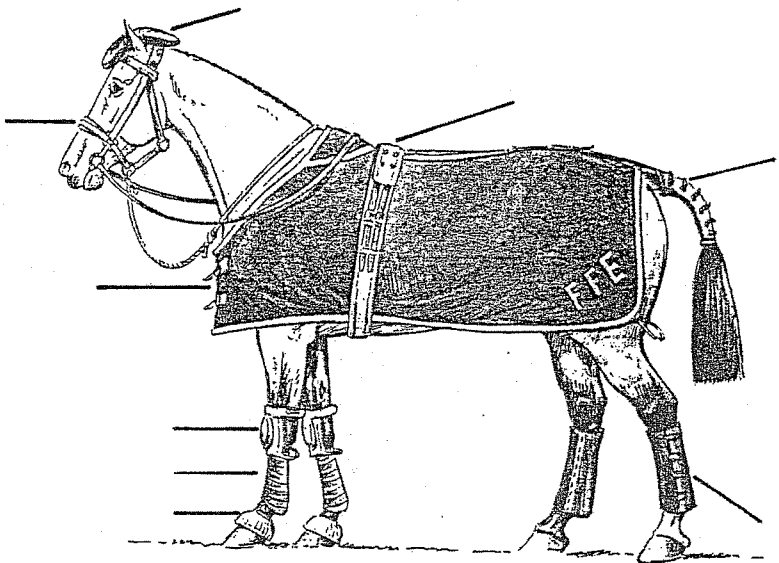


Académie :	Session :
Examen :	Série :
Spécialité/option :	Repère de l'épreuve :
Epreuve/sous épreuve :	
NOM :	
<small>(en majuscule, suivi s'il y a lieu, du nom d'épouse)</small>	
Prénoms :	n° du candidat
Né(e) le :	<input type="text"/>
<small>(le numéro est celui qui figure sur la convocation ou liste d'appel)</small>	

DANS CE CADRE

NE RIEN ECRIRE

1. Les chevaux doivent être protégés pendant leur transport. Sur le dessin, indiquez le nom des différentes protections.



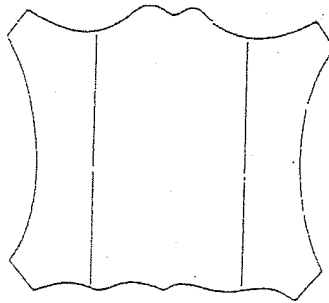
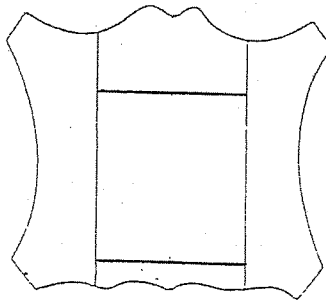
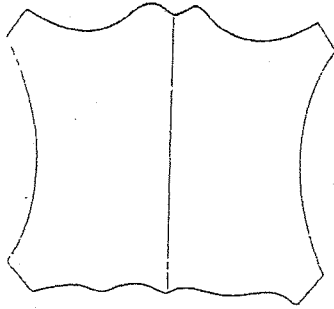
2. En harnachement, une museronne française se différencie d'une museronne allemande au niveau de l'embouchure (mors). Quelle est la caractéristique de ses deux museronnes ?

3. Sur une selle qu'appelle-t-on une rainette ?

4. Comment se compose une sangle portefeuille ?

NE RIEN ECRIRE DANS CETTE PARTIE

5. Les peaux de grandes tailles (exemple : la vache) peuvent être débitées en plusieurs parties pour la vente, c'est le crouponnage. Plusieurs découpes sont possibles. Placez sur les croquis le nom des différentes parties.



6. L'alliage de cuivre et de zinc est le plus utilisé dans la fabrication de bouclerie pour la sellerie et l'harnachement. Quel est le nom de cet alliage ?

7. En sellerie harnachement, dans quel but emploi-t-on une rainette ? (1 point)

NE RIEN ECRIRE DANS CETTE PARTIE

8. Sur les lieux de travail, les panneaux ronds signifient une obligation :
- quelles sont les couleurs des fonds et des pictogrammes ?
 - indiquez sous chaque panneaux de quelle obligation il s'agit?

