

Vous devez répondre sur le sujet et le rendre entier, en fin d'épreuve, agrafé dans une copie anonymée modèle E.N.

BOTANIQUE : 10 points

Etude de la fleur de Gloriosa



Question 1 :

Annoter le schéma suivant. (2 points)

- A
- B
- C
- D

Question 2 : Citer et définir le mode de pollinisation qui s'applique à ce végétal. (1 point)

Mode de pollinisation :

.....

Définition :

.....

Question 3 : Ce végétal possède les organes mâles et femelles. Comment qualifier:

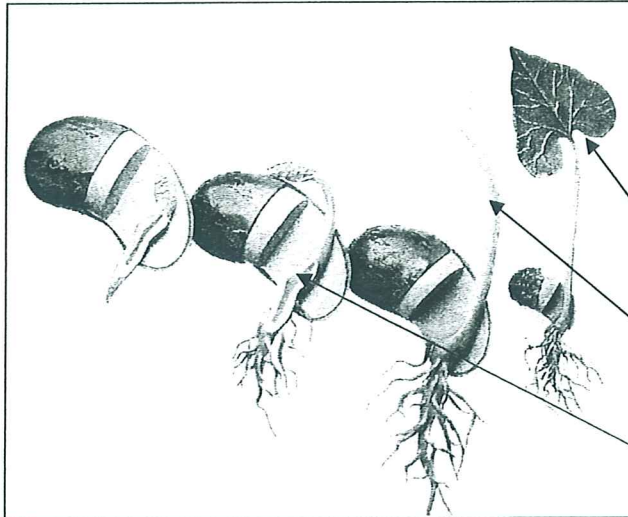
La fleur (0,25 point) :

La plante (0,25 point) :

C.A.P. FLEURISTE	Code : 50 31218	Session 2008
Epreuve : EP1 Technologie-Botanique Reconnaissance des végétaux	Durée : 1 H45	Page 1 sur 5

Etude d'une graine

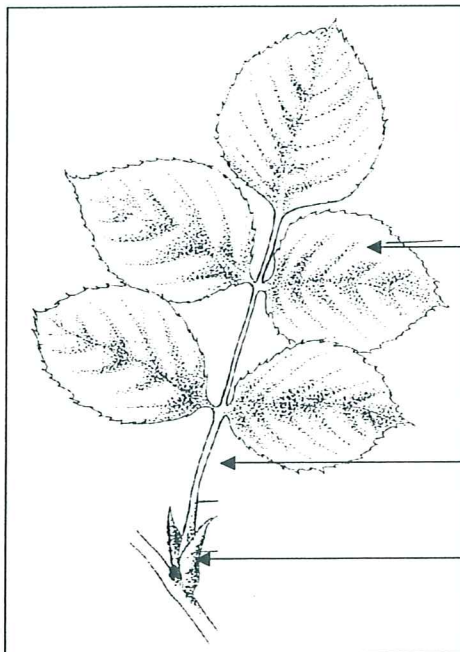
Question 1 : Citer la phase de croissance représentée sur le schéma ci-dessous. (0,25 point)



Question 2 : Annoter les trois parties identifiées A, B et C sur le schéma ci-contre (1,5 point)

A
 B
 C

Etude d'une feuille



Question 1 : À quel végétal appartient cette feuille ? (0,25 point)

Question 2 : Annoter les différentes parties identifiées sur le schéma ci-contre (1,5 point)

A
 B
 C

Question 3 : Citer et expliquer les phénomènes qui se déroulent au niveau de la feuille. (2 points)

.....

C.A.P. FLEURISTE	Code : 50 31218	Session 2008
Epreuve : EP1 Technologie-Botanique Reconnaissance des végétaux	Durée : 1 H45	Page 2 sur 5

TECHNOLOGIE : 10 points

Question 1

Afin de préparer les diverses commandes pour le festival "Acrobates, sons et lumières" votre maître d'apprentissage vous demande de réaliser la mise à l'eau des végétaux à utiliser.

A - Quelle est la procédure à suivre au moment de l'arrivage ? (0,5 point)

.....
.....
.....
.....

B - Quelles précautions faut-il prendre pour mettre à l'eau :

Le gloriosa (0,5 point):.....
.....
.....

La rose (0,5 point):.....
.....

Le gerbera (0,5 point):.....
.....

Question 2

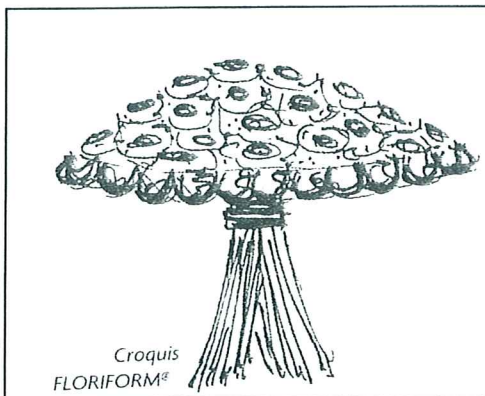


Schéma A




Schéma B

C.A.P. FLEURISTE	Code : 50 31218	Session 2008
Epreuve : EP1 Technologie-Botanique Reconnaissance des végétaux	Durée : 1 H45	Page 3 sur 5

A l'aide de vos connaissances et après observation des schémas A et B de la page précédente, remplir le tableau suivant : (4 points)

	Désignation du produit	Style	Deux précautions à prendre pour la réalisation.
Schéma A			- -
Schéma B			- -

Question 3

Vous avez inscrit dans le tableau ci-dessus, l'un des trois styles utilisés en art floral. Citer et donner la définition des deux autres. (4x 0,5point)

.....

Question 4

Définir les matériaux suivants et expliquer leur utilisation dans notre métier. (6x 0,25 point)

	Définition	Utilisation
Floratape		
Fil de coton		
Colle à froid		

Question 5

La présentation d'un fil de fer est souvent ainsi : fil en 5/40 ou 2/30.
Expliquer ce que signifient ces deux chiffres. (2x 0,25 point)

.....
.....
.....
.....

Question 6

Donner la définition des termes suivants : (2x 0,5 point)

- Moussage :

.....
.....
.....
.....

-Verdurage :

.....
.....
.....

Prévention des accidents

Question 7

Quels sont les deux principaux gestes à faire après une brûlure au pistolet à colle ? (1 point)

.....
.....
.....
.....

C.A.P. FLEURISTE	Code : 50 31218	Session 2008
Epreuve : EP1 Technologie-Botanique Reconnaissance des végétaux	Durée : 1 H45	Page 5 sur 5