

**DOSSIER JURY**  
**DOCUMENTS D'AIDE À L'ENTRETIEN**

**CAP FLEURISTE**

**EP2 VENTE-CONSEIL / ENTRETIENS**

**DOSSIER 6**

**Connaissance de l'environnement économique, juridique et social  
des activités professionnelles**

## DOSSIER 6

### CONNAITRE L'ENVIRONNEMENT ECONOMIQUE, JURIDIQUE ET SOCIAL DES ACTIVITES PROFESSIONNELLES

#### SUJET 1 – Environnement économique

##### I. Les objectifs économiques et sociaux de l'entreprise


###### Document 1

1. Identifier la source de ce document.
2. Nommer l'entreprise dont il est question.
3. Préciser son activité.
4. Quel est le projet de cette entreprise ?
5. Préciser l'objectif économique principal visé par cette entreprise.
6. Montrer le rôle social que jouera indirectement cette entreprise à l'issue de son projet.

###### Documents 2 et 3

1. Préciser quelles informations sont contenues dans ces graphiques.
2. Nommer l'agent économique susceptible d'être intéressé par ces données.
3. Lequel des produits mentionnés dans les documents est le plus consommé au Royaume-Uni ?
4. Quelle est la position de la France par rapport au Royaume-Uni pour ce même produit ?
5. Relever les deux pays qui, par habitant ont la plus forte consommation de fleurs ainsi que les deux pays qui ont la plus faible consommation de plantes.
6. À partir des documents 2 et 3, montrer les raisons qui ont motivé Monceau Fleurs à s'implanter au Royaume-Uni.

## Document 1



### Monceau Fleurs investit le Royaume-Uni

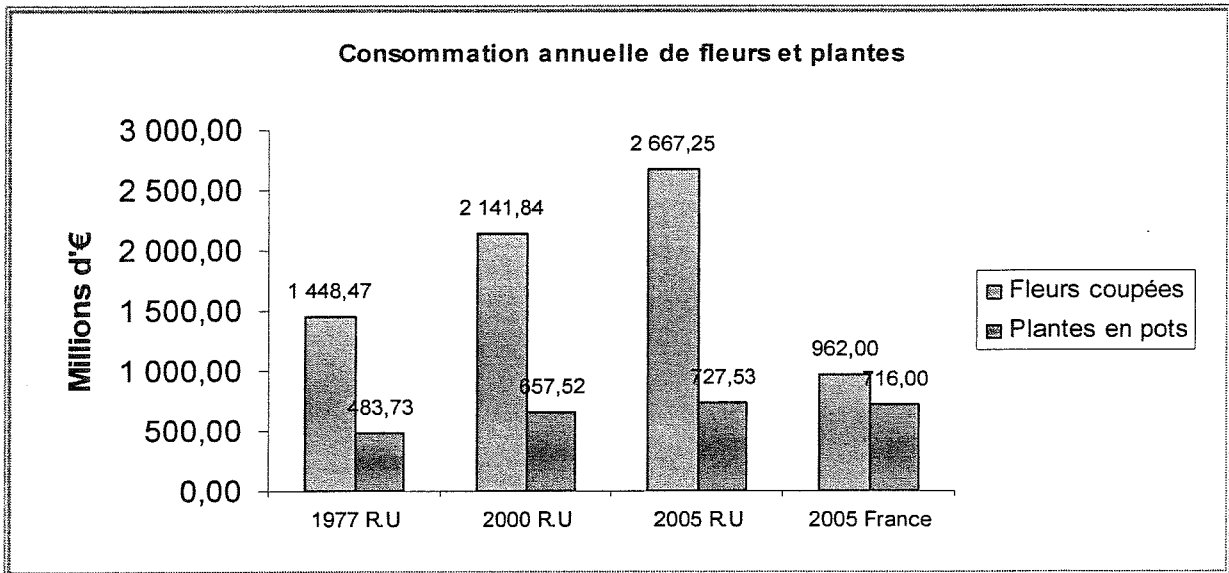
Avec 60 millions d'habitants et une population active qui frôle 30 millions, l'Angleterre est un pays présentant une très forte dynamique économique. Le temps de travail réduit et les salaires en augmentation offrent plus de temps libre et de pouvoir d'achat. Avec 7 millions d'habitants, Londres, de loin la plus grande ville de Grande-Bretagne présente un fort potentiel de développement. Dans ce contexte, Monceau Fleurs a choisi cette capitale pour implanter son concept.

#### Quelques chiffres

Le potentiel de développement de l'enseigne dans les 5 années à venir est d'une cinquantaine de magasins. Le chiffre d'affaires par point de vente est évalué à + 40% et la rentabilité est estimée entre + 5 et 10% par rapport à la moyenne des fleuristes traditionnels anglais.

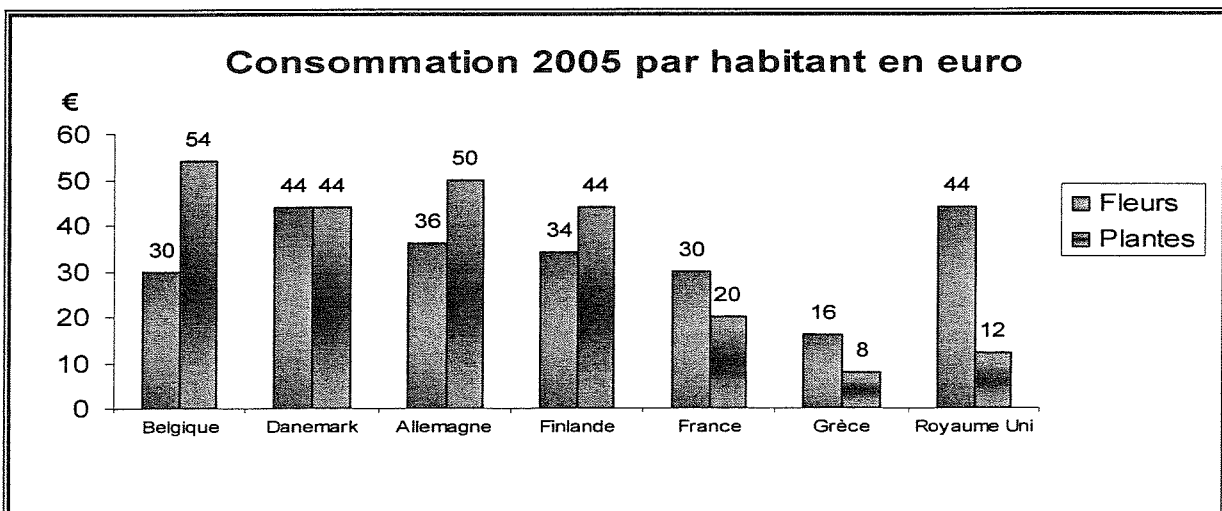
Dossier de presse septembre 2007 <http://www.franchise-net.fr/FR/Dernieresnouvelles>

## Document 2



Source : OHF / Groupement Interprofessionnel des Horticulteurs

## Document 3



Source : OHF / Groupement Interprofessionnel des Horticulteurs

## SUJET 1 – Environnement juridique et social

### II. Le Parlement

Document 4

1. Citer les deux chambres constitutives du Parlement.
2. Nommer le pouvoir que ces chambres exercent.
3. Définir ce qu'est une « proposition de loi ».
4. Nommer la personnalité qui est à l'origine de la proposition de loi présentée dans ce document.
5. Nommer la chambre parlementaire où siège cette personnalité.
6. Préciser l'objectif de cette proposition de loi.

### III. La protection sociale

Document 5

1. Indiquer ce que représente ce document.
2. Citer les trois caisses nationales de la Sécurité sociale
3. Préciser le rôle joué par la C.P.A.M.
4. En tant que salarié, indiquez les caisses avec lesquelles vous êtes en relation.
5. Préciser le rôle de l'URSSAF
6. Comment est-il financé ?
7. Nommer d'autres organismes de protection sociale.

N° 3065

**ASSEMBLÉE NATIONALE**  
 CONSTITUTION DU 4 OCTOBRE 1958  
 DOUZIÈME LÉGISLATURE  
 Enregistré à la Présidence de l'Assemblée nationale le 3 mai 2006.

**PROPOSITION DE LOI**

*visant à lutter contre le chômage  
 et à favoriser la cohésion sociale,*

(Renvoyée à la commission des affaires culturelles, familiales et sociales,  
 à défaut de constitution d'une commission spéciale dans les délais  
 prévus par les articles 30 et 31 du Règlement.)

PRÉSENTÉE  
 par M. Michel HUNAULT  
 Député.

