


SUJET BREVET PROFESSIONNEL
SERRURERIE- METALLERIE
SESSION 2008

Prénom : _____
Nom : _____

N° de candidat : _____

DOSSIER REPONSE

1. Visualisation de la construction



ON DONNE :

- Un dossier technique avec coupes et détail de l'ouvrage.
- Un catalogue fournisseur.

ON DEMANDE :

- D'étudier la pose d'une serrure.

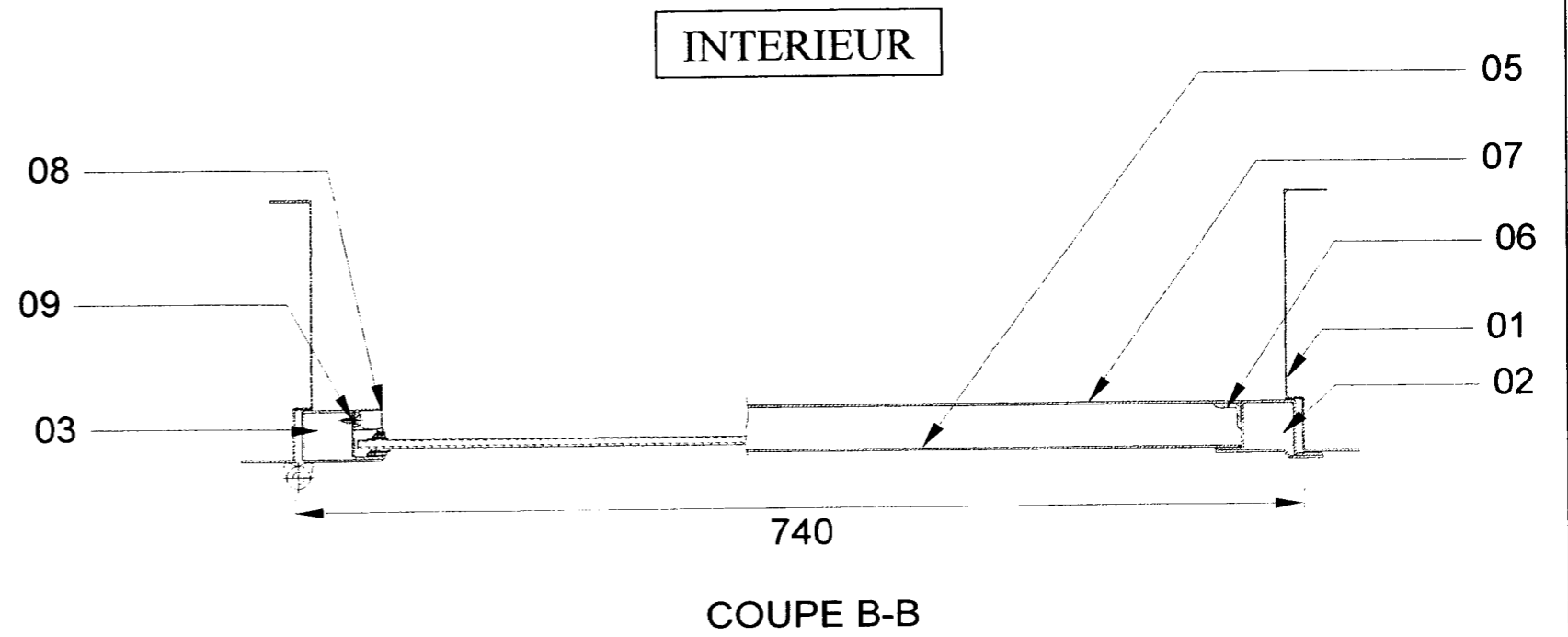
	PORTE	Epreuve : E3
Ech:		durée 4h00
	B.P. SERRURERIE METALLERIE	session 2008
	<u>PARTIE ECRITE 0H30MIN</u>	DR 1/4

1/ En vue de la pose d'une serrure encastrer vous devez déterminer le sens et la main de celle-ci.

Entourer la bonne réponse

SENS : **poussant** **tirant**
MAIN : **gauche** **droite**

NOTE : /2



Détail coupe B-B sans échelle.

2/ Choix et étude de la pose de la serrure.

Vous devez commander la serrure pour la porte, le client souhaite avoir une serrure 3 point sans que cela influe sur l'esthétique de la porte.

A vous de définir parmi le catalogue (doc technique) quelle serrure est la mieux adaptée pour répondre aux critères du client et sans avoir à modifier quoi que ce soit sur la porte.

Type de la serrure choisie : _____

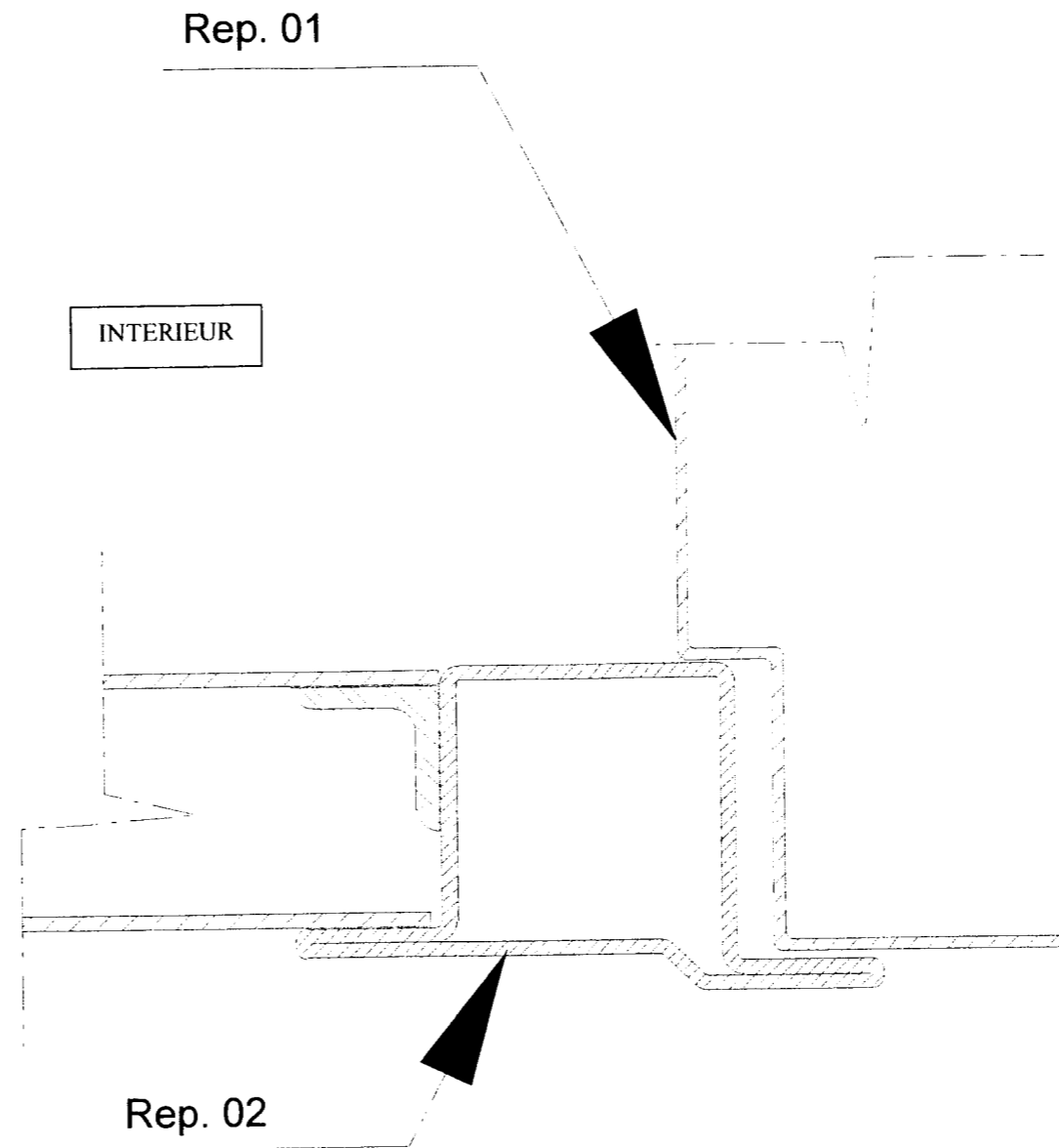
Côte entraxe cylindre : _____

NOTE : /4

	PORTE	Epreuve : E3
Ech:		durée 4h00
	B.P. SERRURERIE METALLERIE	session 2008
	<u>PARTIE ECRITE 0H30MIN</u>	DR 2/4

3/ En fonction de la serrure que vous avez choisi, dessinez sur le détail ci-dessous l'emplacement de celle-ci ainsi que les entraxes du cylindre et le(s) trou(s) de poignée.

Dessin à l'échelle 1:1



NOTE : /4

	PORTE	Epreuve : E3
Ech:		durée 4h00
	B.P. SERRURERIE METALLERIE	session 2008
	<u>PARTIE ECRITE 0H30MIN</u>	DR 3/4

Barème de correction :

EXERCICE 1	/2
EXERCICE 2	/4
EXERCICE 3	/4
TOTAL	/10

	PORTE	Epreuve : E3
Ech:		durée 4h00
	B.P. SERRURERIE METALLERIE	session 2008
	<u>PARTIE ECRITE 0H30MIN</u>	DR 4/4