



SERVICES CULTURE ÉDITIONS
RESSOURCES POUR
L'ÉDUCATION NATIONALE

**Ce document a été numérisé par le CRDP de Caen pour la
Base Nationale des Sujets d'Examens de l'enseignement professionnel**

Ce fichier numérique ne peut être reproduit, représenté, adapté ou traduit sans autorisation.

TEST THÉORIQUE

(Chariots des catégories 1, 3 et 5)

Vous répondez aux questions en cochant la (ou les) case(s) correspondant à la (ou aux) bonne(s) réponse(s) : **certaines questions nécessitent de cocher plusieurs cases pour être considérées comme correctes.** Seules les réponses totalement exactes seront prises en compte.

1 - Combien de catégories de chariots la recommandation CNAMTS R.389 prévoit-elle ?3 catégories 5 catégories 6 catégories 9 catégories **2 - Que signifie le sigle CHSCT ?**Comité d'Hygiène, de Sécurité et des Chariots Thermiques Comité d'Hygiène, de Secourisme et des Conditions de Travail Comité d'Hygiène, de Sanitaires et des Conditions de Travail Comité d'Hygiène, de Sécurité et des Conditions de Travail **3 - Quel est le rôle des organismes ou des instances de prévention ?**

Médecine du Travail	A	
	B	X
	C	
CRAM	A	X
	B	
	C	
CHSCT	A	
	B	
	C	X

A

Préconise toute mesure justifiée de prévention en vue de faire diminuer dans les entreprises le nombre et la gravité des accidents et des maladies professionnelles.

B

Veille à la santé des salariés pour les préserver des nuisances et notamment les risques liés à l'utilisation des produits dangereux.

C

Exprime le point de vue des salariés sur la prévention des risques professionnels et amélioration des conditions de travail dans l'entreprise.

4 - Comment se nomme le liquide que l'on trouve dans la batterie ?

Hydrocarbure

Électrogène

Électrolyte

Électrolyse


5 - Quelle est la distance de sécurité que doivent respecter les chariots élévateurs circulant dans le même sens ?

La longueur de 3 palettes vides

La longueur de 3 chariots

La longueur de 3 charges

La longueur de 3 fourches




6 - Quelle est la signification de ce pictogramme ? (sur fond vert)

Douche de sécurité

Rinçage des yeux

Oculiste de secours

Risque de projection dans les yeux

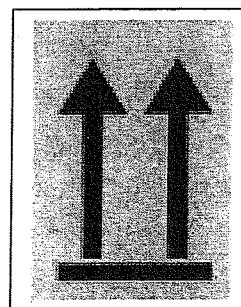


7 - Quelle est la signification de ce pictogramme ?

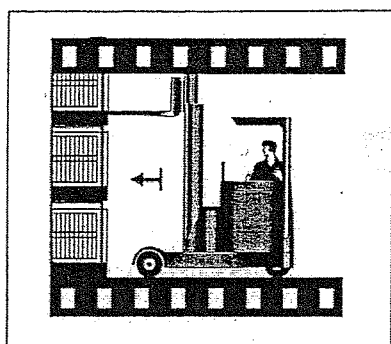
Route à 2 voies en sens unique

Haut


Centre de gravité



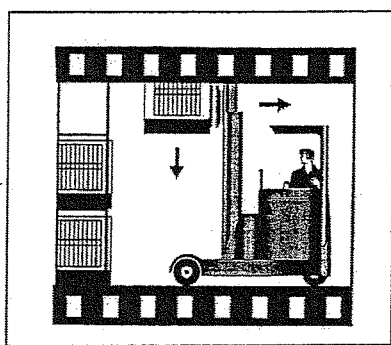
8 - Pour dégerber la palette située au 3^e niveau du palettier, dans quel ordre faut-il procéder ?




A



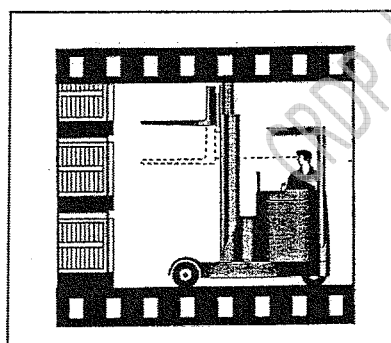
B



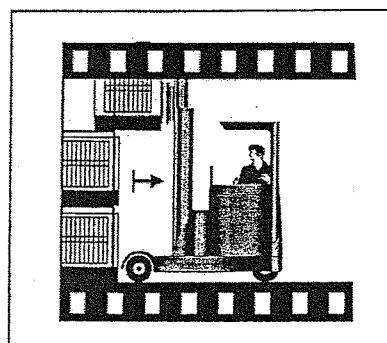
C



D



E



F

A B C D E F

B E A D F C

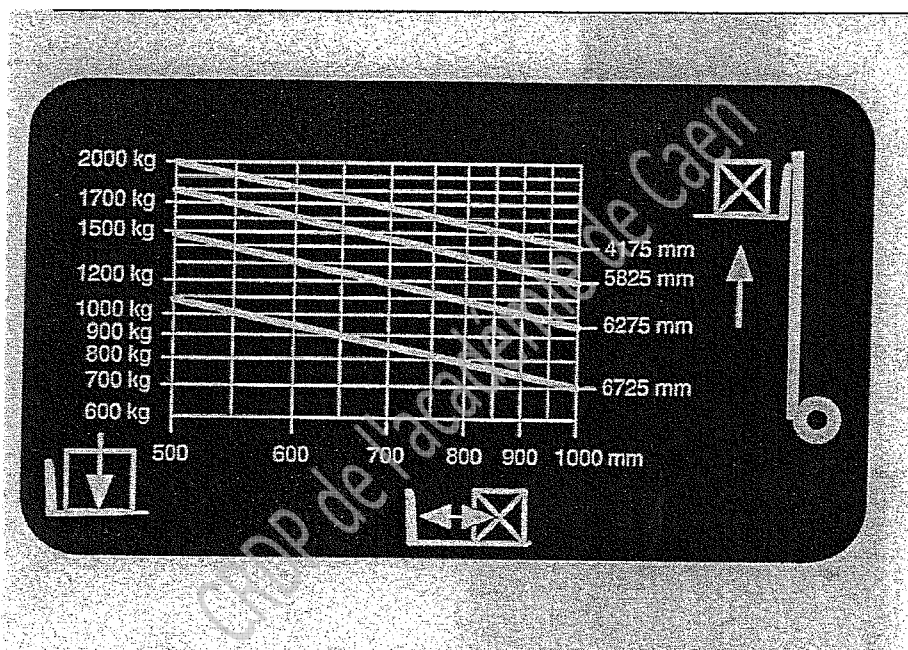
B E A C F D

A E B D F C

9 - Quels sont les éléments que le cariste doit vérifier avant d'effectuer un chargement dans une remorque de camion ?

X	Vérifier l'état du plancher	X	Vérifier l'étaiyage de la semi-remorque
X	Vérifier le gabarit du chariot	X	Vérifier le calage du véhicule
X	Vérifier la résistance du pont de liaison		Vérifier la présence du chauffeur

10 - À quelle hauteur maximale peut être levée, mât vertical, une charge de 1300 kg, dont le centre de gravité se trouve à 60 cm du talon des fourches ?



- 6275 mm
- 6725 mm
- 4175 mm
- 5825 mm