



SERVICES CULTURE ÉDITIONS
RESSOURCES POUR
L'ÉDUCATION NATIONALE

**Ce document a été numérisé par le CRDP de Caen pour la
Base Nationale des Sujets d'Examens de l'enseignement professionnel**

Ce fichier numérique ne peut être reproduit, représenté, adapté ou traduit sans autorisation.

TEST THÉORIQUE

(Chariots des catégories 1, 3 et 5)

Vous répondez aux questions en cochant la (ou les) case(s) correspondant à la (ou aux) bonne(s) réponse(s) : **certaines questions nécessitent de cocher plusieurs cases pour être considérées comme correctes.** Seules les réponses totalement exactes seront prises en compte.

1 - Le CACES :

Remplace l'autorisation de conduite

Mentionne la ou les catégorie(s) de chariots pour lesquelles il est valable

Est obtenu en cas de réussite à un test théorique et pratique

Est valable « à vie »

2 - Le cariste est responsable :

Du réglage du moteur de son chariot

De la sécurité dans l'entreprise

De son chariot

Des charges qu'il transporte

3 - Avant de commencer son travail, que doit vérifier un cariste sur son chariot ?

Le freinage

Le système d'élévation des fourches

L'avertisseur sonore

Le système d'inclinaison

4 - Pour changer une bouteille de gaz GPL, il faut :

Couper le contact du chariot avant la fermeture de la bouteille

Fermer la bouteille afin de purger le circuit et laisser le moteur caler

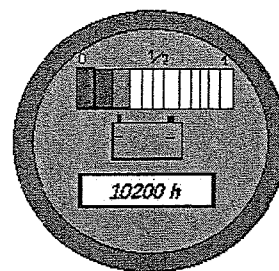
Ouvrir la nouvelle bouteille au maximum afin d'avoir le meilleur débit de gaz

Ouvrir la nouvelle bouteille d'un quart de tour seulement

BEP LC CAP AEM CAP VMPREA	EP1 – Phase 1 Conduite de chariots EP2 – Phase 1	CORRIGÉ Test théorique n° 2	Session 2009	Page 1 sur 3
---------------------------------	--	---------------------------------------	-----------------	--------------


5 - Cet horamètre indique :

- Le chariot a roulé pendant 10200 km
- La batterie est chargée à fond
- La batterie est bien déchargée
- La batterie du chariot devra être mise en charge



6 - Que signifie ce pictogramme ?

- Toxique
- Pêche interdite
- Dangereux pour l'environnement
- Nocif




7 - L'équipement de protection individuel du cariste dans un entrepôt doit comprendre :

- Un harnais de sécurité
- Une paire de chaussures de sécurité
- Un masque
- Un blouson

8 - Quelle est la distance de sécurité que doivent respecter les chariots élévateurs circulant dans le même sens ?

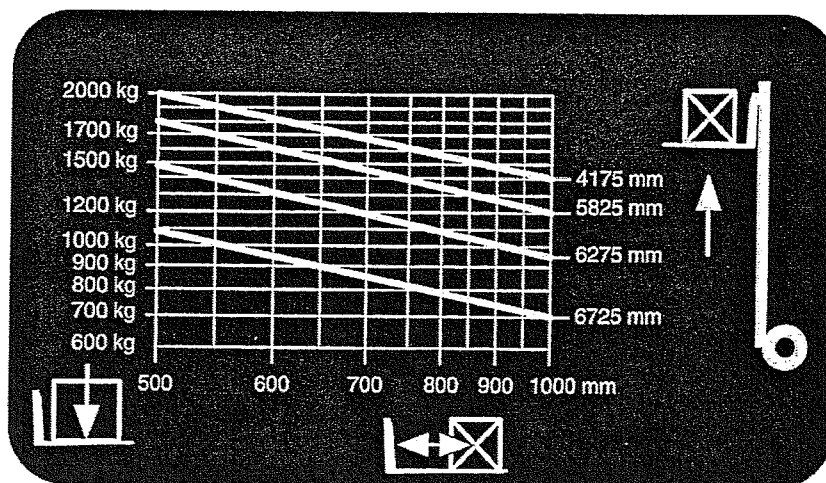
- La longueur de 2 chariots
- La longueur de 3 chariots
- La longueur de 4 chariots



9 - Quelles sont les précautions à prendre lors d'un gerbage en palettier ?

- Ne pas heurter les lisses
- Ne pas heurter les pieds du palettier
- Rentrer avec les fourches inclinées en arrière

10 - Le diagramme de capacité ci-dessous permet d'affirmer :



Qu'il est possible de lever une charge (1,20 x 1,20 m) de 1500 kg à une hauteur de 6 m

Que la capacité nominale du chariot est de 2000 kg à 500 mm

Qu'il est possible de lever une charge de 1300 kg mesurant 1,20 m de côté à une hauteur de 6 m

Qu'il est possible de gerber une charge de 1100 kg (1,60 x 1,60 m) à une hauteur de 6,46 m

CRDP de l'académie de Coen