



SERVICES CULTURE ÉDITIONS
RESSOURCES POUR
L'ÉDUCATION NATIONALE

Ce document a été numérisé par le CRDP de Rennes

**pour la
Base Nationale des Sujets d'Examens de l'enseignement
professionnel**

Ce fichier numérique ne peut être reproduit, représenté, adapté ou traduit sans autorisation.

SUJET

Sommaire :

dossier technique : pages DT 1/10 à DT 10/10

dossier sujet : pages S 1/4 à S 4/4

Le dossier technique est commun aux parties A et B de l'épreuve EP 1

Dans le cadre de la collection printemps été l'entreprise LDGold vous demande de participer à la mise au point du modèle « MACADAM ».

Vous devez effectuer la transformation à plat de la jupe de base taille 38 pour obtenir le patron devant du modèle «MACADAM ».

Noter : La poche ne sera pas tracée, le patron de la quille sera sans fronces

RESSOURCES

- Sujet et travail demandé,
- Dossier technique,
- Gabarit jupe de base devant Taille 38,
- Papier kraft blanc.

TRAVAIL DEMANDE

Analyser les documents donnés et situer les opérations à effectuer.

1. Tracer d'après les dessins de construction S2/4 le patron des éléments suivants :
 - empiècement devant
 - devant
 - volant incrusté
2. Présenter les éléments demandés sur la planche de coupe.

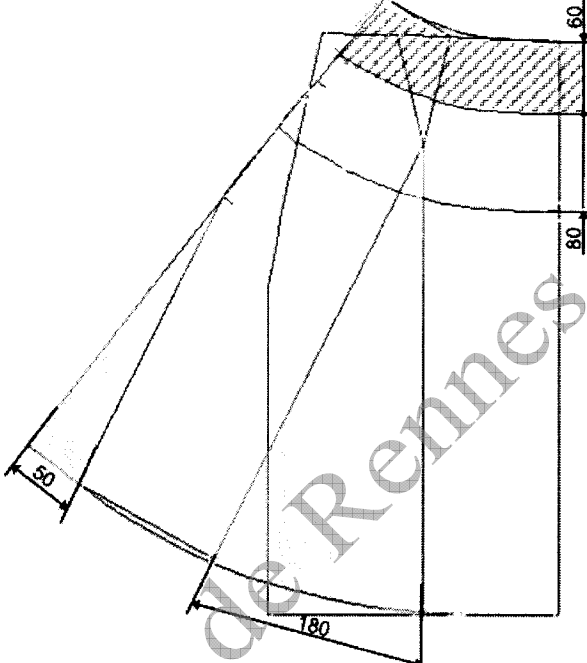
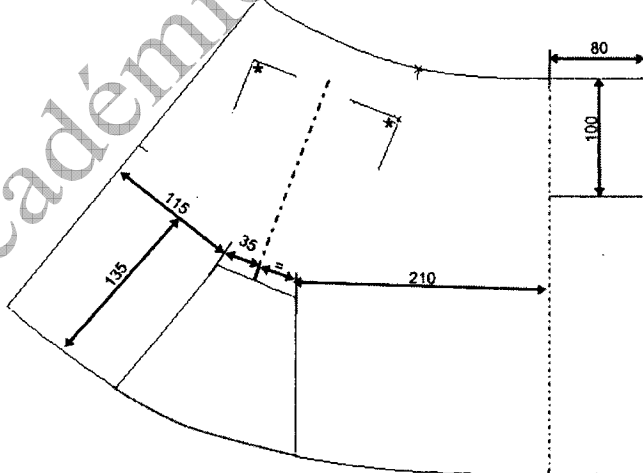
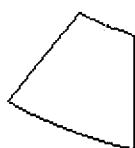
COMPETENCES EVALUEES

- Lire analyser classer et sélectionner les documents,
- Participer à la construction et à la mise au point d'un produit.

EXIGENCES


- Les informations retenues doivent permettre d'effectuer le travail demandé,
- Conformité de la transformation par rapport aux documents de référence esthétiques et techniques,
- Précision et propreté des tracés,
- Respect des droits fils des différents éléments
- Précision et rigueur des valeurs,
- L'identification des éléments de la jupe est complète et les repères utiles à la coupe sont représentés.

| | | |
|---|---------------------------|--------------|
| Session 2009 | | Sujet n°B118 |
| BEP Métiers de la mode et industries connexes, Champ d'application : PRET A PORTER | | |
| EP1 Préparation, mise en œuvre, arts appliqués, Partie A2 – Préparation du travail | | |
| Durée : 3 heures | Coefficient : 10 pour EP1 | Page : S 1/4 |

| TRANSFORMATION | CROQUIS DES TRANSFORMATIONS |
|---|---|
| <ol style="list-style-type: none"> 1. Effectuer la transformation du devant et définir la hauteur de l'empiècement 2. Reproduire sur la feuille de coupe les contours des éléments de la jupe « Macadam » <ul style="list-style-type: none"> ➤ empiècement devant ➤ devant |  |
| <ol style="list-style-type: none"> 3. Ajouter le pli creux sur le milieu devant 4. Tracer la découpe du bas de la jupe 5. Repérer l'emplacement des poches |  |
| <ol style="list-style-type: none"> 6. Tracer le volant incrusté |  |
| <ol style="list-style-type: none"> 7. Ajouter les indications utiles à la coupe et identifier les éléments conformément au document technique de référence. | |

MACADAM BASETP * LONGUEUR 476 MM * LAIZ

MACADAM
32
3P BASE DEVAINT 4/4



CRDP de l'académie de Rennes

ETIQUETTE d'ANONYMAT

✂-----
Partie à coller sur l'enveloppe

| | |
|---|---|
| N° d'anonymat : | <i>à compléter par le centre d'examen</i> |
| SPECIALITE : BEP Métiers de la mode et industries connexes PRET A PORTER | |
| EPREUVE : EP1 Préparation, arts appliqués | SESSION 2009 |

Partie à découper par le centre d'examen

| | |
|--|---|
| N° d'anonymat : | <i>à compléter par le centre d'examen</i> |
| Partie à compléter par le candidat : | |
| N° d'inscription : | |
| Nom : Prénom : | |
| Centre d'examen : | |
| SPECIALITE : BEP Métiers de la mode et industries connexe PRET A PORTER | |
| EPREUVE : EP1 Préparation, arts appliqués | SESSION 2009 |

✂-----

| | |
|---|---------------|
| BEP Métiers de la mode et industries connexes, Champ d'application : PRET A PORTER | Sujet n°9B118 |
| EP1 Préparation, mise en œuvre, arts appliqués Partie A2 – <u>Préparation du travail</u> | Page : S 4/4 |