




SERVICES CULTURE ÉDITIONS
RESSOURCES POUR
L'ÉDUCATION NATIONALE

**Ce document a été numérisé par le CRDP de Montpellier pour la
Base Nationale des Sujets d'Examens de l'enseignement professionnel**

Ce fichier numérique ne peut être reproduit, représenté, adapté ou traduit sans autorisation.

BACCALAUREAT PROFESSIONNEL
TECHNICIEN du BATIMENT
ORGANISATION ET REALISATION DE GROS ŒUVRE

DOSSIER CANDIDAT



Base Nationale des Sujets d'Examens de l'Enseignement Professionnel
Réseau SCEREN

DOSSIER ETUDES

IMPLANTATION ET TRACE


BACCALAUREAT PROFESSIONNEL TB ORGO		
Session	DUREE : 2 H 00	COEFFICIENT : 2

IMPLANTATION D'UNE PARTIE D'OUVRAGE

SITUATION :

Le balcon d'angle de la façade Sud Est du niveau « comble » sera préfabriqué.

Votre chef vous charge de réaliser le tracé du balcon sur le banc de préfabrication.



DOCUMENTS, MATERIELS, MATERIAUX.

Plan architecte du niveau « comble »

Plan de détail du balcon

Instrument de mesure.

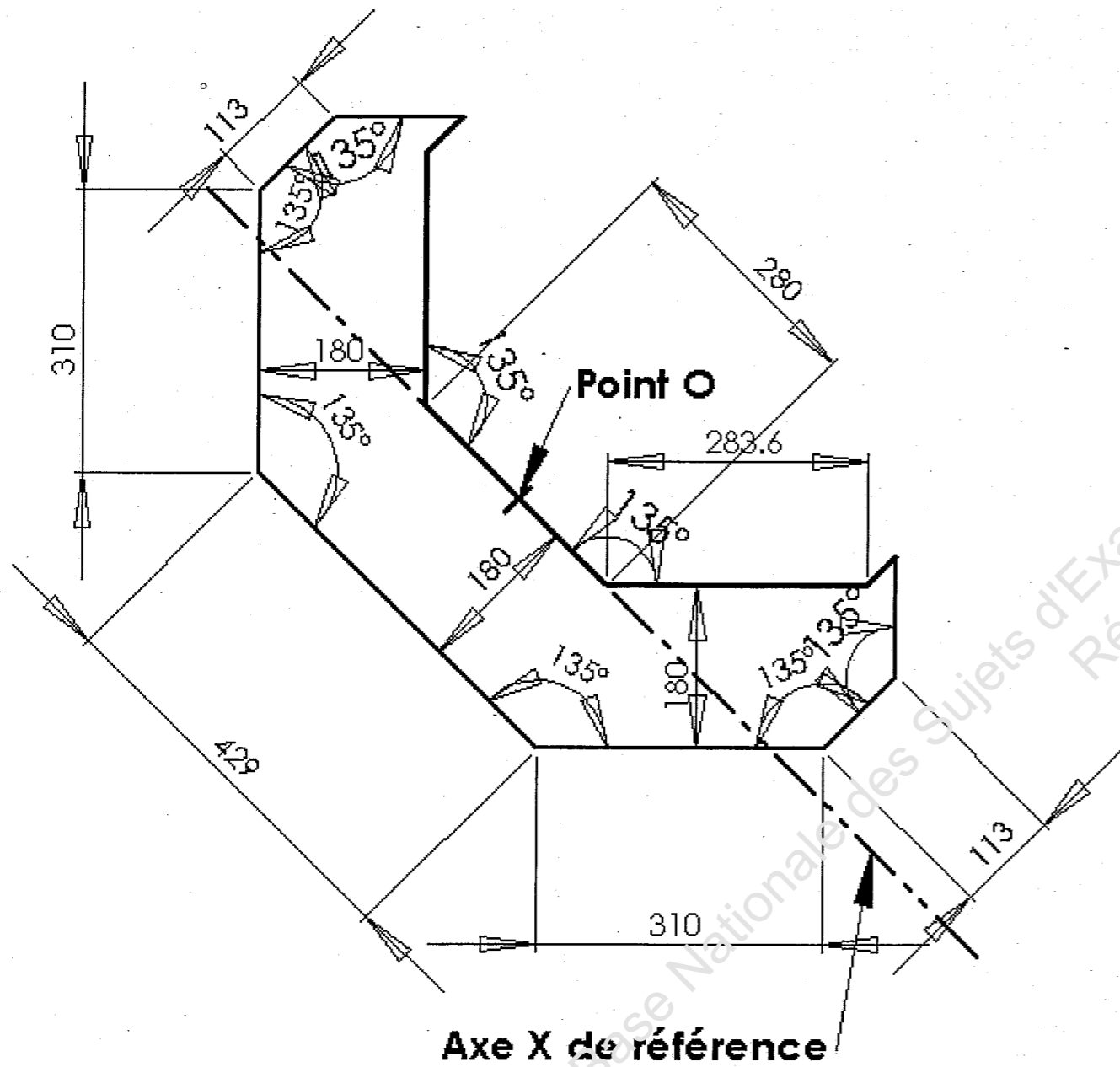
Aire avec une référence d'alignement et un départ d'implantation..

TRAVAIL DEMANDE	CRITERES D'EVALUATION	TOLERANCES	BAREME
1) Tracer à partir du point O l'axe Y perpendiculaire à l'axe X.	L' équerage est correct.	Aucune erreur	20
2) En partant du point O, tracer le mur de façade de 20 cm d'épaisseur.	Les dimensions sont conformes au plan.	3 points enlevés par erreur de dimension.	30
	Les angles sont respectés	3 points enlevés par angle non respecté.	20
3) Tracer l'emprise du balcon.	Les tracés sont précis et soignés.	Epaisseur des traits régulière (- 5 points si non respecté)	30
		Contour du balcon matérialisé plus nettement. (- 5 points si non respecté)	
		Tracés soignés.	
TOTAL			/100
TOTAL			/20

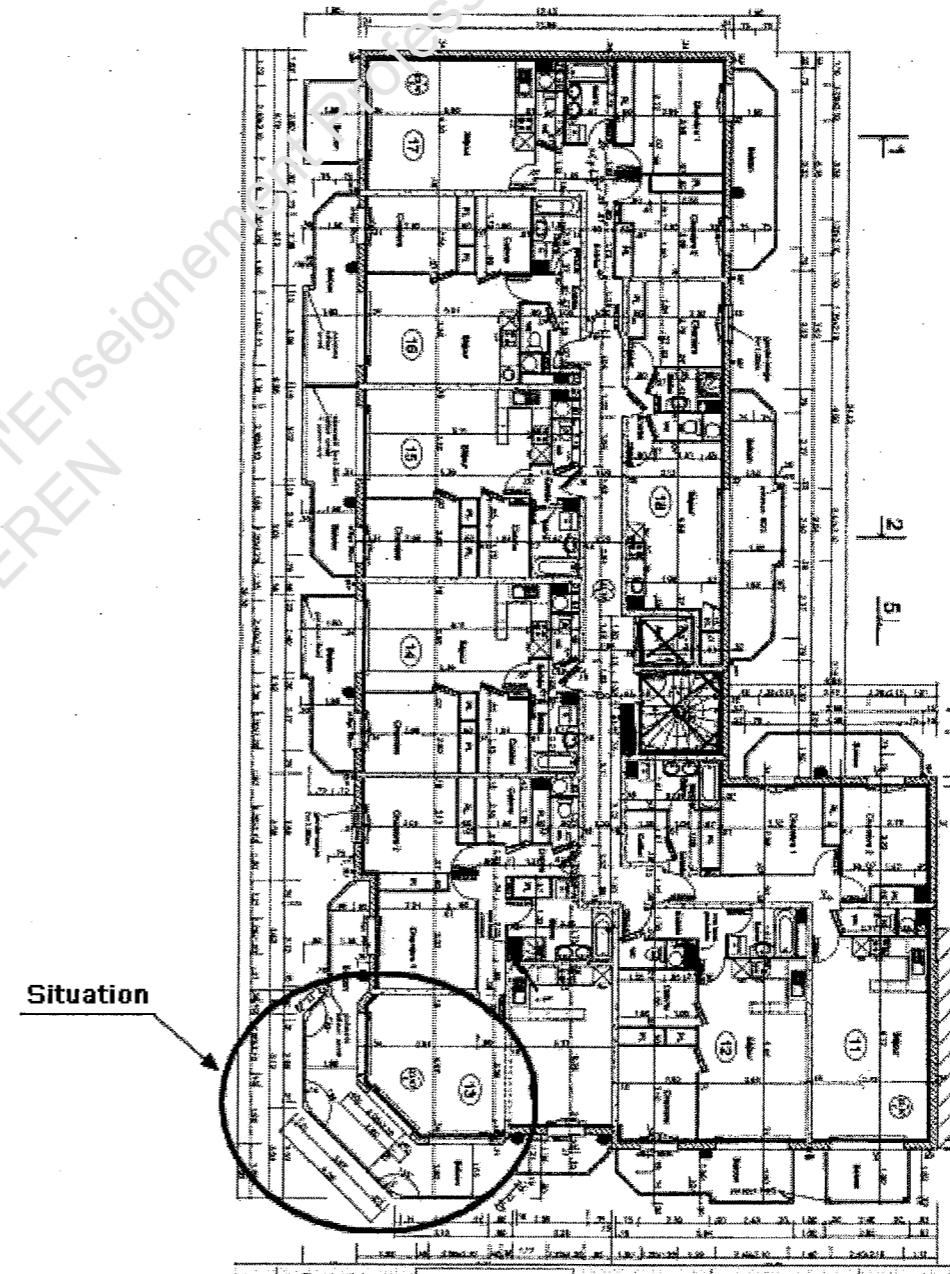
EPREUVE E3 REALISATION D'OUVRAGE

SOUS EPREUVE E33 : IMPLANTATION ET TRACE

VUE EN PLAN DU BALCON A TRACER



VUE EN PLAN NIVEAU COMBLES



BACCALAUREAT PROFESSIONNEL TB ORGO		
Session	DUREE : 2 H 00	COEFFICIENT : 2