

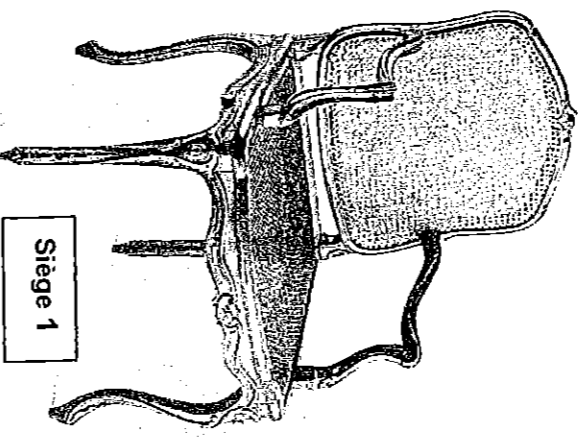


Ce document a été numérisé par le CRDP de Nancy pour la
Base Nationale des Sujets d'Examens de l'enseignement professionnel

Ce fichier numérique ne peut être reproduit, représenté, adapté ou traduit sans autorisation.

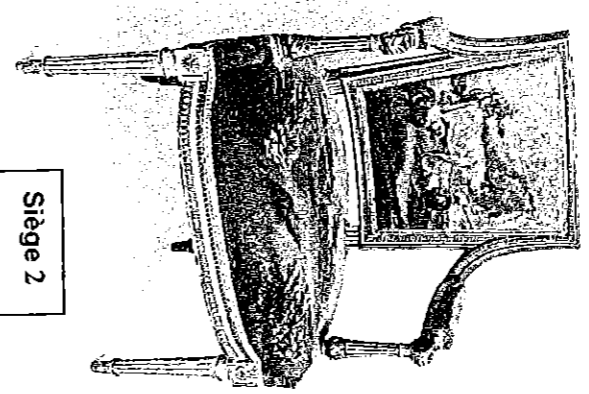
Académie : _____ Session : _____
 Examen : _____ Série : _____
 Spécialité/option : _____ Repère de l'épreuve : _____
 Epreuve/sous épreuve : _____
 NOM : _____
 (en majuscule, suivi s'il y a lieu, du nom d'épouse)
 Prénoms : _____
 N° du candidat : _____
 (le numéro est celui qui figure sur la convocation ou l'asc d'appel)
 Né(e) le : _____
 NOTE _____
 Appréciation du correcteur _____

CAP MENUISIER EN SIEGES - Session 2010
Epreuve : Etude des Styles et des Techniques dans l'Ameublement



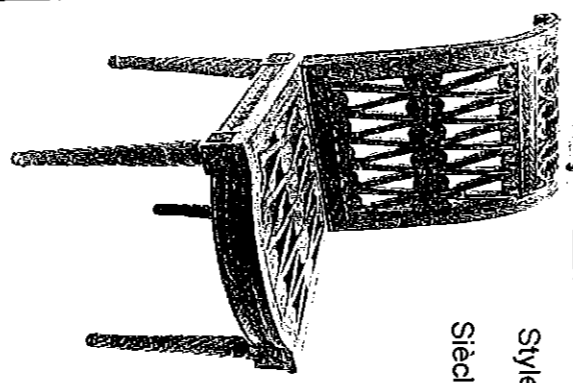
Siège 1

Nom :
 Style :
 Siècle :
 Forme du dossier :
 Recouvert de :




Siège 2

Nom :
 Style :
 Siècle :



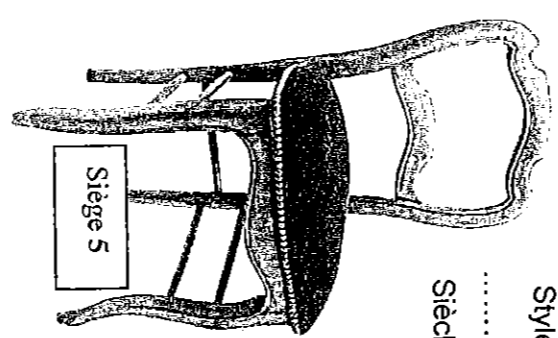
Siège 3

Style :
 Siècle :



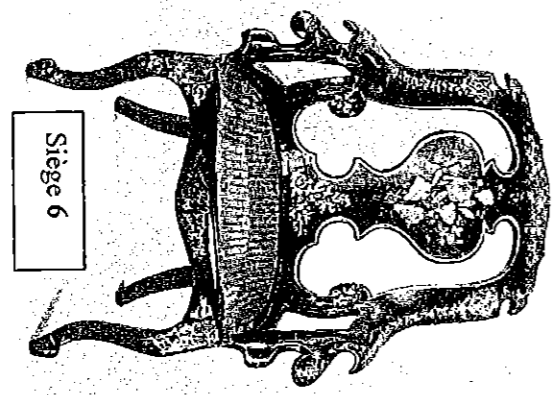
Siège 4

Style :
 Siècle :



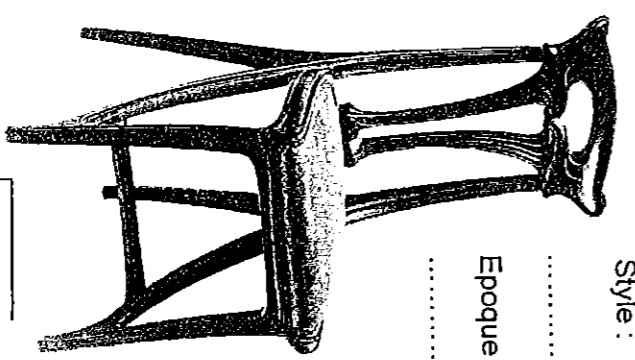
Siège 5

Style :
 Siècle :



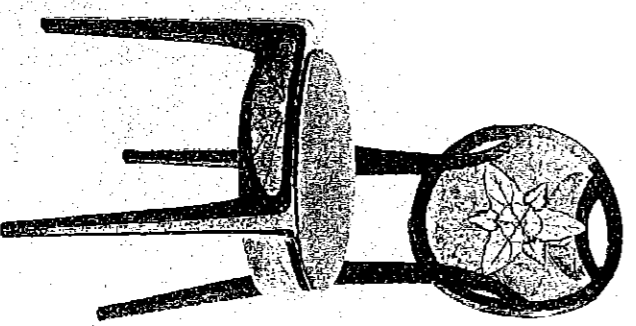
Siège 6

Nom :
 Style :
 Siècle :



Siège 7

Style :
 Epoque précise :



Siège 8

Style :
 Epoque précise :


CAP MENUISIER EN SIEGES

Repère 50 23411	Session juin 2010		
Epreuve : Etude des styles et des techniques dans l'ameublement	Durée 1h	Coefficient 1	Page 1/2

EP4

Ne rien inscrire dans ce cadre


- Huit meubles ou sièges en correspondance avec les sièges de la page 1/2 sont présentés non chronologiquement ci-dessous.
Inscrivez la lettre qui correspond dans leur cadre respectif



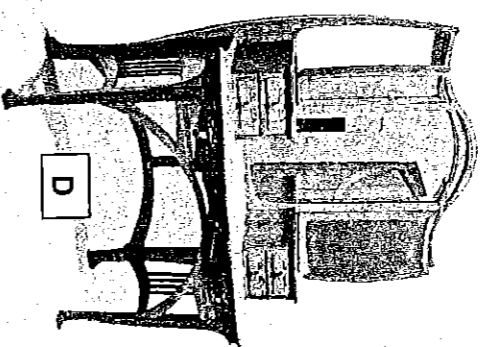
A




B



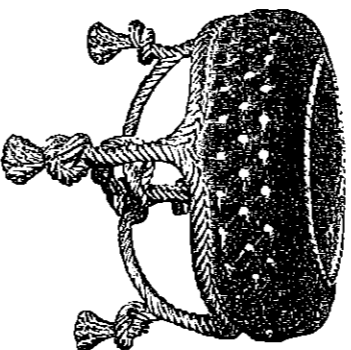
C




D



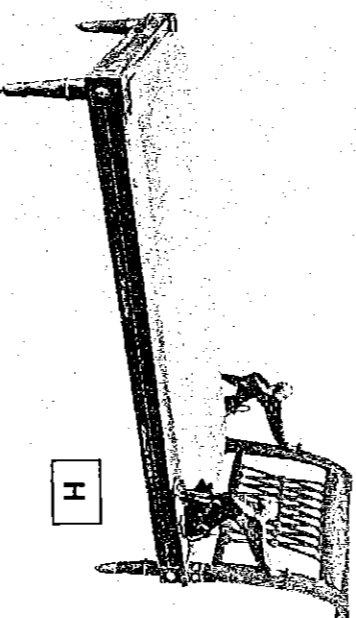
E



F



G




H

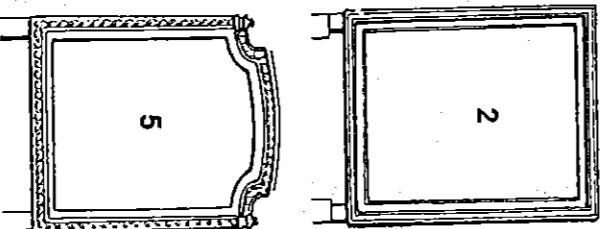


a

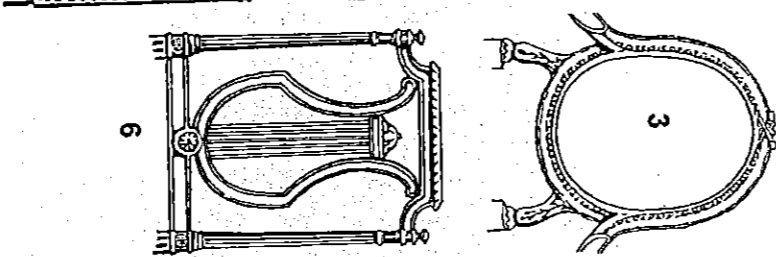
Nom de ce siège :
.....
nom de son
auteur hollandais :
.....



1



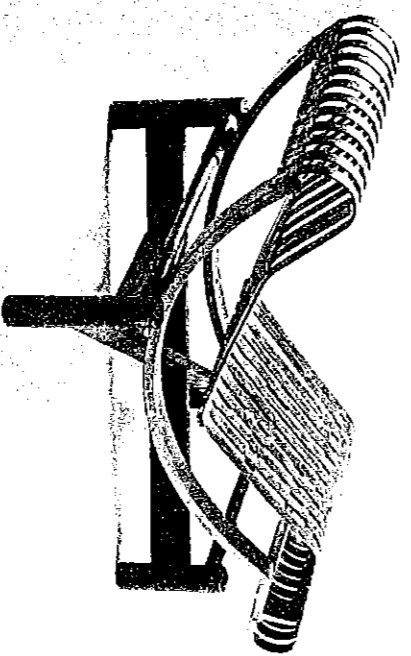
2



3



6



b

Inscrivez le nom de chaque dossier

1.
2.
3.
4.
5.
6.

Ces dossiers de
sièges sont de
même style, quel
est-il ?
.....

- Le siège a est l'œuvre d'un écossais en 1897,
Donnez son nom :
- Le siège b est l'œuvre d'une française en 1941,
Donnez son nom :

CAP MENUISIER EN SIEGES

Repère 50 23411	Session juin 2010	
Durée 1h	Coefficient 1	Page 2/2
Epreuve : Etude des styles et des techniques dans l'ameublement		