



SERVICES CULTURE ÉDITIONS
RESSOURCES POUR
L'ÉDUCATION NATIONALE

**Ce document a été numérisé par le CRDP de Lille pour la
Base Nationale des Sujets d'Examens de l'enseignement professionnel**

Ce fichier numérique ne peut être reproduit, représenté, adapté ou traduit sans autorisation.


Session : 2010		Code examen	Tirages
Sujet : C.A.P Cannage Paillage en Ameublement		23420	
		EP1	
Epreuve : Technologie - Prévention - Histoire de l'art			
Coefficient : 4	Durée : 3 h 00	Feuillet : 1 / 9	

Le candidat répondra directement sur le feuillet.


Technologie

1^{ère} Question (3 Pts) 0 50 pt / réponse

D'après les dessins, A, B, C, D, E, F donnez le nom de chacun de ces différents matériels et précisez leur utilisation dans la pratique du métier de canneur - pailleur.



A



B

Réponse A :

.....

.....


.....

Réponse B :

.....

.....

.....



C

Réponse C :

.....

.....

Session : 2010		Code examen	Tirages
Sujet : C.A.P Cannage Paillage en Ameublement		23420	
		EP1	
Epreuve : Technologie - Prévention - Histoire de l'art			
Coefficient : 4	Durée : 3 h 00	Feuillet : 2 / 9	

Le candidat répondra directement sur le feuillet.

Technologie

1^{ère} Question (suite)

D



Réponse D :

.....

.....

.....

.....

E



Réponse E :

.....

.....

.....

.....

F



Réponse F :

.....

Base Nationale des Sujets d'Examens de l'Enseignement Professionnel
Réseau SCÉRFN

Session : 2010		Code examen	Tirages
Sujet : C.A.P Cannage Paillage en Ameublement		23420	
		EP1	
Epreuve : Technologie - Prévention - Histoire de l'art			
Coefficient : 4	Durée : 3 h 00	Feuillet : 3 / 9	

Le candidat répondra directement sur le feuillet

Technologie

2^{ème} Question (1 Pt)

Dans le vocabulaire du canneur paillier, le terme « cavalier » est-il employé en paillage et / ou en cannage? Donnez sa définition.

Réponse :

.....

3^{ème} Question (2 Pts) 0,25 pt / réponse

Citez dans l'ordre, les 8 étapes de la manufacture de la paille de seigle, de sa coupe à son emploi.

Réponse 1 :

Réponse 2 :

Réponse 3 :

Réponse 4 :

Réponse 5 :

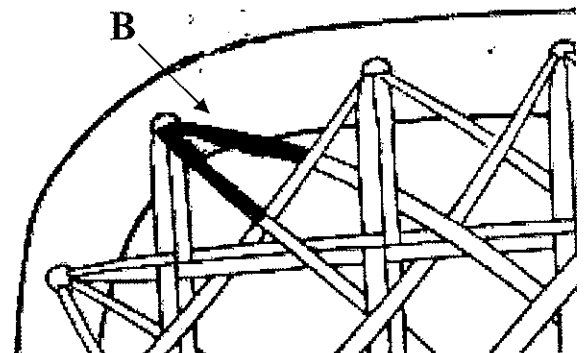

Réponse 6 :

Réponse 7 :

Réponse 8 :

4^{ème} Question (1 Pt) 0,5 pt / réponse

A l'aide des dessins ci-dessous, que représente les parties noires A et B ?



Réponse A :

Réponse B :

Session : 2010		Code examen	Tirages
Sujet : C.A.P Cannage Paillage en Ameublement		23420	
		EP1	
Epreuve : Technologie - Prévention - Histoire de l'art			
Coefficient : 4	Durée : 3 H00	Feuillet : 4 / 9	

Le candidat répondra directement sur le feuillet.

Technologie

5^{ème} Question (2 Pts) 0,5 pt / réponse

Citez la forme de chacun des 4 châssis de cannage ci-dessous.



1

2

3

4

Réponse 1 :

Réponse 2 :

Réponse 3 :

Réponse 4 :

6^{ème} Question (1 Pt) 0,25 pt / réponse

Citez les 4 principales caractéristiques d'un châssis de fond de siège d'époque, de style Régence, réalisé en cannage français traversé.

Réponse 1 :

Réponse 2 :

Réponse 3 :

Réponse 4 :

Session : 2010		Code examen	Tirages
Sujet : C.A.P Cannage Paillage en Ameublement		23420	
		EP1	
Epreuve : Technologie - Prévention - Histoire de l'art			
Coefficient : 4	Durée : 3 H00	Feuillet : 5 / 9	

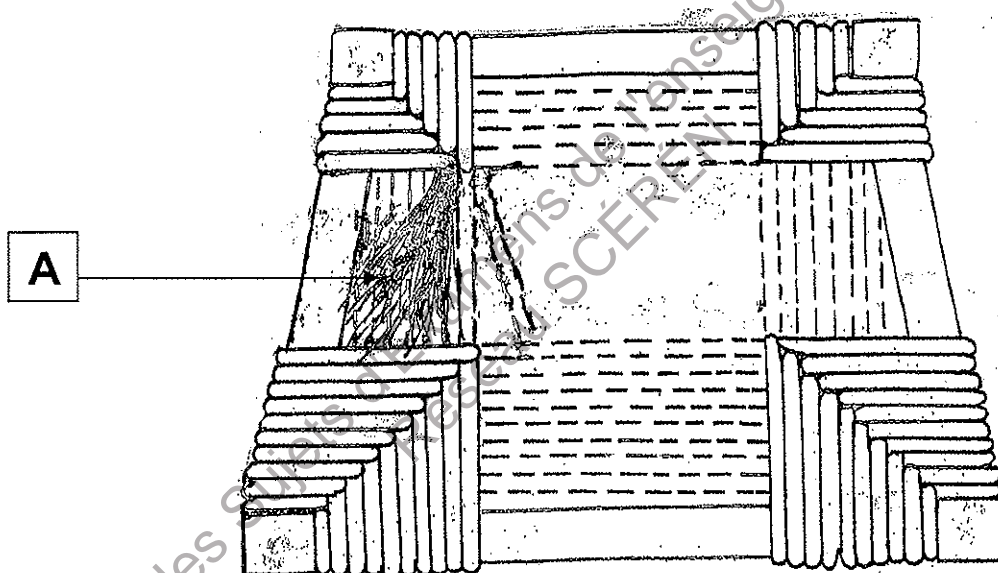
Le candidat répondra directement sur le feuillet.

Technologie

7^{ème} Question (2 Pts) 0,25 pt / réponse

D'après le dessin ci-dessous :

- 1 / Quel est le procédé de réalisation de ce garnissage en paille ?
- 2 / Quel nom donne-t-on à l'élément désigné par la lettre A ?
- 3 / A quelle phase de réalisation en est - il ?
- 4 / Citez dans l'ordre les 5 phases suivantes de la réalisation entière de ce paillage.



Réponse 1 :

Réponse 2 :

Réponse 3 :

Réponse 4 :

Phase 1 :

Phase 2 :

Phase 3 :

Phase 4 :

Phase 5 :