



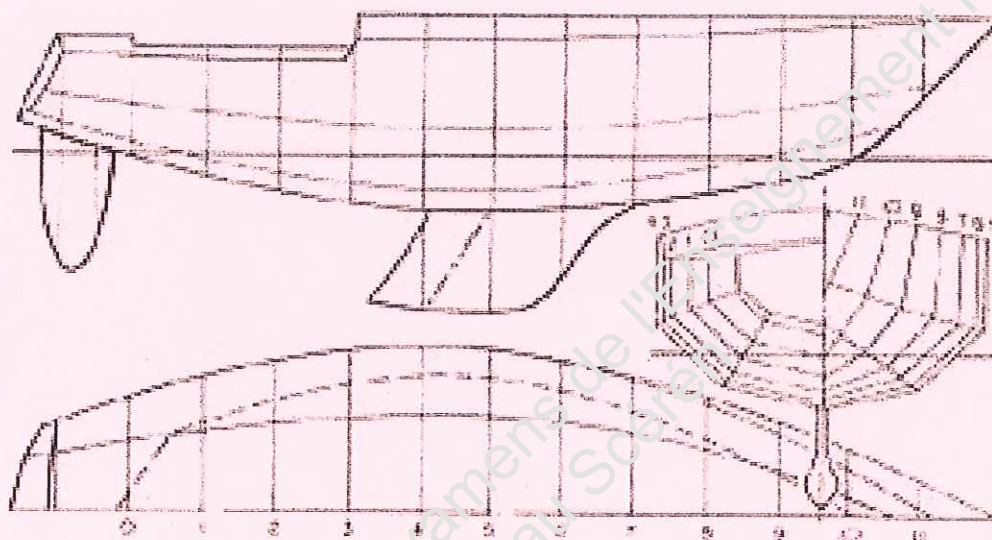
SERVICES CULTURE ÉDITIONS  
RESSOURCES POUR  
L'ÉDUCATION NATIONALE

**Ce document a été numérisé par le CRDP de Caen pour la  
Base Nationale des Sujets d'Examens de l'enseignement  
professionnel**

# EP3 Réalisation d'un tracé

Unité UP3 - ponctuelle pratique

## DOSSIER CORRIGE

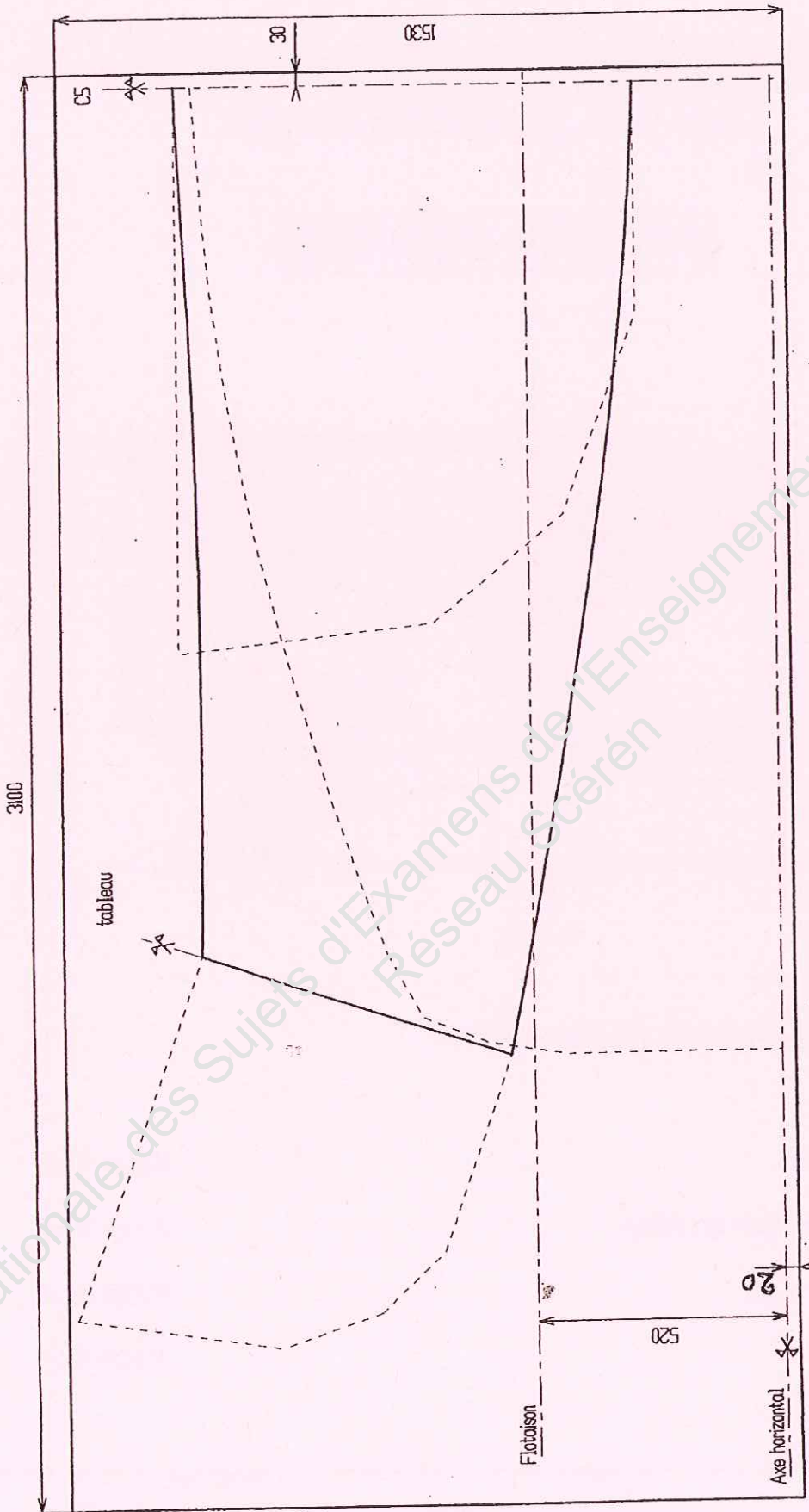


Ce dossier comprend 3 documents :

- Page de garde Page 1 / 4
- Corrigé de la mise en page Page 2 / 4
- Corrigé épure A4 Page 3 / 4
- Barème Page 4 / 4

	Session	2010	Facultatif : code	06EG08
Examen et spécialité				
CAP Charpentier de marine				
Intitulé de l'épreuve				
EP3 Réalisation d'un tracé				
Type	Facultatif : date et heure	Durée	Coefficient	N° de page / total
DOSSIER CORRIGE		7H00	4	1 / 4

CORRIGÉ



CAP Charpentier de marine

EP3 Réalisation d'un tracé

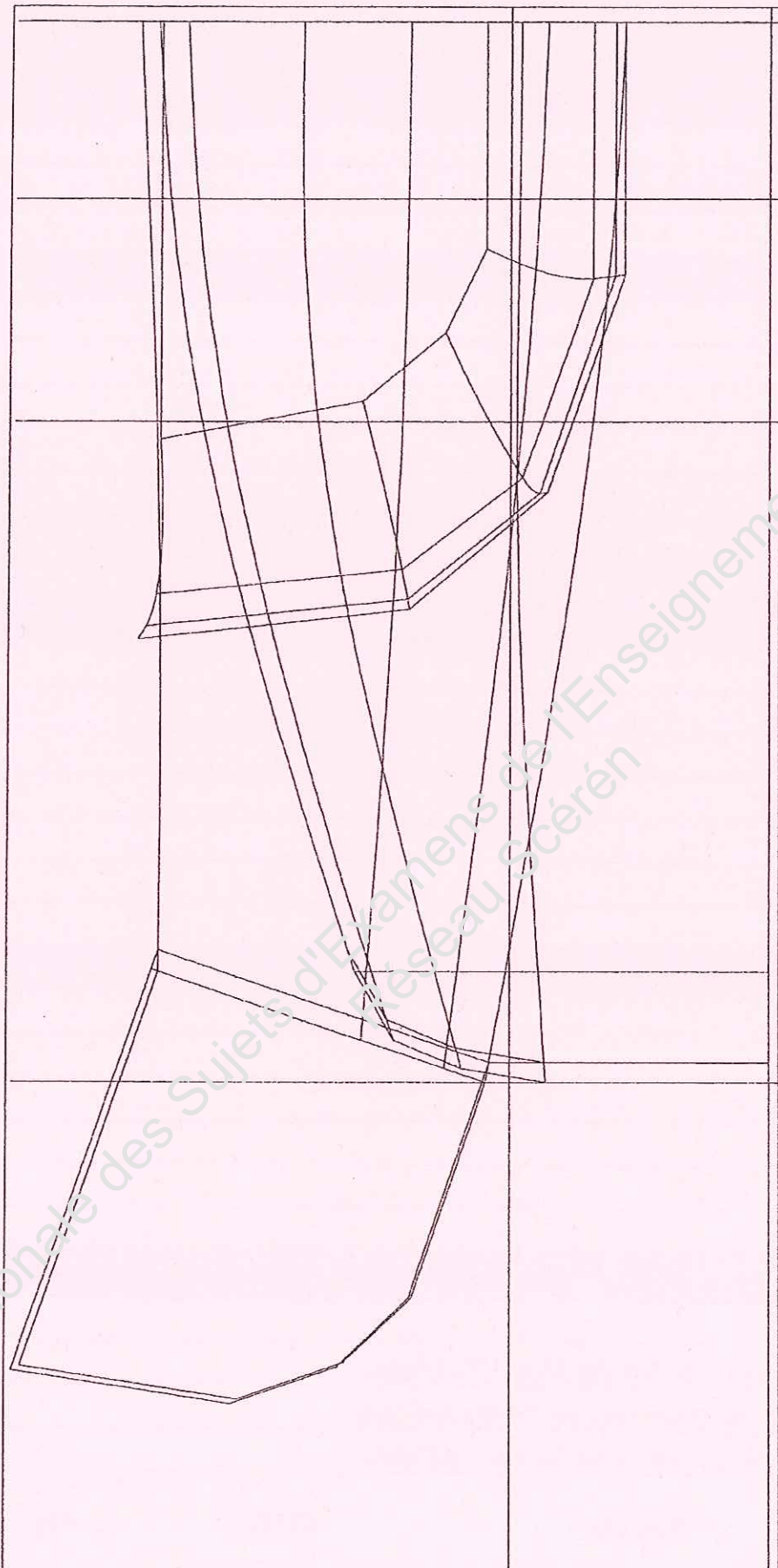
Rappel codage

06EG08

2 / 4

CORRIGÉ





C O R R I G É

# CORRIGÉ

## FICHE BARÈME D'ÉVALUATION

Projections	
Quadrillage, précision et désignation	... / 5 pts
Désignation des lignes	... / 4 pts
Vue Longitudinale	
Livet	... / 3 pts
Section verticale n°1	... / 3 pts
Section verticale n°2	... / 3 pts
Bouchain n°1	... / 3 pts
Bouchain n°2	... / 3 pts
Bouchain n°3	... / 3 pts
Vue Horizontale	
Livet de plat bord	... / 3 pts
Ligne d'eau n°1	... / 3 pts
Ligne d'eau n°2	... / 3 pts
Bouchain n°1	... / 3 pts
Bouchain n°2	... / 3 pts
Bouchain n°3	... / 3 pts
Vue Transversale	
Livet de plat bord	... / 3 pts
Couple C5	... / 3 pts
Couple C6	... / 3 pts
Couple C7	... / 3 pts
Tableau	... / 3 pts
Rabattement	
Exactitude et précision du tracé de la face AR tableau	... / 10 pts
Exactitude et précision du tracé des sections rabattues	... / 20 pts
Exactitude et précision du tracé de la face AV tableau	... / 10 pts
<b>TOTAL</b>	... / 100 pts
<b>NOTE</b>	... / 20

CAP Charpentier de marine	Rappel codage 06EG08
EP3 Réalisation d'un tracé	4 / 4