



SERVICES CULTURE ÉDITIONS
RESSOURCES POUR
L'ÉDUCATION NATIONALE

**Ce document a été numérisé par le CRDP de Caen pour la
Base Nationale des Sujets d'Examens de l'enseignement
professionnel**

SESSION 2010

CAP COUTURE FLOU

CODE : 10C1146

EPREUVE : EP1 Mise au point d'un modèle,
préparation d'une fabrication

DOCUMENTS JURYS :

- Partie pratique : Corrigé
- Partie pratique : Barème + Fiche d'évaluation
- EP 1 Grille récapitulative des notes

Base Nationale des Sujets d'Examens de l'Enseignement Professionnel
Réseau Scérén

SESSION 2010	Sujet n° 10C1146
CAP COUTURE FLOU	
EP1 Mise au point d'un modèle, préparation d'une fabrication	
BAREME + fiche d'évaluation	Page J 1/1

N° du candidat :

CRITÈRES D'ÉVALUATION	BARÈME	NOTE OBTENUE
<u>Transformation</u>	<u>6 points</u>	
BUSTIER		
• Forme du haut	1
• Basculement pince	1
• Valeurs de couture	0.5
• Crans	0.5
JUPE		
• Ouverture pince	1
• Valeurs de couture	0.5
• Crans	0.5
ENFORME		
• Tracé de l'enforme	0.5
• Valeurs de couture	0.5
<u>Indications nécessaires aux services coupe et fabrication</u>	<u>1point</u>	
• Sur l'o-	1
<u>Solutions technologiques</u>	<u>2 points</u>	
• Bas de la robe	1
• Enforme bustier	1
<u>Technologie textile</u>	<u>3.5 points</u>	
• Origine	0.5
• 2 fibres textiles de même origine	1
• 1 pays producteur de lin en Europe	1
• Code d'entretien	1
<u>Technologie machine</u>	<u>2.5 points</u>	
• Nom et type de point	0.5
• 2 organes en mouvement de la piqueuse plate	1
• 2 protections	0.5
• Risque en insérant le boîtier	0.5
TOTAL	15

CAP COUTURE FLOU

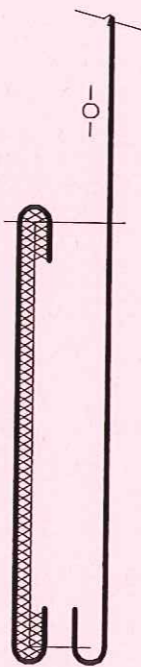
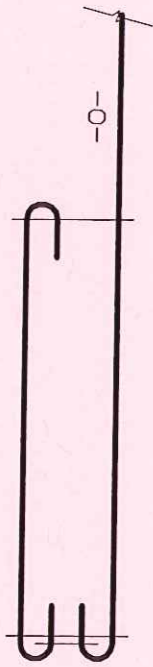
EP1 partie B – Elaboration, technologie et préparation d'une fabrication

CORRIGÉ

Page C 1/4

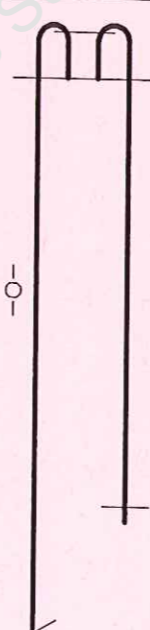
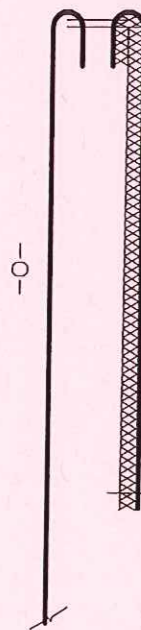
COCHER l'erreur :

BAS DE LA ROBE



X

ENFORME BUSTIER



X

Base Nationale des Sujets d'Examens de l'Enseignement Professionnel
Réseau Scérén

SESSION 2010	Sujet n°10C1146
CAP COUTURE FLOU EP1 partie B – Elaboration, technologie et préparation d'une fabrication	
CORRIGÉ	Page C 2/4

1) Quelle est son origine ? Cochez la ou les bonnes réponses.

	ORIGINE
X	Naturelle
	Chimique
	Animale
X	Végétale
	Minérale
	Artificielle
	Synthétique
















2) Citez deux autres fibres textiles de la même origine.

- Coton
- Chanvre, Jute, Ramie, Raphia, Sisal, (Liste non exhaustive)

3) Citez un pays producteur de lin en Europe.

- La France, la Belgique ou les Pays Bas

4) Cochez le code d'entretien correspondant à un tissu 100 % LIN blanc

					
					
X					

SESSION 2010	Sujet n°10C1146
CAP COUTURE FLOU EP1 partie B – Elaboration, technologie et préparation d'une fabrication	
CORRIGÉ	Page C 3/4

1) Quel nom et quel type de point correspond à cette machine ?

Son nom : Point *noué*

Son type : 301

2) Citez 2 organes en mouvement de la piqueuse plate.

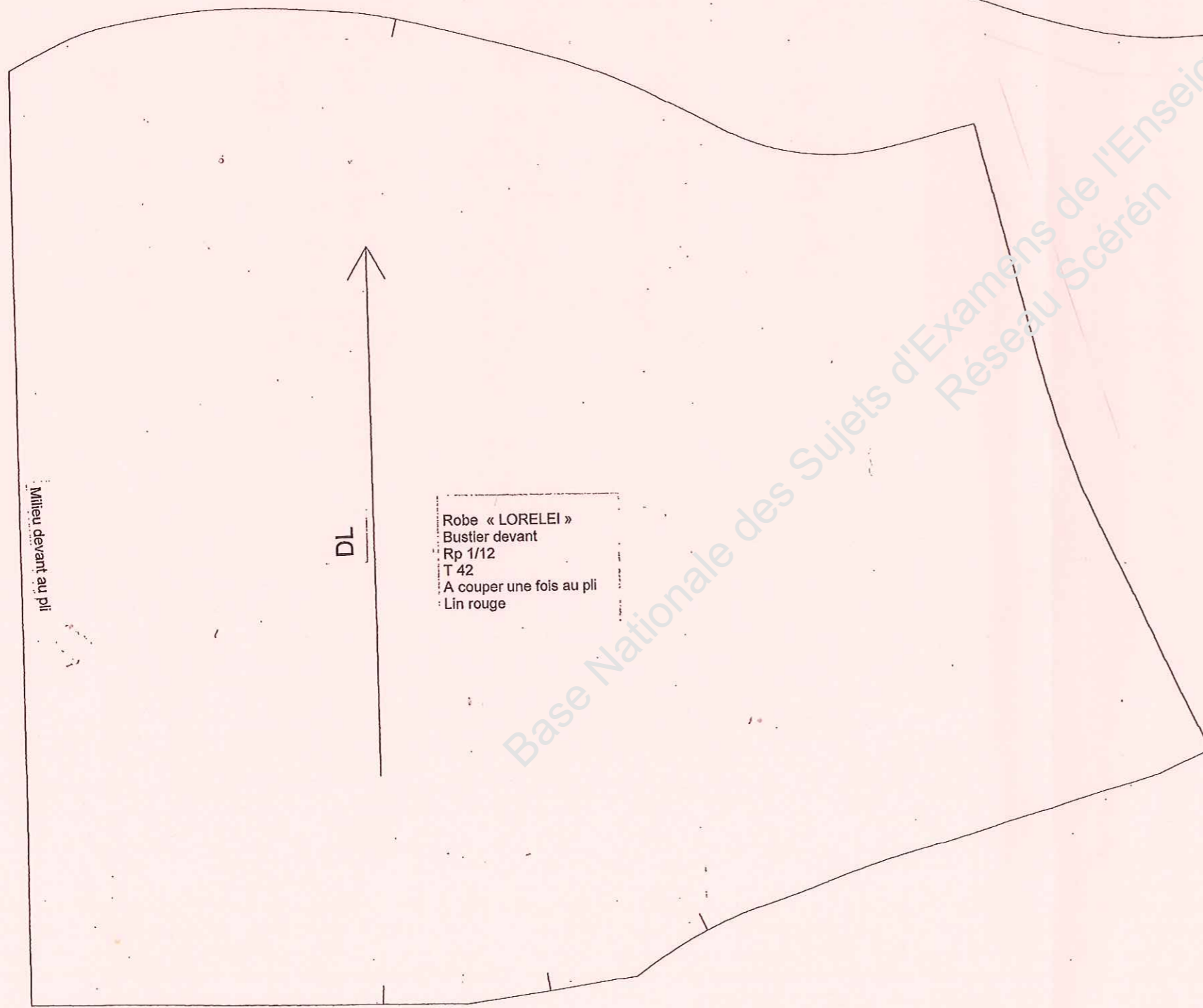
- L'aiguille
- Le releveur de fil
- Le volant, ... (liste non exhaustive)

3) Citez 2 protections de la piqueuse plate.

- Protège doigts
- Protège front, ... (liste non exhaustive)

4) Que risque t-on en insérant le boîtier à canette dans le crochet, sans arrêter la machine ?

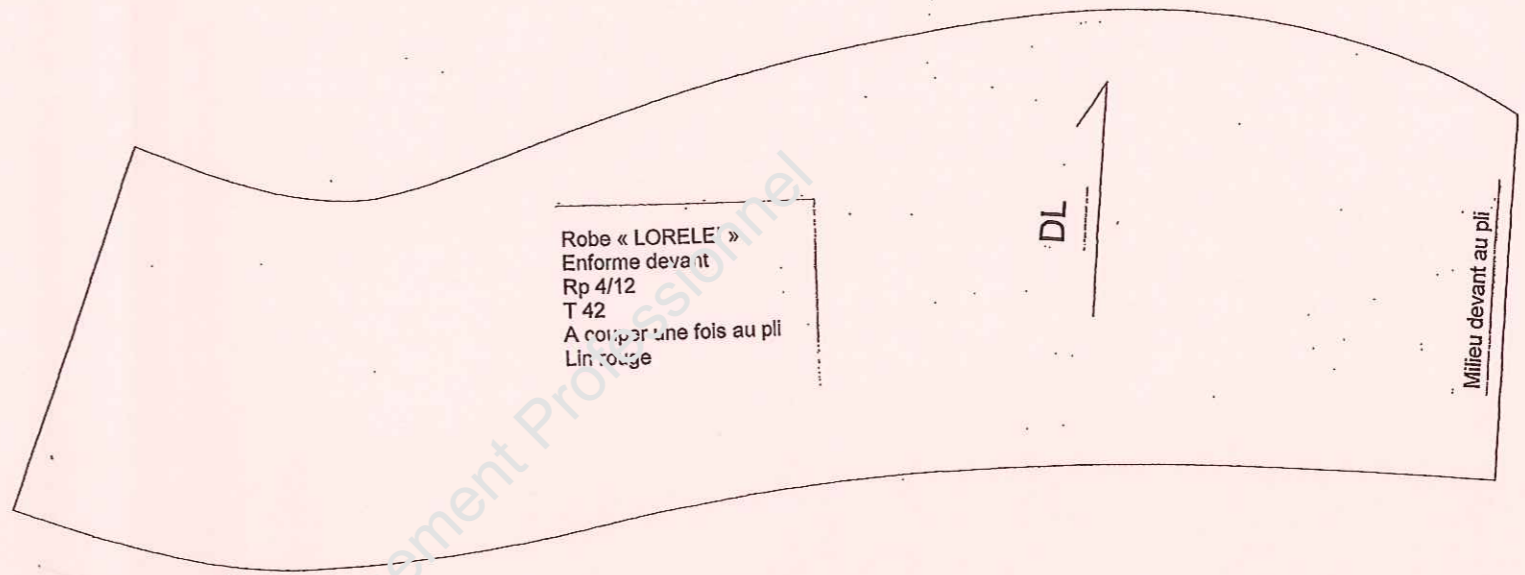
- On risque de se piquer le doigt en appuyant par erreur sur la pédale.



Robe « LORELEI »
 Bustier devant
 Rp 1/12
 T 42
 A couper une fois au pli
 Lin rouge

Milieu devant au pli

DL



Robe « LORELEI »
 Enforme devant
 Rp 4/12
 T 42
 A couper une fois au pli
 Lin rouge

Milieu devant au pli

DL

SESSION 2010	Sujet n° 10C1146
CAP COUTURE FLOU	
EP1 partie B – Elaboration, technologie et préparation d'une fabrication	
CORRIGÉ	Page C 4/4 a

PATRON DU DEVANT T 42

Bustier devant

Jupe devant

Enforme devant

« Voir planche jointe »

Base Nationale des Sujets d'Examens de l'Enseignement Professionnel
 Réseau Scérén

Base Nationale des Sujets d'Examens de l'Enseignement Professionnel
Réseau Scérén

DL

Robe « LORELEI »
Jupe devant
Rp 2/12
T 42
A couper une fois au pli
Lin rouge

Milieu devant au pli