



SERVICES CULTURE ÉDITIONS  
RESSOURCES POUR  
L'ÉDUCATION NATIONALE

**Ce document a été numérisé par le CRDP de Caen pour la  
Base Nationale des Sujets d'Examens de l'enseignement  
professionnel**



# SUJET

## Sommaire :

Dossier technique : pages DT 1/4 à DT 4/4

Dossier sujet : pages S 1/6 à S 6/6

Dans un atelier de retouches, une cliente demande de lui réaliser une robe pour l'été 2010.

## TRAVAIL DEMANDE

Vous devez concevoir le patronnage du devant.

- Ce devant comporte :
- Le bustier
  - La jupe
  - L'enforme encolure du bustier

Pour réaliser ce travail vous avez à votre disposition :

- Un dossier technique
- Le patron du devant de la robe de base T 42
- Deux feuilles de papier blanc format A1

Vous devez également répondre aux différentes questions de la partie technologique (documents à rendre) :

- Solutions technologiques (S 2 / 6)
- Technologie textile (S 3 / 6)
- Technologie machine (S 4 / 6)

## EXIGENCES

- Qualité et précision des tracés
- Pertinences des réponses

## COMPETENCES EVALUEES

- Lire et analyser les documents
- Participer à la construction d'un modèle



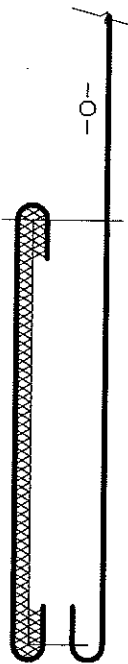
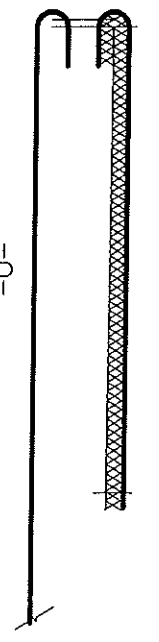

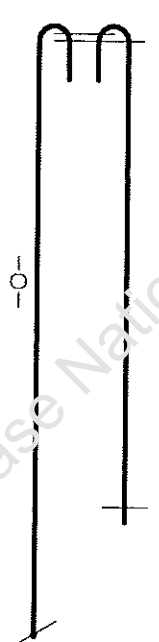
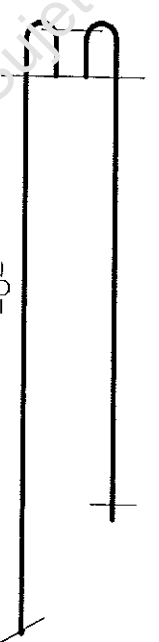
**NB : Le travail rendu est à mettre dans une enveloppe sur laquelle vous collerez l'étiquette d'anonymat.**

Session 2010		Sujet n°10C1146	
<b>CAP COUTURE FLOU</b>			
EP1 Mise au point d'un modèle, préparation d'une fabrication Partie B – Elaboration, technologie et préparation d'une fabrication			
Durée : 5 heures		Coefficient : 6 pour EP1	N° de page: S 1/6

Document à rendre

Un cahier des charges a été partiellement élaboré, des erreurs se sont glissées, vous devez les repérer.

**COCHER l'erreur**

BAS DE LA ROBE			
			
ENFORME BUSTIER			
			

Document à rendre

Pour compléter le cahier des charges, on demande d'étudier la matière de la robe « LORELEI ».

1) Quelle est son origine ? Cochez la ou les bonnes réponses.

	ORIGINE
<input type="checkbox"/>	Naturelle
<input type="checkbox"/>	Chimique
<input type="checkbox"/>	Animale
<input type="checkbox"/>	Végétale
<input type="checkbox"/>	Minérale
<input type="checkbox"/>	Artificielle
<input type="checkbox"/>	Synthétique
















2) Citez deux autres fibres textiles de la même origine.

- .....  
- .....

3) Citez un pays producteur de lin en Europe.

- .....

4) Cochez le code d'entretien correspondant à un tissu 100 % LIN blanc

<input type="checkbox"/>					
<input type="checkbox"/>					
<input type="checkbox"/>					

**Document à rendre**

L'atelier de retouches était jusqu'à présent équipé de machines à coudre familiales, la responsable d'atelier décide de remplacer ces machines par des piqueuses plates.

**1) Quel nom et quel type de point correspond à ces machines ?**

Son nom : Point .....

Son type : .....

**2) Citez 2 organes en mouvement de la piqueuse plate.**

- .....

- .....

- .....

**3) Citez 2 protections de la piqueuse plate.**

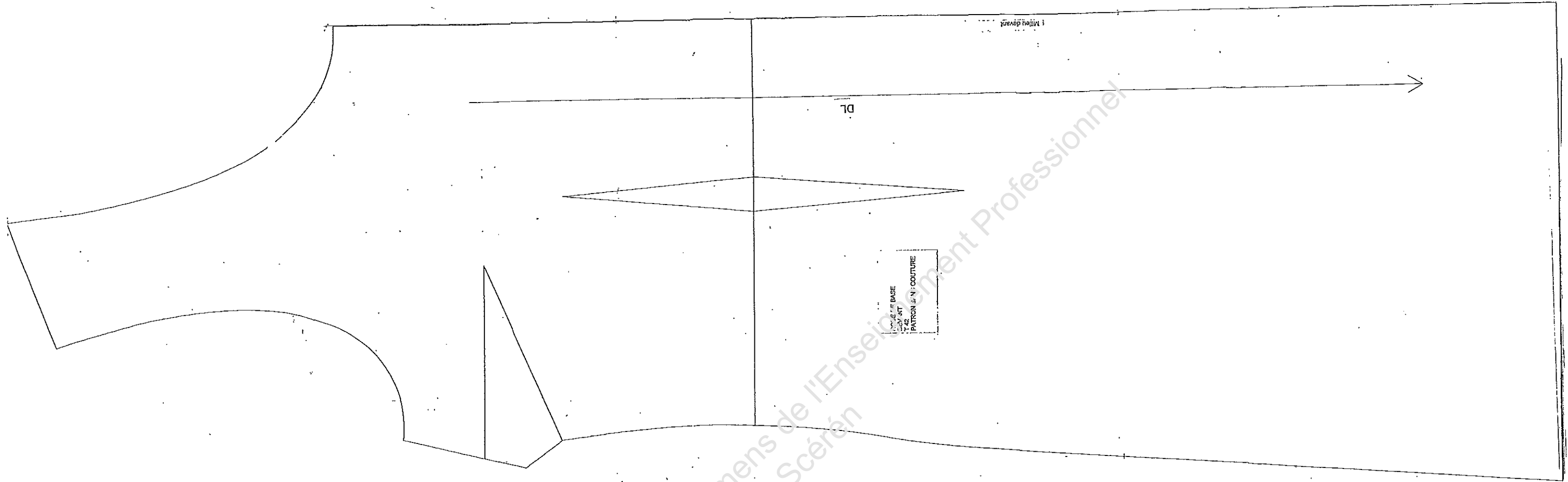
- .....

- .....

**4) Que risque t-on en insérant le boîtier à canette dans le crochet, sans arrêter la machine ?**

- .....

Base Nationale des Sujets d'Examens de l'Enseignement Professionnel  
Réseau Scérén



CAP COUTURE FLOU		Sujet N°10C1146
EP1 Mise au point d'un modèle, préparation d'une fabrication Partie B -- Elaboration, technologie et préparation d'une fabrication		Page 5/6

## ETIQUETTE d'ANONYMAT

✂-----  
Partie à coller sur l'enveloppe

<b>N° d'anonymat</b>	<i>à compléter par le centre d'examen</i>
SPECIALITE : CAP Couture flou	SESSION 2010
EPREUVE : EP1 Mise au point d'un modèle, préparation d'une fabrication, <b>Partie B – <u>Elaboration, technologie et préparation d'une fabrication</u></b>	

-----  
Partie à découper par le centre d'examen

<b>N° d'anonymat</b>	<i>à compléter par le centre d'examen</i>
<b>Partie à compléter par le candidat :</b>	
N° d'inscription : .....	
Nom : .....Prénom : .....	
Centre d'examen : .....	
SPECIALITE : CAP Couture flou	SESSION 2010
EPREUVE : EP1 Mise au point d'un modèle, préparation d'une fabrication, <b>Partie B – <u>Elaboration, technologie et préparation d'une fabrication</u></b>	

✂-----